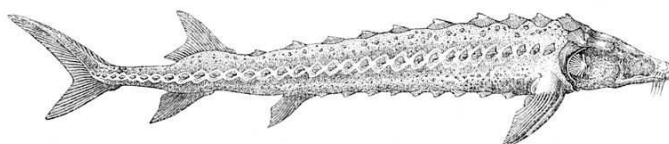
	OP VK 1.4. – dotace č. 3937/21/7.1.4/2011 Základní škola a Mateřská škola, Otnice, okres Vyškov
Jméno	Mgr. Ludmila Vojáčková
Číslo klíčové aktivity a název materiálu	III/2 Pracovní list – Přírodní podmínky Asie - A
Interní číslo materiálu	VY_32_INOVACE_Z.VLu.7.08



Přírodní podmínky Asie – skupina A

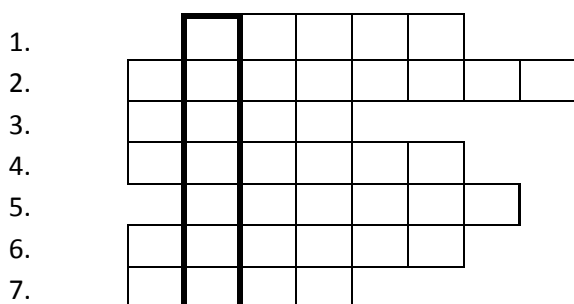
(Školní atlas světa, Kartografie Praha, a.s., 2004, 2005)

- Asie leží převážně na severní nebo jižní polokouli?
- Asie je velmi členitý světadíl. Zapiš 2 velké poloostrovy:
- Velmi členitý je povrch – zapiš 2 nížiny:
- Zapiš 3 řeky, které ústí do Severního ledového oceánu:
- Které řeky protékají Mezopotámskou nížinou?
- Největší jezero a zásobárna sladké vody na světě je jezero -
- Tropické podnebí J, JV a V Asie ovlivňují pravidelné větry -
- Vyhledej teplotní maximum kontinentu Asie:, místo -
- Vyhledej průměrné roční srážky ostrova Sumatra:
- Území podél 60° s. š. pokrývá přírodní krajina (vegetační pásmo) -
- Vytvoř logické dvojice: přírodní krajina – zvíře vyber z nabídky


Polární pustiny	-
Tundra	-
Tajga	-
Step	-
Pouště, polopouště	-
Monzunový les	-
Tropický deštný les	-

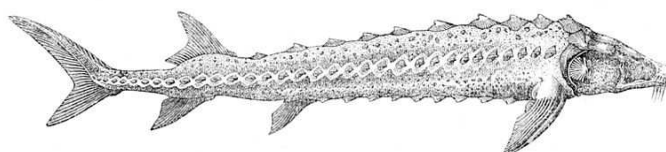
Zvířata: vlk obecný, slon indický, štír, tuleň, polární liška, divoký králík, orangutan

- Vylušti doplňovačku – v tajence najdeš název ryby na obrázku (řekni, co o ní víš)



- poloostrov na severu pevniny
 plošina vyplňující poloostrov Přední Indie
 Poloostrov Malá
 řeka tekoucí poloostrovem Zadní Indie
 řeka ústící do Perského zálivu
 ostrov na jihu Asie
 pohoří na 60° v. d.

	OP VK 1.4. – dotace č. 3937/21/7.1.4/2011 Základní škola a Mateřská škola, Otnice, okres Vyškov
Jméno	Mgr. Ludmila Vojáčková
Číslo klíčové aktivity a název materiálu	III/2 Pracovní list – Přírodní podmínky Asie - B
Interní číslo materiálu	VY_32_INOVACE_Z.VLu.7.08



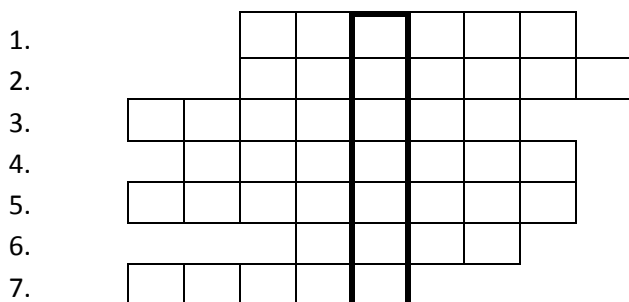
Přírodní podmínky Asie – skupina B

(Školní atlas světa, Kartografie Praha, a.s., 2004, 2005)

1. Asie leží převážně na východní nebo západní polokouli?
2. Asie je velmi členitý světadíl. Zapiš 2 velké zálivy:
3. Velmi členitý je povrch – zapiš 2 vysoká pohoří:
4. Zapiš 3 řeky, které ústí do Tichého oceánu:
5. Které řeky protékají Indoganžskou nížinou?
6. Největší proláklina Asie a zároveň nejnižší místo na světě je -
7. V nížinách jsou úrodné půdy, na severu dlouhodobě zmrzlá půda, tzv. -
8. Vyhledej teplotní minimum kontinentu Asie:, místo -
9. Vyhledej průměrné roční srážky většiny území Arabského po.:
10. Značnou část po. Přední Indie pokrývá přírodní krajina (vegetační pásmo) -
11. Vytvoř logické dvojice: přírodní krajina – zvíře vyber z nabídky
 - Polární pustiny -
 - Tundra -
 - Tajga -
 - Step -
 - Pouště, polopouště -
 - Monzunový les -
 - Tropický deštný les -

Zvířata: panda velká, syseľ, medvěd lední, sob polární, velbloud, orangutan, jelen

12. Vylušti doplňovačku – v tajence najdeš název ryby na obrázku (řekni, co o ní víš)



- nejhlušší jezero světa
- průplav oddělující Asii od Afriky
- největší poloostrov světa
- ostrov v souostroví Velké Sundy
- obrovská náhorní plošina
- řeka
- pohoří - "Střecha světa"

Zdroj:

Zeměpis pro 7. ročník: Putování po světadílech, 2. díl Asie, Austrálie a Oceánie, Antarktida. Bratislavská 23d, 602 00 Brno: NOVÁ ŠKOLA, s. r. o., 2009. ISBN 80-7289-096-4.

Školní atlas světa. Ostrovní 30,110 00 Praha 1: Kartografie Praha, a. s., 2005. ISBN 80-7011-730-3.

Řešení doplňovaček:

Skupina A

1.		J	A	M	A	L		
2.	D	E	K	A	N	S	K	Á
3.	A	S	I	E				
4.	M	E	K	O	N	G		
5.		T	I	G	R	I	S	
6.	C	E	J	L	O	N		
7.	U	R	A	L				

- poloostrov na severu pevniny
- plošina vyplňující po. Přední Indie
- poloostrov Malá
- řeka tekoucí poloostrovem Zadní Indie
- řeka ústící do Perského zálivu
- ostrov na jihu Asie
- pohoří na 60° v. d.

Skupina B

1.			B	A	J	K	A	L	
2.			S	U	E	Z	S	K	Ý
3.	A	R	A	B	S	K	Ý		
4.		C	E	L	E	B	E	S	
5.	T	I	B	E	T	S	K	Á	
6.				L	E	N	A		
7.	P	A	M	Í	R				

- nejhlubší jezero světa
- průplav oddělující Asii od Afriky
- největší poloostrov světa
- ostrov v souostroví Velké Sundy
- obrovská náhorní plošina
- řeka
- pohoří - "Střecha světa"