



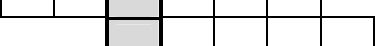



	<p>OP VK 1.4. – dotace č. 3937/21/7.1.4/2011 Základní škola a Mateřská škola, Otnice, okres Vyškov</p>
Jméno	Mgr. Ludmila Vojáčková
Číslo klíčové aktivity a název materiálu	III/2 Pracovní list – Jižní a jihovýchodní Asie; opakování - A
Interní číslo materiálu	VY_32_INOVACE_Z.VLu.7.14

Jižní a jihovýchodní Asie – A

(Školní atlas světa, Kartografie Praha, a.s., 2004, 2005)

1. Území je omýváno řadou moří, uveď 3 moře -
2. Jižní Asie je tvořena i vysokohorskými státy, zapiš 2 -
3. Obyvatelstvo těchto regionů žije hlavně (podtrhni správný pojem): na venkově – ve městech.
4. Náboženstvím většiny lidí Indie je
5. Nejúrodnější oblastí jižní Asie je nížina.
6. Jihovýchodní Asii tvoří i souostrovní, zapiš 3 -
7. Turisté z ČR navštěvují v JV Asii hlavně stát
8. Z JV Asie se vyvážejí nerostné suroviny, zapiš 3 nejdůležitější -
9. Poznej stát: a) Dillí, Ganga, hindština -
b) rýže, menšina v ČR, Hanoj -
10. Který stát těchto regionů sahá nejvíce na jih -, na západ -
11. Kterými státy těchto regionů prochází 80° v. d. -
12. Vyber správně: a) Thajsko vyvážejí ve velkém: zlato – auta – rýži
b) Velké množství činných sopek je v: Indii – Indonésii – Laosu
c) Myanmar (Barma) sousedí s: Malajsií– Srí Lankou – Thajskem

13. Doplň:

- | | | |
|----|---|-----------------------------------|
| 1. |  | nejvyšší pohoří světa |
| 2. |  | posvátná řeka hinduistů |
| 3. |  | ostrov (Sulawesi) |
| 4. |  | řeka na po. Zadní Indie |
| 5. |  | zakladatel buddhismu |
| 6. |  | druhý nejlidnatější stát světa |
| 7. |  | plodina na výrobu nápoje |
| 8. |  | obživa obyvatel přímořských států |

Tajenka: Mnoho menších ostrovů korálového původu tvoří stát

Řešení:

Jižní a jihovýchodní Asie – A

1. Území je omýváno řadou moří, uveď 3 moře – **např. Arabské, Jihočínské, Jávské**
2. Jižní Asie je tvořena i vysokohorskými státy, zapiš 2 – **Nepál, Bhútán**
3. Obyvatelstvo těchto regionů žije hlavně (podtrhni správný pojem): na venkově – ve městech.
4. Náboženstvím většiny lidí Indie je **hinduismus**.
5. Nejúrodnější oblastí jižní Asie je **Indoganžská nížina**.
6. Jihovýchodní Asii tvoří i souostroví, zapiš 3 – **Velké Sudy, Malé Sudy, Filipíny**
7. Turisté z ČR navštěvují v JV Asii hlavně stát Thajsko.
8. Z JV Asie se vyvážejí nerostné suroviny, zapiš 3 nejdůležitější – **ropa, zemní plyn, cín, uhlí,**
9. Poznej stát: a) Dillí, Ganga, hindština - **Indie**
b) rýže, menšina v ČR, Hanoj - **Vietnam**
10. Který stát těchto regionů sahá nejvíce na jih - **Indonésie**, na západ - **Pákistán**
11. Kterými státy těchto regionů prochází 80° v. d. – **Čína, Srí Lanka**
12. Vyber správně: a) Thajsko vyvážejí ve velkém: zlato – auta – **rýži**
b) Velké množství činných sopek je v: Indii – **Indonésii** – Laosu
c) Myanmar (Barma) sousedí s: Malajsií- Srí Lankou – **Thajskem**

13. Doplň:

- | | | | | | | | | | |
|----|---|---|----------|---|---|---|---|--------------------------------|-----------------------------------|
| 1. | H | I | M | Á | L | A | J | nejvyšší pohoří světa | |
| 2. | | G | A | N | G | A | | posvátná řeka hinduistů | |
| 3. | C | E | L | E | B | E | S | ostrov (Sulawesi) | |
| 4. | | M | E | K | O | N | G | řeka na po. Zadní Indie | |
| 5. | B | U | D | D | H | A | | zakladatel buddhismu | |
| 6. | | | I | N | D | I | E | druhý nejlidnatější stát světa | |
| 7. | K | Á | V | O | V | N | Í | K | plodina na výrobu nápoje |
| 8. | | R | Y | B | O | L | O | V | obživa obyvatel přímořských států |

Tajenka: Mnoho menších ostrovů korálového původu tvoří stát **MALEDIVY**.

Zdroj:

Zeměpis pro 7. ročník: Putování po světadílech, 2. díl Asie, Austrálie a Oceánie, Antarktida. Bratislavská 23d, 602 00 Brno: NOVÁ ŠKOLA, s. r. o., 2009. ISBN 80-7289-096-4.

Školní atlas světa. Ostrovní 30, 110 00 Praha 1: Kartografie Praha, a. s., 2005. ISBN 80-7011-730-3.