


	OP VK 1.4. – dotace č. 3937/21/7.1.4/2011 Základní škola a Mateřská škola, Otnice, okres Vyškov
Jméno	Mgr. Ludmila Vojáčková
Číslo klíčové aktivity a název materiálu	III/2 Pracovní list – Jižní a jihovýchodní Asie; opakování – B
Interní číslo materiálu	VY_32_INOVACE_Z.VLu.7.14

Jižní a jihovýchodní Asie – B

(Školní atlas světa, Kartografie Praha, a.s., 2004, 2005)

- Území je tvořeno 3 poloostrovy, zapiš jejich názvy -
- Jižní Asii tvoří hlavně stát a v ní rozsáhlá plošina.
- Velmi důležité jsou větry, které přinášejí pravidelné vydatné srážky.
- Většina obyvatel pracuje v
- Řada obyvatel jižní Asie, i přes velká stáda skotu, trpí
- Jihovýchodní Asie je tvořena mnoha ostrovy, zapiš 3 -
- Náboženstvím většiny lidí JV Asie je
- Z JV Asie se vyváží zemědělské plodiny, zapiš 3 - nejvíce, dále
- Poznej stát: a) činné sopky, Jakarta, Sumatra -
b) rýže, Bangkok, Mekong -
- Který stát těchto regionů sahá nejvíce na sever -, na východ -
- Kterými státy těchto regionů prochází 30° s. š. -
- Vyber správně: a) V ČR žije početná menšina: Filipínců – Vietnamců – Indonésanů
b) Strategický nejvýhodnější polohu má: Bhútán – Pákistán – Singapur
c) Malajsie sousedí s: Kambodžou – Thajskem - Indií

13. Doplň:

- | | | |
|----|---|--|
| 1. |  | náboženství pronikající z Arabského po. |
| 2. |  | základní potravina obyvatel |
| 3. |  | pohoří - horský uzel |
| 4. |  | hlavní město státu Filipíny |
| 5. |  | ostrov v so. Velké Sundy |
| 6. |  | záliv Indického oceánu |
| 7. |  | posvátné zvíře hinduistů |
| 8. |  | plodina na výrobu nápoje – cejlonský |

Tajenka: Ostrovním státem jižní Asie, který je známý vývozem čaje, je stát

