



evropský
sociální
fond v ČR



EVROPSKÁ UNIE



MINISTERSTVO ŠKOLSTVÍ,
MLÁDEŽE A TĚLOVÝCHOVY



OP Vzdělávání
pro konkurenceschopnost

INVESTICE DO ROZVOJE VZDĚLÁVÁNÍ

VY_42_INOVACE_02_05_CISLA5_STRNADLOVA

NÁZEV ŠKOLY: Základní škola Heřmanice u Oder

okres Nový Jičín, příspěvková organizace

ČÍSLO PROJEKTU: CZ.1.07/1.4.00/21.3078

POČET STRAN: 4

AUTOR: Hana Strnadlová Pastorková

DATUM PILOTOVÁNÍ: DD.MM.RRRR

ROČNÍK, PRO KTERÝ JE VÝUKOVÝ MATERIÁL URČEN: I.

PŘEDMĚT: Matematika

VZDĚLÁVACÍ OBLAST/TÉMA HODINY:

Číselná řada, hodnota čísel od 1 do 10, rovinné

obrazce a geometrické pojmy

Anotace

Tento UM vede žáky nenásilně k zájmu o matematiku. Učí je vnímat obrázky matematicky. Současně umožňuje vytvářet předpoklady ke schopnosti soustředit se po určitou dobu, hovořit a přemýšlet nad zadaným úkolem.

Doporučení: používat barevné pastelky.

Citace

Ilustrace:


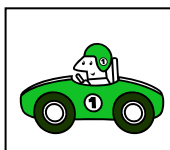








- Kliparty MS Office www.office.microsoft.com

Texty:

- Autorem materiálu a všech jeho částí je Hana Strnadlová Pastorková

1. Přiřaď ke každému číslu daný počet autíček.

① ② ③ ④ ⑤ ⑥ ⑦ ⑧ ⑨ ⑩



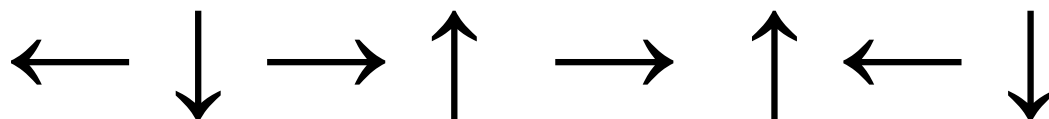
2. Doplň číselnou řadu.

 3 **5** **8** **10**


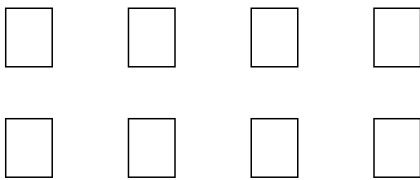
3. Nakresli do tohoto rámečku 2 obdélníky.

--

4. Šipky, které míří doleva zakroužkuj modře, doprava oranžově, nahoru žlutě a dolů zeleně.



5. Vybarvi v každé skupině tolik předmětů, kolik určuje daná číslice.

5	
4	
8	