

Základní škola praktická Halenkov

VY_32_INOVACE_02_03_08

MA/počítání do 10



evropský
sociální
fond v ČR



EVROPSKÁ UNIE



MINISTERSTVO ŠKOLSTVÍ,
MLÁDEŽE A TĚLOVÝCHOVY



OP Vzdělávání
pro konkurenceschopnost

INVESTICE DO ROZVOJE VZDĚLÁVÁNÍ

| | |
|--|---|
| Číslo projektu | CZ.1.07/1.4.00/21.3185, Moderní škola |
| Klíčová aktivita | III/2 Vzdělávání pedagogických pracovníků pro oblast digitálních technologií |
| Zařazení učiva v rámci ŠVP | 1. ročník ZŠS |
| Ověřeno | 6.5.2013/ zapsáno do TK/ |
| Název DUMu | Počítání do čísla 5. |
| Anotace | Pracovní list se týká výuky psaní, čtení a počítání. Děti si procvičí počítání do 5. |
| Autor | Mgr. Olga Tomková |
| Očekávaný výstup | Naučení a procvičení daného tématu. |
| Druh učebního materiálu | Pracovní list. |
| Použitý zdroj: Viz. poslední strana | |

Počítání do 5

1  Vypočítej příklady :

$1 + 3 =$

$3 + 2 =$

$2 + 2 =$

$2 + 1 =$

$4 + 1 =$

$3 + 1 =$

$1 + 2 =$

$1 + 4 =$

$1 + 1 =$

$2 + 2 =$

2  Vypočítej příklady :

$5 - 1 =$

$3 - 2 =$

$4 - 3 =$

$5 - 2 =$

$3 - 1 =$

$5 - 4 =$


$5 - 3 =$

$4 - 2 =$

$4 - 1 =$

$2 - 1 =$

3 Dopiš rozklady čísel podle znázornění :



4 Porovnej a dopiš znaky větší >, menší < nebo rovná se =

$5 \square 1$

$2 \square 3$

$1 \square 5$

$4 \square 2$

$1 \square 3$

$5 \square 3$

$3 \square 3$

$4 \square 5$

$2 \square 5$

$4 \square 3$

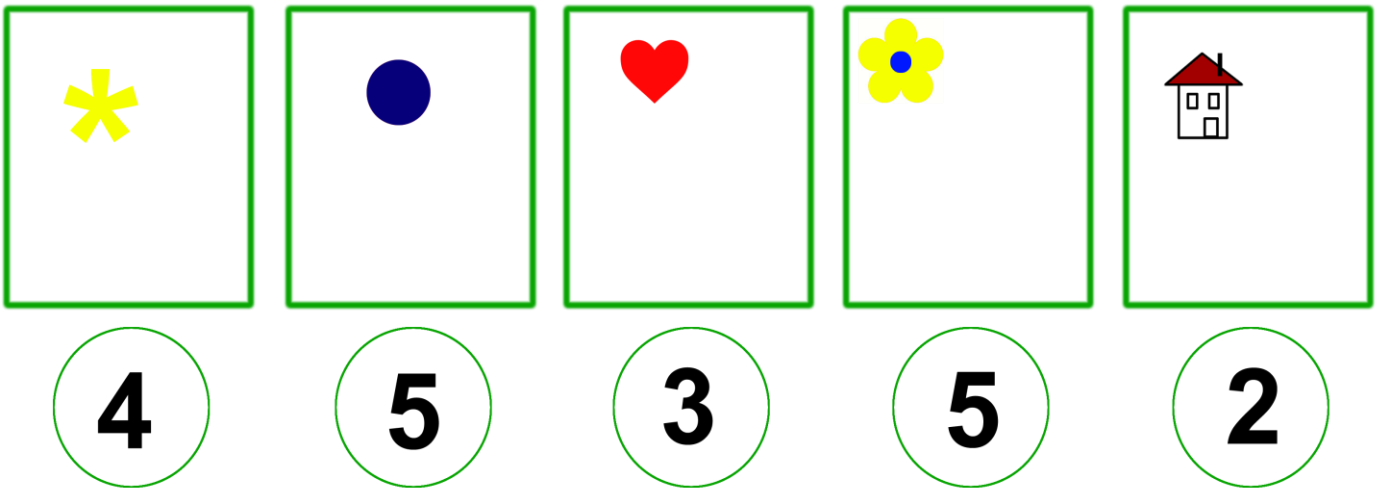
$5 \square 5$

$1 \square 1$

5 Dopiř rozklady :



6 Dokresli obrázky podle čísla :



7 Míla má 3  a 2  .
Kolik má _____ celkem ?



Míla má _____ balónků.




8 Ivan má 5  . 3 snědl.

Kolik má švestek ?

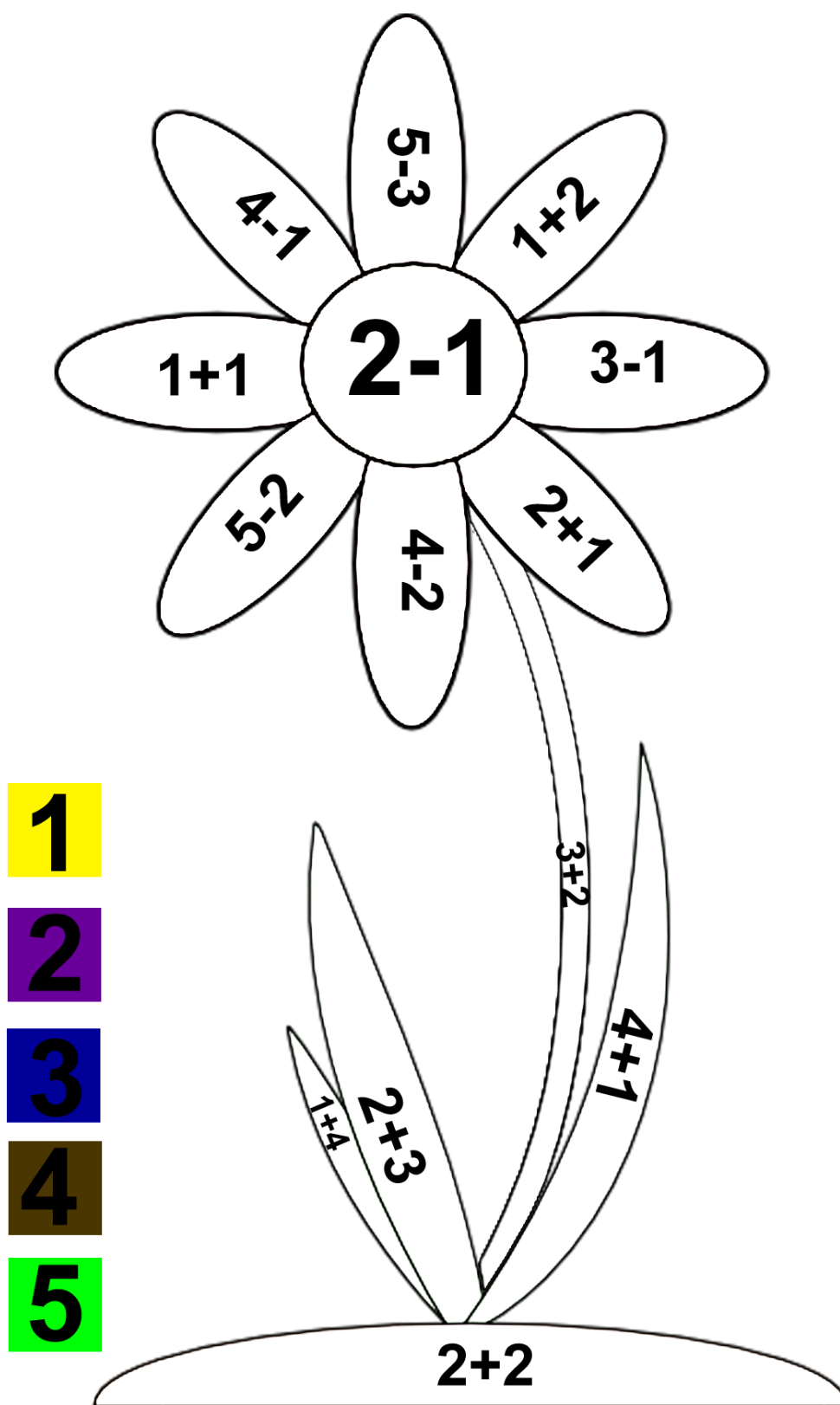


Ivan má _____ švestek.

9 Napiš příklad a vypočítej :



10 Vybarvi obrázek správnou pastelkou :



11 Vybarvi to číslo, které patří ke znaménku :

| | | | | | |
|---------------|----------|----------|----------|----------|----------|
| 5 > | 1 | 2 | 3 | 4 | 5 |
| 2 < | 1 | 2 | 3 | 4 | 5 |
| 5 = | 1 | 2 | 3 | 4 | 5 |

K úkolu č. 8

švestka - <http://ec.l.thumbs.canstockphoto.com/canstock6156562.jpg>

K úkolu č. 9

jelen - <http://www.how-to-draw-funny-cartoons.com/image-files/cartoon-deer-8.gif>

bonbón -

http://www.clker.com/cliparts/2/f/a/d/1227974557455141889pitr_Candy_icon.svg.med.png

kytka - http://www.clker.com/cliparts/9/d/f/5/1194986562576271707red_flower_03.svg.hi.png

vlk - http://www.drawingcoach.com/image-files/cartoon_wolf_st5.gif

karkulka -

<http://us.123rf.com/400wm/400/400/cteconsulting/cteconsulting0910/cteconsulting091000715/5793547-little-red-riding-hood-costume-isolated-on-a-white-background.jpg>