

**Základní škola praktická Halenkov**

**VY\_32\_INOVACE\_02\_03\_11**

**MA/počítání do 10**



**INVESTICE DO ROZVOJE VZDĚLÁVÁNÍ**

<b>Číslo projektu</b>	CZ.1.07/1.4.00/21.3185, Moderní škola
<b>Klíčová aktivita</b>	III/2 Vzdělávání pedagogických pracovníků pro oblast digitálních technologií
<b>Zařazení učiva v rámci ŠVP</b>	1. ročník ZŠS
<b>Ověřeno</b>	15.5.2013/ zapsáno do TK/
<b>Název DUMu</b>	Počítání do čísla 6.
<b>Anotace</b>	Pracovní list se týká výuky psaní, čtení a počítání. Děti si procvičí počítání do 6.
<b>Autor</b>	Mgr. Olga Tomková
<b>Očekávaný výstup</b>	Naučení a procvičení daného tématu.
<b>Druh učebního materiálu</b>	Pracovní list.
<b>Použitý zdroj:</b> Viz. poslední strana	

## Počítání do 6

**1** Vypočítej příklady :

$1 + 5 =$

$3 + 3 =$

$2 + 3 =$

$2 + 2 =$

$4 + 2 =$

$1 + 3 =$

$4 + 1 =$

$1 + 2 =$

$1 + 1 =$

$2 + 4 =$

$3 + 2 =$

$3 + 1 =$

**2** Vypočítej příklady :

$6 - 4 =$

$3 - 2 =$

$6 - 2 =$

$2 - 1 =$

$5 - 1 =$

$6 - 5 =$

$4 - 3 =$

$5 - 3 =$

$6 - 3 =$

$4 - 2 =$


$5 - 2 =$

$3 - 1 =$


$6 - 1 =$

$4 - 1 =$

**3** Dopiš rozklady čísel podle znázornění :



**4** Dopiš rozklady :



5 Porovnej a dopiš znaky větší >, menší < nebo rovná se =

$6 \square 2$

$5 \square 6$

$2 \square 6$

$4 \square 6$

$1 \square 6$

$6 \square 6$

$6 \square 1$

$6 \square 4$

$5 \square 5$

$6 \square 3$

$5 \square 4$

$3 \square 6$

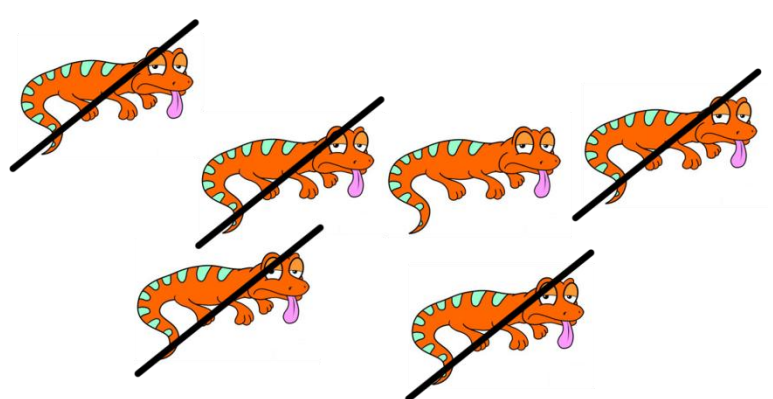


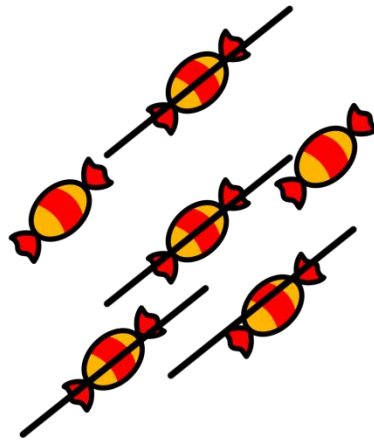

$6 \square 5$

$5 \square 3$

$2 \square 3$

$4 \square 4$

6 Napiš příklady a vypočítej :




7 Eva má 3  . Bára má 3  .

Kolik mají dohromady ?

Eva a Bára      

\_\_\_\_\_


Eva a Bára mají \_\_\_\_\_ jablek a hrušek.

8 Sabča měla 6  .

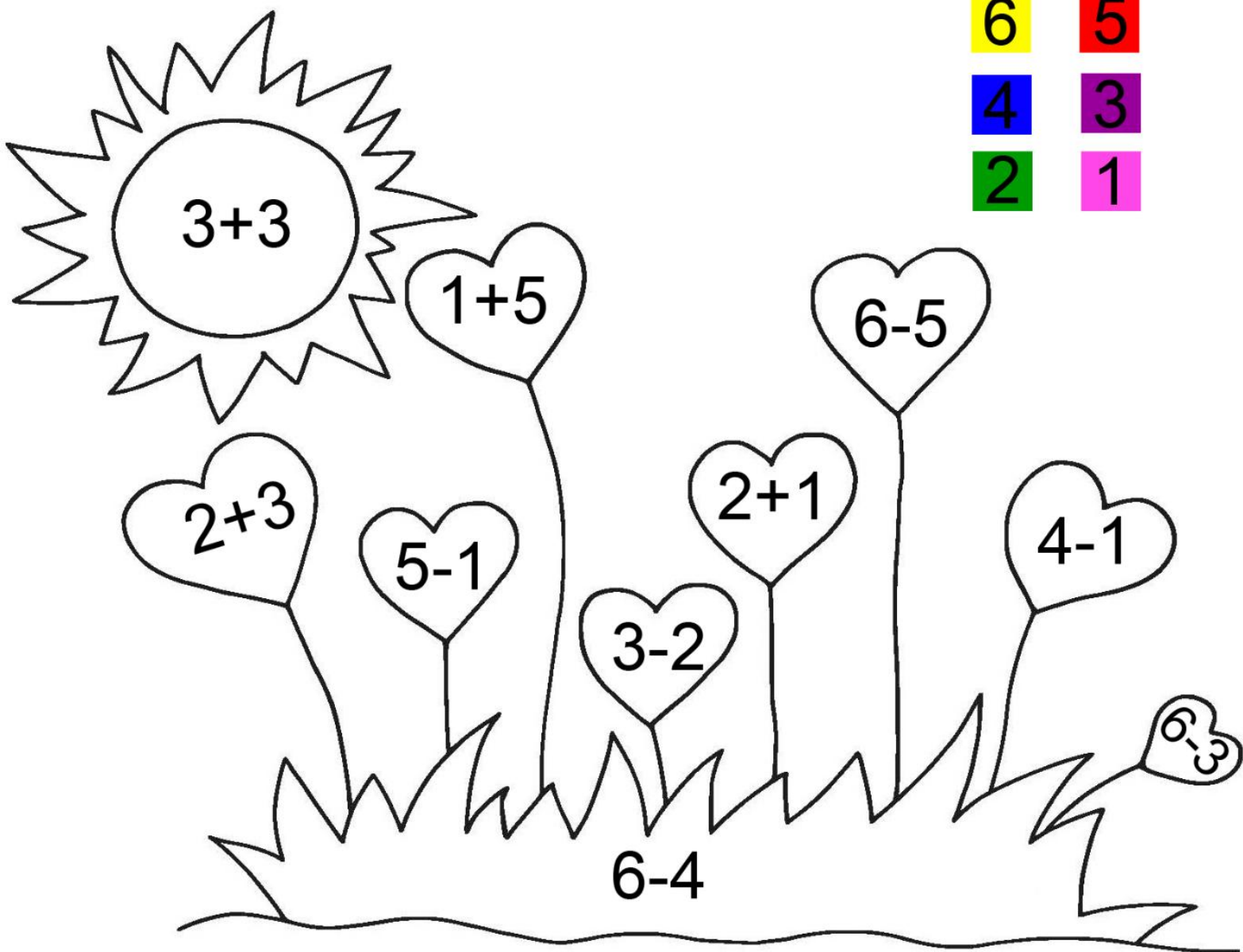
2  snědla.

Kolik jí zůstalo ?



Sabči zbylo \_\_\_\_\_  .

9 Vybarvi obrázek správnou pastelkou :



K úkolu č. 6

bonbón -

[http://www.clker.com/cliparts/2/f/a/d/1227974557455141889pitr\\_Candy\\_icon.svg.med.png](http://www.clker.com/cliparts/2/f/a/d/1227974557455141889pitr_Candy_icon.svg.med.png)

pes - <http://gutn.net/images/42091-tlc-family-how-to-draw-a-dog.jpg>

beruška - <http://knkzingreview.com/wp-content/uploads/2012/11/ladybug-cartoon-knkzingreview.png>

ještěrka - [http://images.hellokids.com/\\_uploads/\\_tiny\\_galerie/20100519/how-to-draw-lizard-10\\_lfi.jpg](http://images.hellokids.com/_uploads/_tiny_galerie/20100519/how-to-draw-lizard-10_lfi.jpg)

K úkolu č. 7

jablko - [http://pam-ball.com/store/images/categories/4095\\_cartoon\\_red\\_aplle.gif](http://pam-ball.com/store/images/categories/4095_cartoon_red_aplle.gif)

hruška - [http://www.hasslefreeclipart.com/clipart\\_food/fruit/pear2.gif](http://www.hasslefreeclipart.com/clipart_food/fruit/pear2.gif)

K úkolu č. 8

bonbón -

[http://www.clker.com/cliparts/2/f/a/d/1227974557455141889pitr\\_Candy\\_icon.svg.med.png](http://www.clker.com/cliparts/2/f/a/d/1227974557455141889pitr_Candy_icon.svg.med.png)

K úkolu č. 9

Omalovánka - <http://www.predskolaci.cz/wp-content/uploads/2010/01/valentyn-slunicko.jpg>