

Základní škola praktická Halenkov

VY_32_INOVACE_02_03_13

MA/počítání do 10



INVESTICE DO ROZVOJE VZDĚLÁVÁNÍ

Číslo projektu	CZ.1.07/1.4.00/21.3185, Moderní škola
Klíčová aktivita	III/2 Vzdělávání pedagogických pracovníků pro oblast digitálních technologií
Zařazení učiva v rámci ŠVP	1. ročník ZŠS
Ověřeno	22.5.2013/ zapsáno do TK/
Název DUMu	Počítání do čísla 7.
Anotace	Pracovní list se týká výuky psaní, čtení a počítání. Děti si procvičí počítání do 7.
Autor	Mgr. Olga Tomková
Očekávaný výstup	Naučení a procvičení daného tématu.
Druh učebního materiálu	Pracovní list.
Použitý zdroj: Viz. poslední strana	

Počítání do 7

1 Vypočítej příklady :

$3 + 4 =$

$5 + 1 =$

$2 + 5 =$

$1 + 4 =$

$1 + 6 =$

$3 + 3 =$

$4 + 2 =$

$2 + 2 =$

$1 + 3 =$

$3 + 4 =$

$3 + 2 =$

$5 + 2 =$

2 Vypočítej příklady :

$7 - 3 =$

$2 - 1 =$

$6 - 4 =$

$7 - 4 =$

$5 - 1 =$

$3 - 2 =$

$7 - 2 =$

$6 - 5 =$

$6 - 3 =$

$7 - 6 =$

$7 - 1 =$

$4 - 3 =$

$4 - 2 =$

$7 - 5 =$

3 Porovnej a dopiš znaky větší >, menší < nebo rovná se =

$6 \square 7$

$6 \square 3$

$4 \square 7$

$7 \square 2$

$7 \square 7$

$4 \square 4$

$7 \square 1$

$5 \square 3$


$5 \square 7$

$1 \square 3$





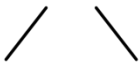

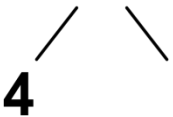
$5 \square 4$

$2 \square 6$


4 Dopiš rozklady čísel podle znázornění:






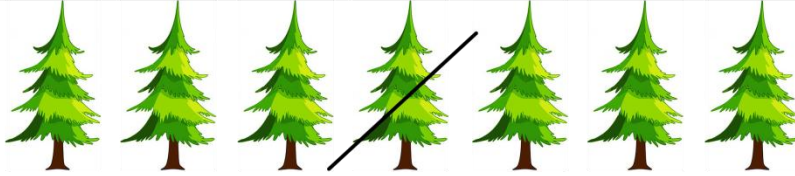
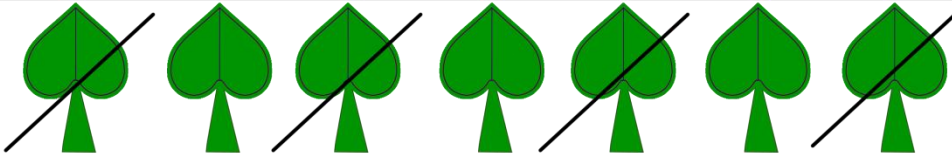
7



5 Dopiš rozklady :



6 Napiš příklady a vypočítej :



7 Martin má 5  a 2  .


Kolik má dohromady ?

Martin má






Martin má _____ autíček.

8 Tom má 7  .


4  zvadly.

Kolik mu zůstalo ?



Tomovi zbylo _____ kytek.

9 Vybarvi obrázek správnou pastelkou :



K úkolu č. 4

jablko - http://pam-ball.com/store/images/categories/4095_cartoon_red_aplle.gif

K úkolu č. 6

jablko - http://pam-ball.com/store/images/categories/4095_cartoon_red_aplle.gif

strom - <http://www.fiddlersgreen.net/miscellaneous/SPRUCE-TREE/IMAGES/SPRUCE-TREE-cartoon.jpg>

slunce - http://lessoncast.org/wp-content/uploads/2012/12/bright_sun1.png

K úkolu č. 7

auto - <http://www.search-best-cartoon.com/cartoon-cars/cartoon-cars-63.jpg>

auto - <http://4.bp.blogspot.com/--NpiPEKD-sc/UD4gvkSPLuI/AAAAAAAAES0/N8fPVo7MJKY/s1600/Lamborghini+Murcielago+LP670-4+SV.jpg>

K úkolu č. 8

tulipán - http://www.how-to-draw-cartoons-online.com/image-files/tulip_drawing.gif

K úkolu č. 9

Omálovánka - http://www.biogena.cz/data/velikonoce_2013/kure-slepice-26-2010.jpg