

Základní škola Kostelec u Křížků, okres Praha – východ

Kostelec u Křížků 48, 251 68 Kamenice, tel.: 323 673 134, IČO: 750 31 663



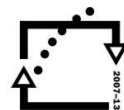
evropský
sociální
fond v ČR



EVROPSKÁ UNIE



MINISTERSTVO ŠKOLSTVÍ,
MLÁDEŽE A TĚLOVÝCHOVY



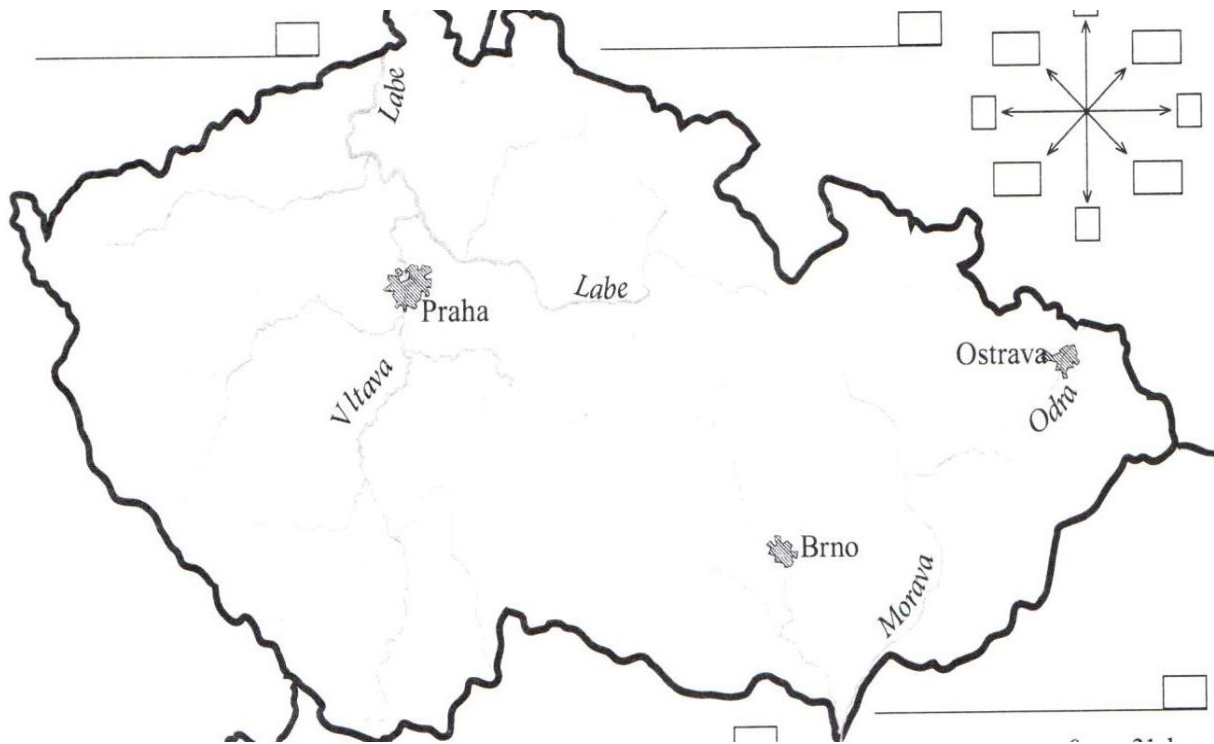
OP Vzdělávání
pro konkurenceschopnost

INVESTICE DO ROZVOJE VZDĚLÁVÁNÍ

Moderní škola

Anotace výukového materiálu	
Číslo učebního materiálu	OP VK VY_32_INOVACE_VL.19
Autor	Mgr. Alena Šreplová
Datum	1.8.2012
Ročník	5. ročník
Vzdělávací oblast	Člověk a jeho svět
Vyučovací předmět	Vlastivěda
Tematický okruh	Přírodní poměry ČR
Téma	Česká republika – slepá mapa + práce s atlasem
Druh interaktivity	Pracovní list + mapa ČR
Cílová skupina	Žák
Stupeň a typ vzdělávání	Základní vzdělávání
Popis způsobu použití	Žáci vyhledají v mapě ČR zadané údaje a zakreslí je do slepé mapy. Učí se pracovat se slepou mapou a zároveň si zopakují přírodní poměry ČR.

Česká republika – slepá mapa + práce s atlasem



Pracuj s mapou ČR a slepou mapou:

A. Z vnější strany hranic ČR doplň názvy států našich sousedů a dopiš i světovou stranu vzhledem k poloze Prahy (můžeš použít zkratky).

B. Vyznač pomocí čísel a názvu krajská města: (např. 6- Praha)

1 - Jihočeského kraje

4 - Moravskoslezského kraje

2 - kraje Vysočina

5 - Jihomoravského kraje

3 - Královehradeckého kraje

C. Hnědou pastelkou a názvem vyznač pohoří **Krkonoše, Moravskoslezské Beskydy**
a **Šumavu**.

D. Zelenou pastelkou vyznač **Dolnomoravský úval**.

E. Vypiš názvy alespoň **tří lázeňských měst** v západních Čechách:

.....
.....
.....

F. Modrou barvou vyznač tok řeky **Berounky**. napiš do které řeky se vlévá a zda jde o levý nebo pravý přítok.

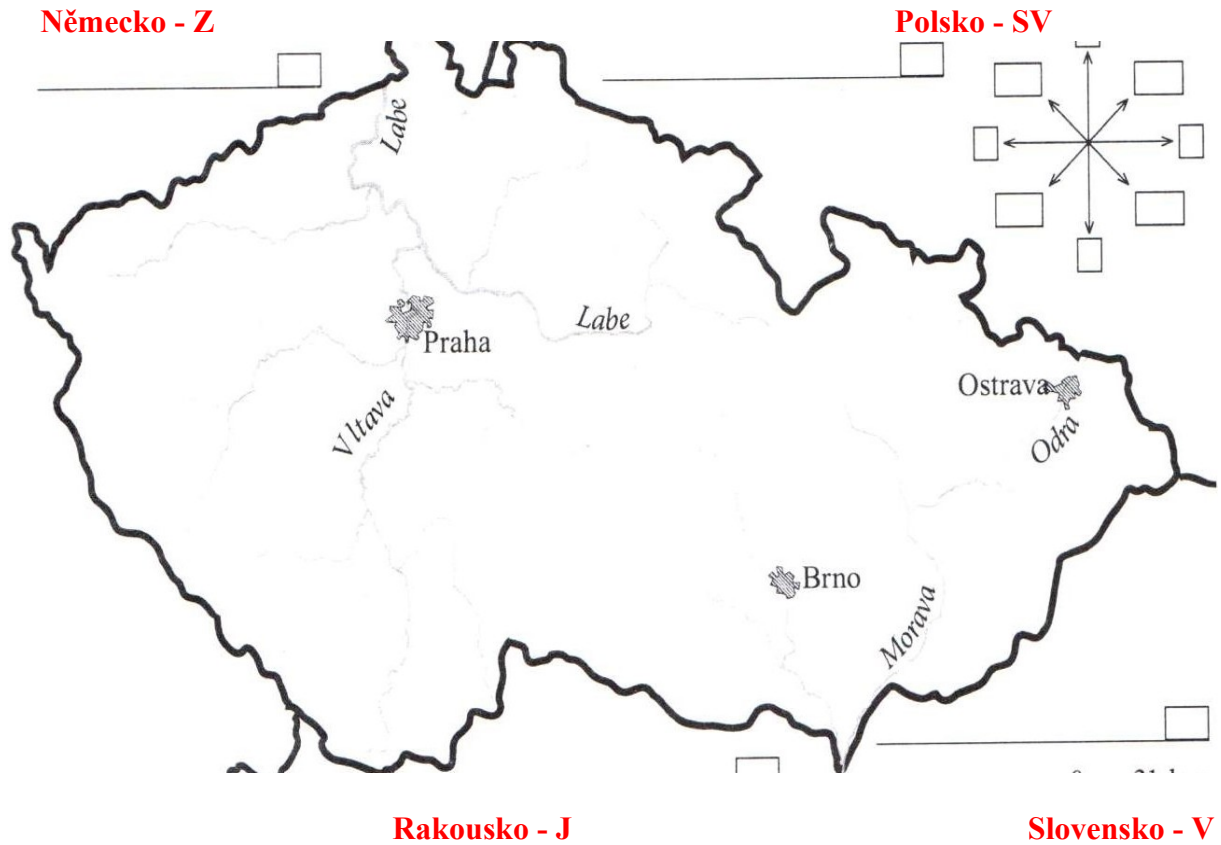
Berounka se vlévá do, je to pravý/levý přítok.

G. Značkou pro vodní elektrárnu a názvem vyznač vodní nádrž Lipno, Orlická a Slapy.

Zdroje:

ŠTIKOVÁ, Věra a Jana TABARKOVÁ. *Vlastivěda 5: pracovní sešit pro 5. ročník*. Brno: Nová škola, 2004, 79 s. ISBN 80-728-9064-6.

Česká republika – slepá mapa + práce s atlasem



Pracuj s mapou ČR a slepou mapou:

A. Z vnější strany hranic ČR doplň názvy států našich sousedů a dopiš i světovou stranu vzhledem k poloze Prahy (můžeš použít zkratky).

B. Vyznač pomocí čísel a názvu krajská města: (např. 6- Praha)

- | | |
|---|--|
| 1 - Jihočeského kraje České Budějovice | 4 - Moravskoslezského kraje Ostrava |
| 2 - kraje Vysočina Jihlava | 5 - Jihomoravského kraje Brno |
| 3 - Královehradeckého kraje Hradec Králové | |

C. Hnědou pastelkou a názvem vyznač pohoří **Krkonoše, Moravskoslezské Beskydy** a **Šumavu**.

D. Zelenou pastelkou vyznač **Dolnomoravský úval**.

E. Vypiš názvy alespoň **tří lázeňských měst** v západních Čechách:

Karlovy Vary, Mariánské Lázně, Františkovy Lázně, Jáchymov, Kynžvart

F. Modrou barvou vyznač tok řeky **Berounky**. napiš do které řeky se vlévá a zda jde o levý nebo pravý přítok.

Berounka se vlévá do **Vltavy** je to **levý** přítok.

G. Značkou pro vodní elektrárnu a názvem vyznač vodní nádrž Lipno, Orlická a Slapy.