



evropský
sociální
fond v ČR



EVROPSKÁ UNIE



MINISTERSTVO ŠKOLSTVÍ,
MLÁDEŽE A TĚLOVÝCHOVY



OP Vzdělávání
pro konkurenceschopnost

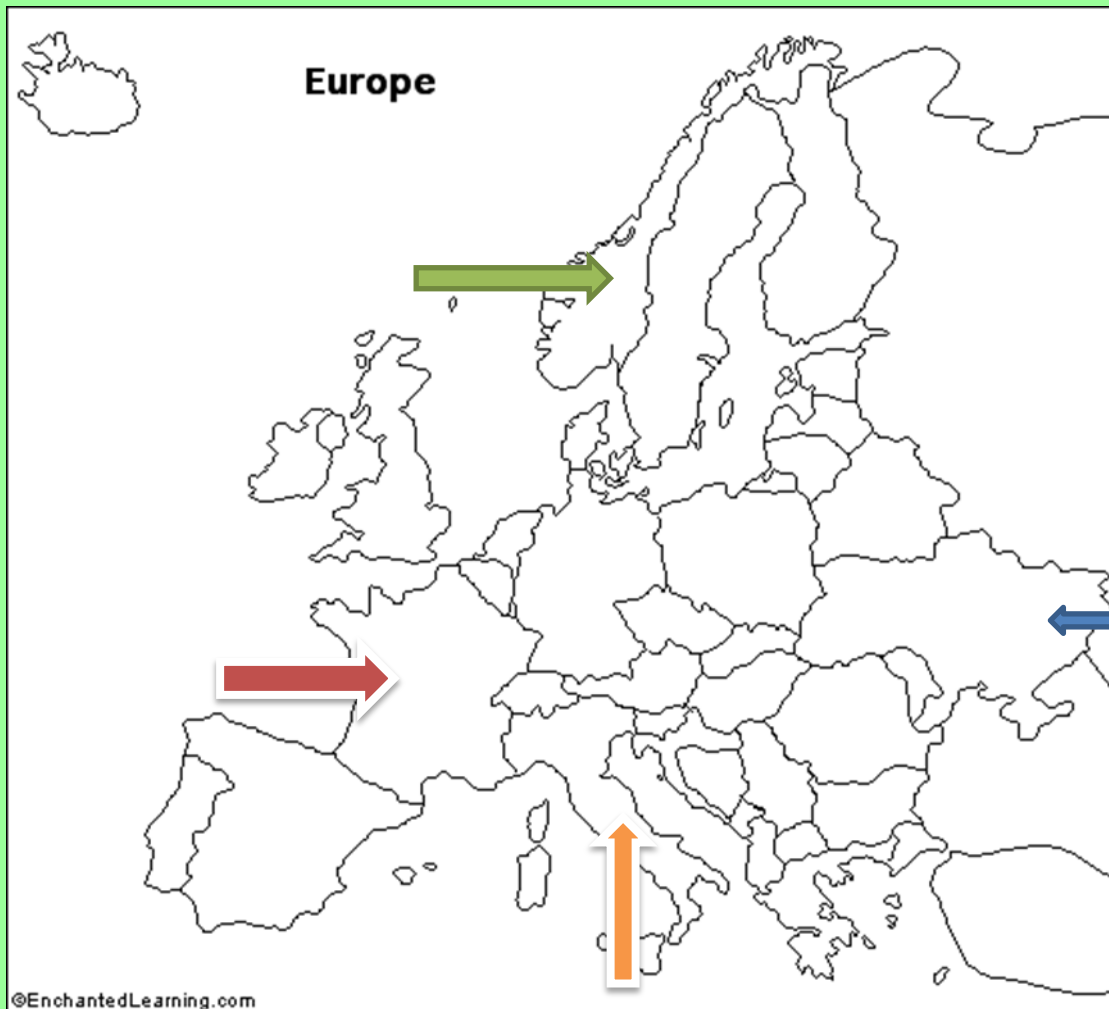
INVESTICE DO ROZVOJE VZDĚLÁVÁNÍ

VY_321_INOVACE_131_EVROPA

**Anotace: DUM slouží k procvičování učiva o poloze evropských států.
Žáci používají mapu Evropy. 10 minut.**

STÁTY EVROPY




Vybarvi : Finsko modře, Belgie černě, Portugalsko žlutě, Řecko červeně, Rakousko zeleně.



Pojmenuj státy označené šipkami :

Červená _____ Žlutá _____

Modrá _____ Zelená _____



Kterým státům patří tyto vlajky ?

[Http://eu.geograf.cz](http://eu.geograf.cz) [online]. 2007 [cit. 2011-06-23].

[Http://eu.geograf.cz/eu_s/images/img_otazky/evropa_sl.gif](http://eu.geograf.cz/eu_s/images/img_otazky/evropa_sl.gif). Dostupné z
WWW: <<http://eu.geograf.cz>>.