

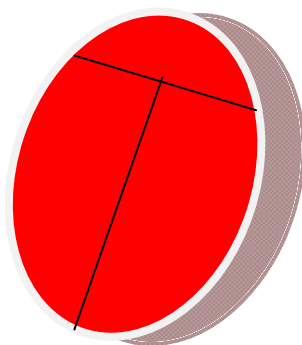
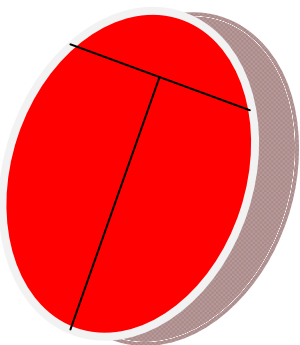
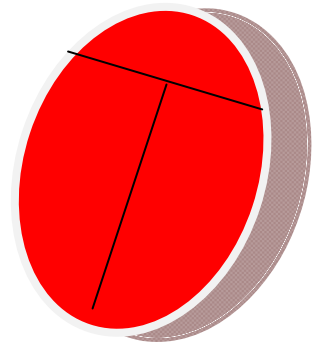
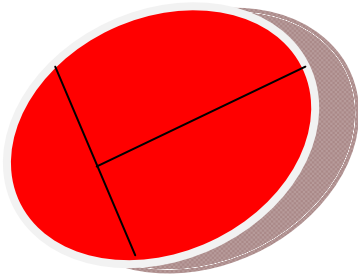
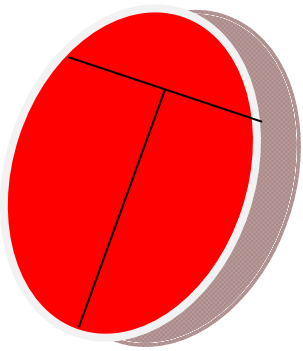
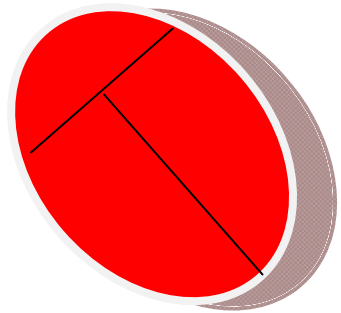
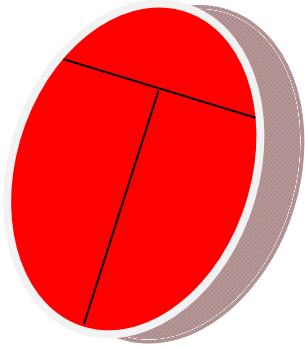
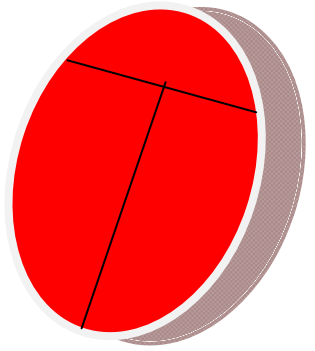
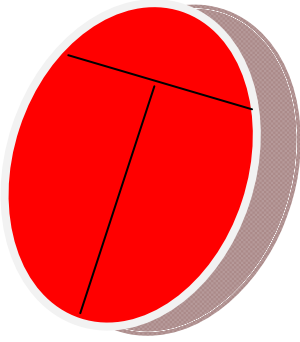
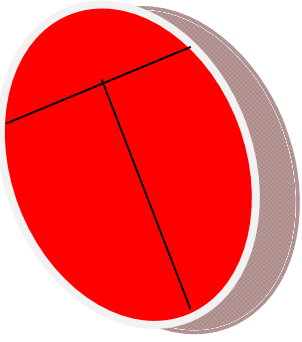


INVESTICE DO ROZVOJE VZDĚLÁVÁNÍ

	Název školy: Základní škola Heřmanice u Oder, okres Nový Jičín, příspěvková organizace
	Autor: Mgr. Hana Kostelníková
	Název: VY_42_INOVACE_01_34_NASOBILKA 7_KOSTELNIKOVA
	Téma: Násobilka 7
	Číslo projektu: CZ.1.07/1.4.00/21.3078

- **Ověření ve výuce:** 21. 10. 2013
- **Předmět:** Matematika
- **Ročník:** 3.
- **Anotace:** pracovní list je určen k vyvození násobilky sedmi

*Autorem materiálu a všech jeho částí, není-li uvedeno jinak, je Mgr. Hana Kostelníková.*



Dokresli beruškám nohy (6) a tykadla.  
Berušky se správně nazývají slunéčka sedmítečná.  
Dokresli všem potřebný počet teček.

### KOLIK TEČEK BUDE MÍT

1 beruška	$1 \times 7 =$
2 berušky	$2 \times 7 =$
3 berušky	_____
4 berušky	_____
5 berušek	_____
6 berušek	_____
7 berušek	_____
8 berušek	_____
9 berušek	_____
10 berušek	_____

### KOLIK BERUŠEK MÁ

49 teček	$49 : 7 =$
21 teček	_____
14 teček	_____
63 teček	_____
42 teček	_____
7 teček	_____
70 teček	_____
28 teček	_____
56 teček	_____
35 teček	_____