

Rostlinná buňka - test - autor Mgr. Monika Kratochvílová

1. Co nepatří mezi vegetativní orgány:


1. haustoria
2. kolce
3. květ

2. Kořenům schází:

1. čepička
2. kutikula
3. kůra

3. Dělohy:

1. jsou zárodky kořene
2. jsou zárodečné listy s vyživovací a zásobní funkcí
3. jsou první pravé listy



4. Která část rostlin se využívá do čističek odpadních vod:


1. listy
2. stonky
3. kořeny

5. Jakou funkci mají průduchy?

1. vedení látek
2. výživa semen
3. příjem a výdej vody a plynů

6. Mezi modifikace kořene nepatří:

1. bulvy
2. trny
3. hlízy



7. Kořenové vlásky mají za úkol:


1. ochranu kořenové pokožky
2. příjem vody a minerálních látek
3. snažší průnik kořene do půdy

8. Žilnatinu tvoří:

1. řapíky
2. čepele
3. svazky cévní

9. K fotosyntéze slouží:

1. asimilační listy
2. dělohy
3. listeny



10. Větvení stonku, kdy postranní větve nepřerůstají hlavní, se nazývá:


1. hroznovité
2. vrcholičnaté
3. vidličnaté


11. Letokruhy jsou výsledkem činnosti:

1. kalusu
2. kambia
3. felogenu

12. Listy vyrůstají na stonku v:

1. listenech
2. uzlinách
3. člancích





13. Polokeř:

1. je rozvětvená bylina
2. má spodní část dřevnatou, horní bylinnou
3. je keř se kmenem od spodu se větvicím



Zdroje:

- Jelínek, J., Zicháček, V. Biologie pro gymnázia, 6. vydání, 2003, Olomouc, ISBN 80-7182-159-4
- Kincl, L., Kincl, M., Jakrlová, J., Biologie rostlin pro 1. ročník gymnázia, 3. vydání, Fortuna Praha: Pardubice 2003, ISMB 80-7168-736-7

