



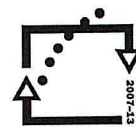
evropský
sociální
fond v ČR



EVROPSKÁ UNIE



MINISTERSTVO ŠKOLSTVÍ,
MLÁDEŽE A TĚLOVÝCHOVY



OP Vzdělávání
pro konkurenceschopnost

INVESTICE DO ROZVOJE VZDĚLÁVÁNÍ

Název školy: **Základní škola a Mateřská škola Kladno, Norská 2633**

Autor: **Mgr. Lenka Skrovná**

Název materiálu: **VY_42_INOVACE_M.1.Skr.29_rovinne_geometricke_tvary**

Datum: 15.03.2014

Ročník: **první**

Vzdělávací oblast: **Matematika a její aplikace**

Vzdělávací obor: **Matematika a její aplikace**

Název:

Rovinné geometrické tvary

Číslo operačního programu: **CZ.1.07/1.4.00/21.3489**

Název projektu: **UČÍME SE S RADOSTÍ**

Anotace:

Pracovní listy procvičují znalost základních geometrických tvarů – čtverce, obdélníku, trojúhelníku a kruhu.

Žáci mají určitý tvar najít, vybarvit nebo obtáhnout. Mají si uvědomit, které předměty z okolí jsou geometrickými tvary nebo jsou jim podobné. Cvičení 5 cvičí odhad a má pracovní charakter (stříhání, lepení).

JMÉNO:

ROVINNÉ GEOMETRICKÉ TVARY



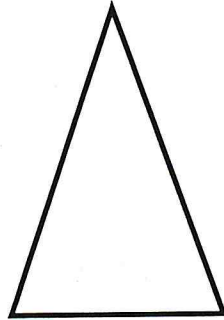

1. PŘIŘAĎ NÁZVY K OBRÁZKŮM (SPOJ ČAROU):

TROJÚHELNÍK

OBDÉLNÍK


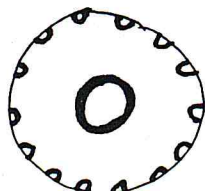
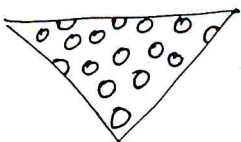


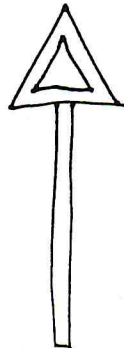

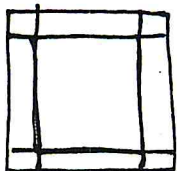
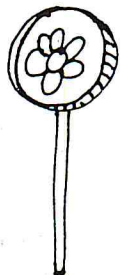
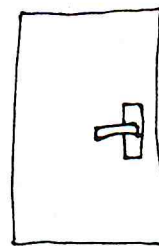
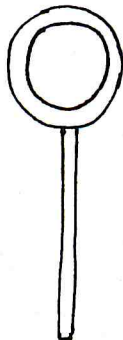


ČTVEREC

KRUH

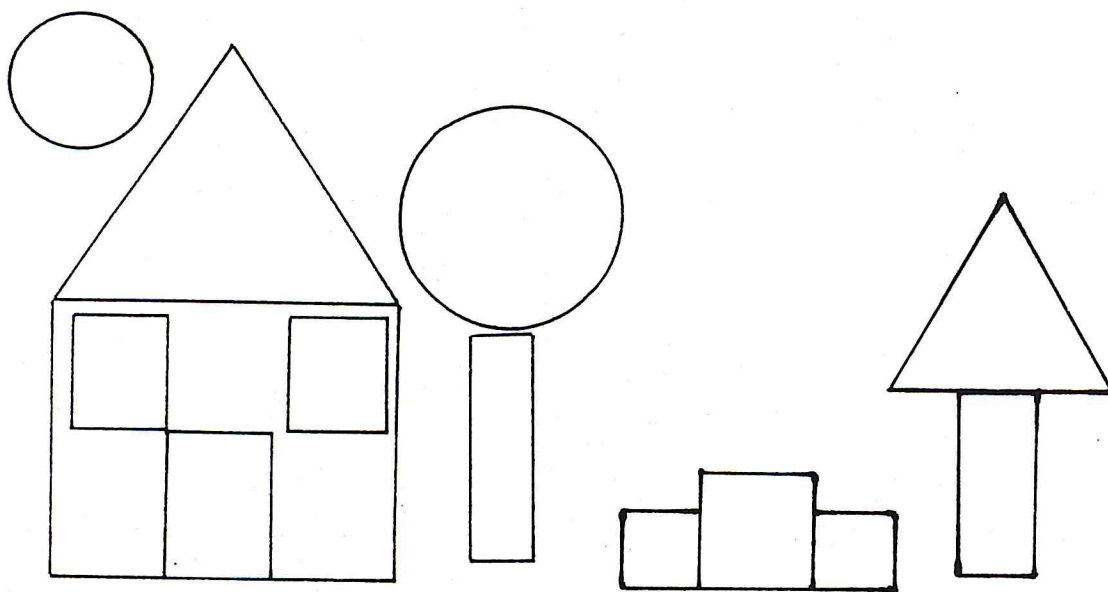


2. VYBARVI TROJÚHELNÍK ČERVENĚ, OBDÉLNÍK ŽLUTĚ,
ČTVEREC MODŘE A KRUH HNĚDĚ.

3. KTERÉ PŘEDMĚTY Z OKOLÍ TI PŘIPOMÍNÁJÍ GEOMETRICKÉ
TVARY? Zakroužkuj je stejnými barvami v předchozím cvičení.




4. DO GEOMETRICKÝCH TVARŮ V OBRÁZKU VEPIŠ PÍSMENA –
DO KRUHŮ – K
DO OBDÉLNÍKŮ – O
DO TROJÚHELNÍKŮ – T
DO ČTVERCŮ – Č




5. CVIČ SVŮJ ODHAD A PEČLIVĚ STŘÍHEJ. Z GEOMETRICKÝCH
TVARŮ NA DALŠÍM LISTU VYSTŘIHNI TY TVARY, ZE
KTERÝCH POTOM NALEPÍŠ STEJNÝ OBRÁZEK.

ZDE NALEP:



GEOMETRICKÉ TVARY KE CVIČENÍ 5:



Zdroj:

Vlastní práce autorky.