



INVESTICE DO ROZVOJE VZDĚLÁVÁNÍ

Název školy: Základní škola a Mateřská škola Kladno, Norská 2633

Autor: **Mgr. Lenka Skrovná**

Název materiálu: **VY_42_INOVACE_M.1.Skr.22_porovnavani_do_5**

Datum: 12.09.2013

Ročník: **první**

Vzdělávací oblast: **Matematika a její aplikace**

Vzdělávací obor: **Matematika a její aplikace**

Název: **Porovnávání do 5**

Číslo operačního programu: **CZ.1.07/1.4.00/21.3489**

Název projektu: **UČÍME SE S RADOSTÍ**

Anotace:

Pracovní listy jsou zaměřené na porovnávání čísel.

Žáci porovnávají 1, 2, 3, 4 popřípadě 5 konkrétních předmětů nebo čísel v době, kdy ještě neumí všechny číslice zapsat. Umí zapsat čísla 1, 2, 3. Číslice 4 a 5 jsou již vepsány.

První strana prohlubuje vizuální představy o číslech a umožňuje žákům porovnat počet na konkrétních předmětech.

Pracovní listy lze využít téměř od začátku první třídy.

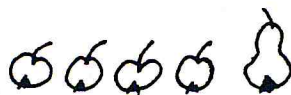
Velká tiskací písmena umožňují některým dětem samostatné čtení zadání.

Obrázky dávají prostor tvořivosti.

POROVNEJ :




3	>	2
---	---	---



4		
---	--	--



--	--	--



--	--	--



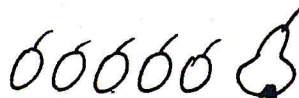
--	--	--



--	--	--



--	--	--



5		
---	--	--



		4
--	--	---



--	--	--



		4
--	--	---



--	--	--



		0
--	--	---



--	--	--



--	--	--



4		
---	--	--



--	--	--



		4
--	--	---

NAKRESLI :

2	<	4
---	---	---

3	=	3
---	---	---

5	>	1
---	---	---

POROVNEJ

$1 \quad \square \quad 3$

$3 \quad \square \quad 2$

$1 \quad \square \quad 4$

$2 \quad \square \quad 2$

$4 \quad \square \quad 2$

$3 \quad \square \quad 1$

$5 \quad \square \quad 1$

$4 \quad \square \quad 1$

$1 \quad \square \quad 2$

$1 \quad \square \quad 1$

$3 \quad \square \quad 3$

$2 \quad \square \quad 3$

$2 \quad \square \quad 1$

$2 \quad \square \quad 4$

$1 \quad \square \quad 5$

$3 \quad \square \quad 4$

DOPLŇ VHODNÁ ČÍSLA

$4 > \square$

$\square < 2$

$4 > \square$

$3 > \square$

$2 < \square$

$\square > 1$

$\square > 1$

$\square < 4$

$3 > \square$

$\square < 3$

$5 > \square$

$\square = \square$

$1 < \square$

$\square < 4$

$\square < 5$

$\square > \square$

NAPIŠ 3 MOŽNOSTI

$1 < \square$

$\square \quad \square$

$4 > \square$

$\square \quad \square$

$5 > \square$

$\square \quad \square$

ŘEŠENÍ

JMENO: _____

POROVNEJ :




$3 > 2$



$4 > 1$



$2 = 2$



$1 = 1$



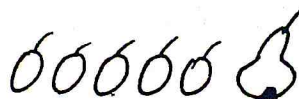
$2 > 1$



$3 > 2$



$3 = 3$



$5 > 1$



$2 < 4$



$2 < 3$



$1 < 4$



$3 > 1$



$3 > 0$



$3 = 3$



$1 = 1$



$4 > 1$



$2 = 2$



$1 < 4$

NAKRESLI :



$2 < 4$



$3 = 3$



$5 > 1$

POROVNEJ

$1 < 3$

$3 > 2$

$1 < 4$

$2 = 2$

$4 > 2$

$3 > 1$

$5 > 1$

$4 > 1$

$1 < 2$

$1 = 1$

$3 = 3$

$2 < 3$

$2 > 1$

$2 < 4$

$1 < 5$

$3 < 4$

DOPLŇ VHODNÁ ČÍSLA

$4 > 1$ ^{2 3}

$1 < 2$

$4 > 2$ ^{1 3}

$3 > 1$ ²

$2 < 3$

$2 > 1$ ³

$2 > 1$ ³

$3 < 4$ ^{1 2}

$3 > 1$ ²

$2 < 3$ ¹

$5 > 2$ ^{1 3 4}

$\square = \square$

$1 < 2$ ³

$3 < 4$ ^{2 1}

$1 < 5$ ^{2 3 4}

$\square > \square$

NAPIŠ 3 MOŽNOSTI

$1 < 2$

3

4

$4 > 3$

2

1

$5 > 4$

3

2

Zdroj:
Vlastní práce autorky.