

Název školy: **Základní škola a Mateřská škola Žalany**

Číslo projektu: **CZ. 1.07/1.4.00/21.3210**

Téma sady: VY_12_INOVACE_1B_Čtenářská_gramotnost_na_1.stupni

Název DUM: VY_12_INOVACE_1B_22_Naše_vlast

Vyučovací předmět: Prvouka

Název vzdělávacího materiálu: Naše vlast

Autor: Mgr. Alena Turková Tatíčková

Datum vytvoření: březen 2013

Anotace: V tomto pracovním listu žáci procvičují znalosti o své vlasti – České republice. Využívají dovednosti třídít, doplňovat, dokreslovat. Rozvíjejí čtení s porozuměním a komunikační schopnosti.

Očekávaný výstup: Žák začlení svou obec (město) do příslušného kraje a obslužného centra ČR, pozoruje a popíše změny v nejbližším okolí, obci (městě)

Věková skupina, ročník: ZŠ, 3. ročník


Metodické pokyny: V úkolu č. 1 žáci zapíší název naší republiky. V úkolu č. 2 dokreslí a dopíší názvy částí republiky podle historického dělení. V úkolu č. 3 uvedou název hlavního města ČR a dokreslí jeho polohu do mapky v úkolu č. 2. V úkolu č. 4 vybarví českou vlajku. V úkolu č. 4 dokreslí do mapy nížiny, vysočiny a hory. V úkolu č. 6 uvedou název české státní hymny. V úkolu č. 7 zapíší, co pro ně znamenají slova „vlast, domov“. V úkolu č. 8 podtrhnou české řeky, v úkolu č. 9 zapíší státy, s kterými ČR sousedí. V úkolu č. 10 vyhledají ve čtyřsměrce státní symboly.

Pomůcky: psací náčiní, pastelky

Časový harmonogram: 30 - 40 min.

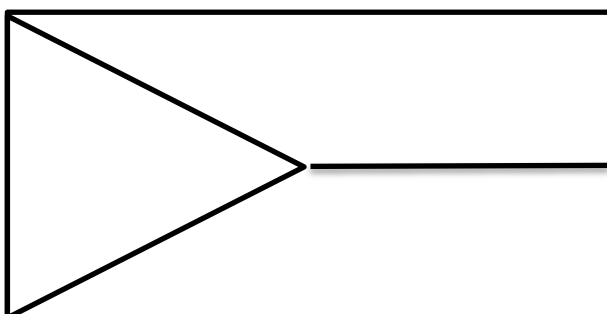
1. Jak se nazývá naše republika?

2. Do obrázku dokresli a dopiš, které země podle historického dělení naši republiku tvoří




3. Jaké je hlavní město naší republiky?
Dokresli do obrázku v úkolu č. 2

4. Vybarvi naši státní vlajku:



5. Do mapy dokresli barevně nížiny, vysočiny, hory.
Pracuj s mapou České republiky



6. Napiš název české státní hymny.

7. Co znamenají slova VLAST, DOMOV

8. Podtrhni české řeky

LABE, OHŘE, VLTAVA, BESKYDY, KRUŠNÉ HORY, SÁZAVA,
DYJE, TEPLICE, ODRA, OTAVA, PRAHA, SVRATKA, ŘÍP

9. Napiš sousední státy naší republiky

10. Vyhledej ve čtyřsměrce názvy státních symbolů

C	N	G	K	Q	F
V	L	A	J	K	A
E	V	Ř	Í	A	U
O	H	Y	M	N	A
I	Z	Á	W	Z	Ú

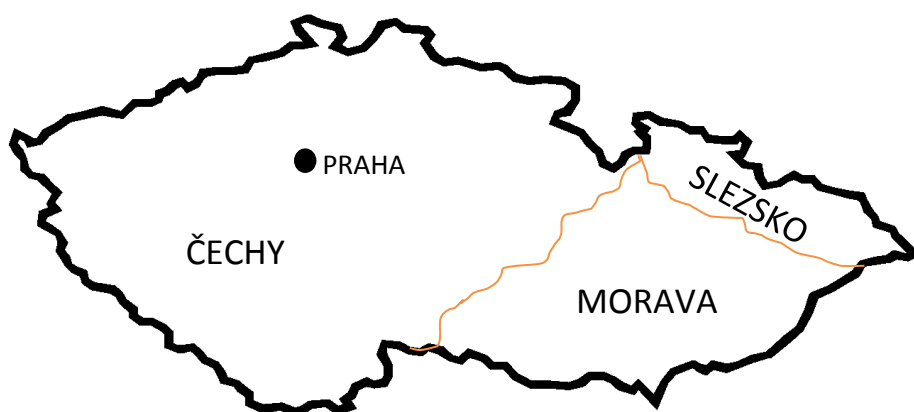
Státní symboly jsou:.....

.....

1. Jak se nazývá naše republika?

Česká republika

2. Do obrázku dokresli a dopiš, které země podle historického dělení naši republiku tvoří

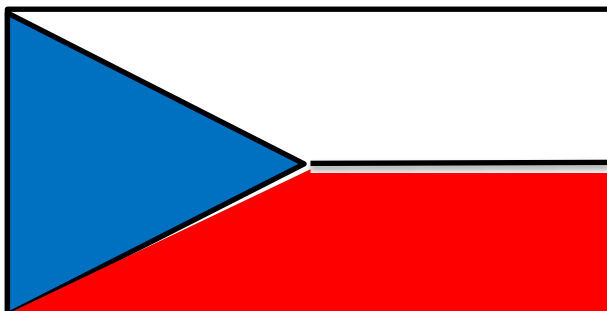


3. Jaké je hlavní město naší republiky?

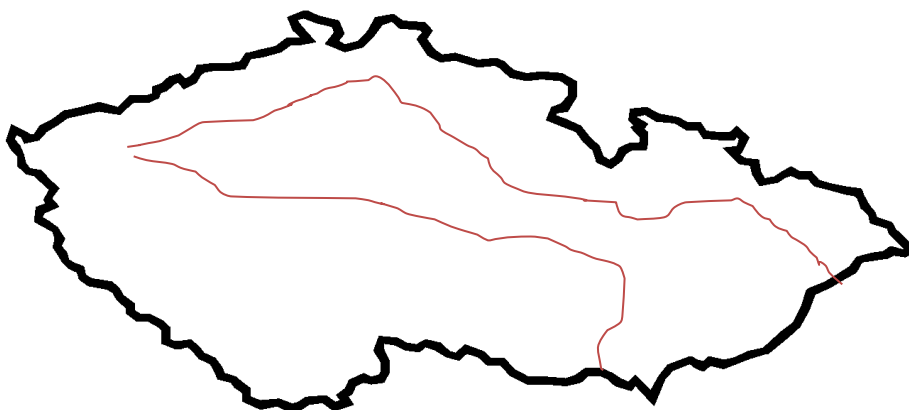
Dokresli do obrázku v úkolu č. 2

PRAHA

4. Vybarvi naši státní vlajku:



5. Do mapy dokresli barevně nížiny, vysočiny, hory.
Pracuj s mapou České republiky



6. Napiš název české státní hymny.

KDE DOMOV MŮJ

7. Co znamenají slova VLAST, DOMOV

**MÍSTO, KDE ŽIJEME, RODINU, KAMARÁDY, BEZPEČÍ,
ZÁZEMÍ, JISTOTU, OPORU,.....**

8. Podtrhni české řeky

LABE, OHŘE, VLTAVA, BESKYDY, KRUŠNÉ HORY, SÁZAVA,
DYJE, TEPLICE, ODRA, OTAVA, PRAHA, SVRATKA, ŘÍP

9. Napiš sousední státy naší republiky

NĚMECKO, SLOVENSKO, POLSKO, RAKOUSKO

10. Vyhledej ve čtyřsměrce názvy státních symbolů

C	N	G	K	Q	F
V	L	A	J	K	A
E	V	Ř	Í	A	U
O	H	Y	M	N	A
I	Z	Á	W	Z	Ú

Státní symboly jsou: **VLAJKA, ZNAK, HYMNA**

.....

Autorem materiálu a všech jeho částí, není-li uvedeno jinak, je Mgr. Alena Turková Tatíčková

Galerie MS Office, www.office.microsoft.com (klipart)

Použitý software: MS Windows 7, Microsoft Office Excel 2007, Word 2007