



evropský
sociální
fond v ČR



EVROPSKÁ UNIE



MINISTERSTVO ŠKOLSTVÍ,
MLÁDEŽE A TĚLOVÝCHOVY



OP Vzdělávání
pro konkurenceschopnost

INVESTICE DO ROZVOJE VZDĚLÁVÁNÍ

Název školy: **Základní škola a Mateřská škola Kladno, Norská 2633**

Autor: **Mgr. Hana Kotíková**

Název materiálu:

VY_12_INOVACE_Z.6.Kot.03_Atlas_jako_nekonecna_kniha

Datum: **3. 8. 2013**

Ročník: **šestý**

Vzdělávací oblast: **Přírodní vědy**


Vzdělávací obor: **Zeměpis**

Název: **Atlas jako nekonečná kniha**

Číslo operačního programu: **CZ.1.07/1.4.00/21.3489**

Název projektu: **UČÍME SE S RADOSTÍ**


Anotace: Soubor pracovních listů je určen pro vložení do jednotlivých atlasů a pro samostatnou práci dětí. Cílem aktivity je, aby si žáci uvědomili, jak velké množství informací mapy obsahují. Každý žák vyplní do každého pracovního listu jednu řádku.



1. ŠKOLNÍ ATLAS ČESKÉ REPUBLIKY

V tomto atlase jsou takzvané tematické mapy České republiky. Chvíli si atlas prohlížeš a z mapy, která tě nejvíc zaujme, všem ostatním napiš jednu zajímavou informaci, kterou z této mapy vyčteš (podle příkladu). Příklady, které do tabulky zapíšeš spolužáci před tebou, si můžeš v atlase vyhledat.


Strana	Název mapy:	Informace / zajímavost
31	<i>Půdní typy</i>	<i>... v okolí Kladna převažují půdy „hnědozemě“</i>




2. ŠKOLNÍ ATLAS SVĚTA

V tomto atlase jsou různé tematické mapy světa a jednotlivých světadílů. Chvilí si atlas prohlížej a z mapy, která tě nejvíc zaujme, všem ostatním napiš jednu zajímavou informaci, kterou z této mapy vyčteš (podle příkladu). Příklady, které do tabulky zapíšeš spolužáci, si můžeš v atlase vyhledat.

Strana	Název mapy:	Informace / zajímavost
132– 133	<i>Austrálie a Oceánie</i>	<i>Zjistila jsem, že korálové útesy se v Tichém oceánu vyskytují nejdále na 30. rovnoběžce. Severněji ani jižněji už se korálové útesy nenalézají.</i>




Strana	Název mapy:	Informace / zajímavost



3. TEMATICKÝ ATLAS STŘEDOČESKÉHO KRAJE

V tomto atlase jsou takzvané tematické mapy Středočeského kraje. Chvíli si atlas prohlížej a z mapy, která tě nejvíc zaujme, všem ostatním napiš jednu zajímavou informaci, kterou z této mapy vyčteš (podle příkladu). Příklady, které do tabulky zapíše spolužáci, si můžeš v atlase vyhledat.


Strana	Název mapy:	Informace / zajímavost
18	<i>Hustota zalidnění</i>	<i>... Kladensko je nejhustěji zalidněná oblast celého Středočeského kraje</i>



4. ŠKOLNÍ ATLAS DNEŠNÍHO SVĚTA

V tomto atlase jsou takzvané tematické mapy. Na mapách je zobrazeno často něco jiného, než by na daném území bylo vidět například na leteckém snímku. Území států a částí světadílů jsou vybarvena různými barvami a doplněna dalšími mapovými značkami podle vybraného „tématu“. Chvíli si atlas prohlížej a z mapy, která tě nejvíc zaujme, všem ostatním napiš jednu zajímavou informaci, kterou z této mapy vyčteš (podle příkladu). Příklady, které do tabulky zapíše spolužáci, si můžeš v atlase vyhledat.

Strana	Název mapy:	Informace / zajímavost
78	<i>Děti nechodící do školy</i>	<i>... V některých zemích Afriky (např. v Súdánu) nechodí do školy více jak polovina dětí</i>




5. STARÝ A NOVÝ ŠKOLNÍ ZEMĚPISNÝ ATLAS

	Starý atlas	Nový atlas
Název:	Atlas pro měšťanské školy	Školní atlas světa
Rok vydání:	1930	2013
Vydavatelství:	Státní vydavatelství	Kartografie Praha

O kolik let jsou tedy ve starém atlasu mapy starší?

Dokážeš podle map stejného území (například Evropy nebo Afriky) v obou atlasech napsat, jak se změnil svět? Doplň do tabulky jednu informaci (podle vzoru) a ty, které našli spolužáci, si prohlédni.

Co je jinak?	Jak je to ve starém atlase?	Jak je to v novém atlase?
<i>název afrického státu</i>	<i>Jižní Rhodesie</i>	<i>Zimbabwe</i>



Použité zdroje:

Blaeu 1645 - Theatrum Orbis Terrarum. In: *Wikipedia: the Free encyclopedia* [online]. San Francisco (CA): Wikimedia Foundation, 2001- [cit. 2013-11-22]. Dostupné z: http://upload.wikimedia.org/wikipedia/commons/5/55/Blaeu_1645_-_Theatrum_Orbis_Terrarum.jpg

Texty_ vlastní