



VY_32_INOVACE_146_Číslo a číslice 1_ Matematika a její aplikace

_Matematika a její aplikace_1. ročník

Autor: Jana Křiváčková, Základní škola Kosmonosy-Horní Stakory 54,
okres Mladá Boleslav

Vytvořeno v rámci v projektu „EU peníze školám“



**OP VK oblast podpory 1.4 s názvem Zlepšení podmínek pro vzdělávání
na základních školách**

Anotace

Materiál určený pro žáky 1. ročníku základní školy do předmětu Matematika a její aplikace. Zavedení čísla a číslice jedna, výklad, zápis čísla, porovnávání čísel, správný počet

Klíčová slova

tvár číslice 1, porovnávání čísel, správný počet.



1							
---	--	--	--	--	--	--	--

1	
1	
1	
1	
1	




NAPIŠ správně 1

Domaluj obrázek - školní potřebu





Vybarvi políčka, kde je napsána číslice 1


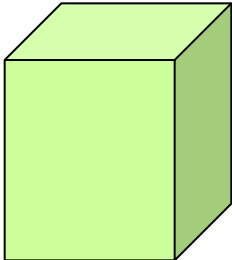


7	6	5	7	1	3	5	3
8	3	2	1	1	2	6	4
9	4	1	2	1	5	7	5
4	5	2	5	1	8	8	9
5	8	3	4	1	9	9	8
6	9	5	8	1	7	2	7
7	2	9	9	1	6	5	6
8	3	8	7	1	3	4	3

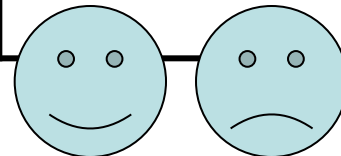
2	8	5	1	1	4	5	6
3	2	1	1	1	1	6	6
8	1	1	1	1	1	1	4
5	5	1	5	6	1	3	2
8	6	1	5	9	1	5	8
7	4	1	6	8	1	6	5
9	8	1	1	1	1	8	2
4	3	4	5	8	9	7	7



Dokresli správné počty. Dopiš počet.

		2
3		



4		
		5



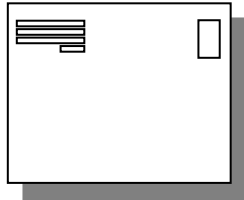

Porovnej počty

5		1
2		3
1		1
4		1
1		2



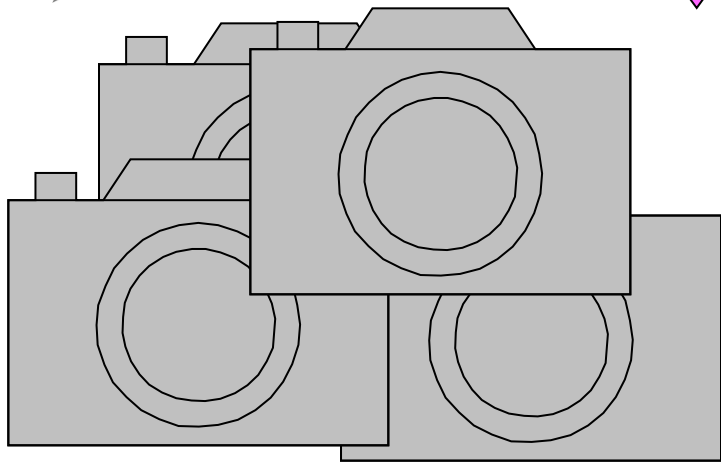
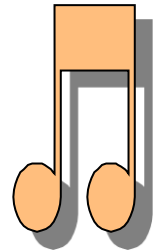
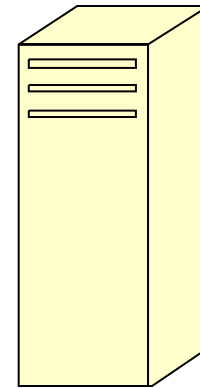

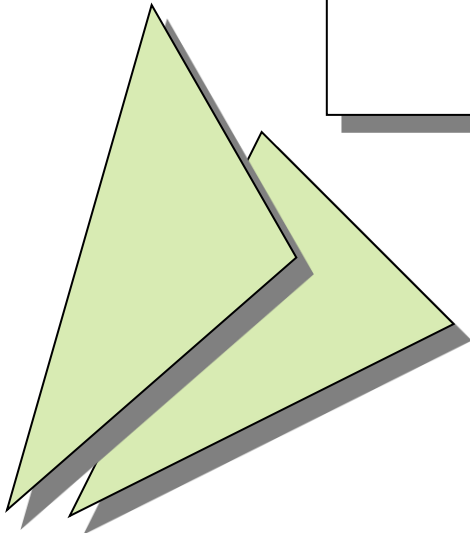
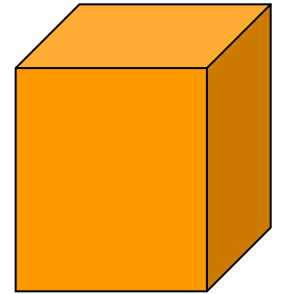

1		1
2		1
3		2
1		3
1		4



Spoj číslici 1 se správným počtem



1



Použité zdroje

Obrázky galerie Microsoft Office

MOLNÁR,J, MIKULENKOVÁ, H: Matematika a její aplikace pro 1. ročník, 1. díl.: Prodos, Olomouc, 1. vydání , 64s. ISBN 80-7230-158-6