



VY_32_INOVACE_147_Číslo a číslice dva_ Matematika a její aplikace

_Matematika a její aplikace_1. ročník

Autor: Jana Křiváčková, Základní škola Kosmonosy-Horní Stakory 54,
okres Mladá Boleslav

Vytvořeno v rámci v projektu „EU peníze školám“



**OP VK oblast podpory 1.4 s názvem Zlepšení podmínek pro vzdělávání
na základních školách**

Anotace

Materiál určený pro žáky 1. ročníku základní školy do předmětu Matematika a její aplikace. Zavedení čísla a číslice dva, výklad, zápis čísla, porovnávání čísel, správný počet


Klíčová slova

tvár číslice 2, porovnávání čísel, správný počet.



2							
---	--	--	--	--	--	--	--

2	
2	
2	
2	
2	




NAPIŠ správně 2

Domaluj obrázek - lesní zvířátko


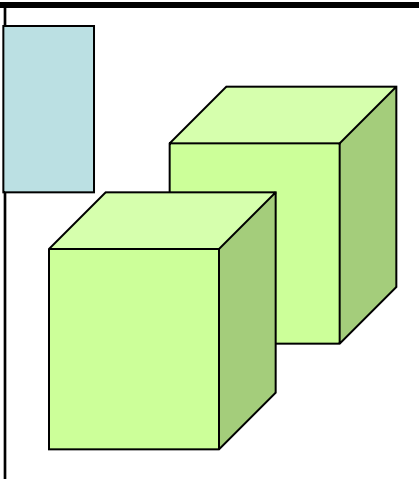

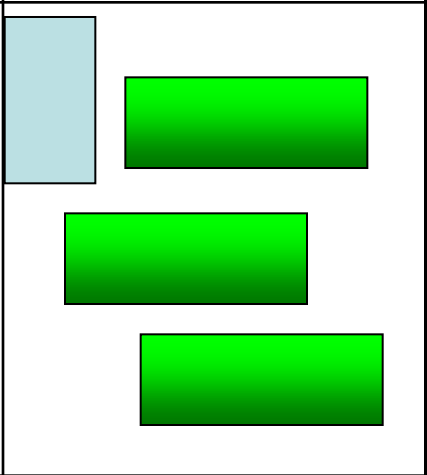
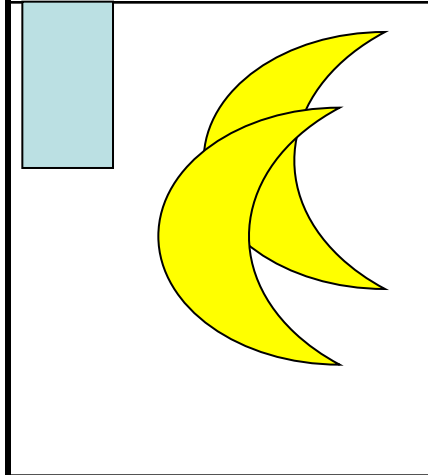
Vybarvi políčka, kde je napsána číslice 2

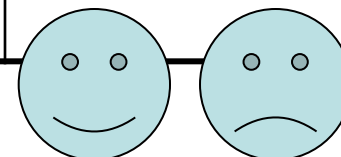
7	6	2	2	2	2	5	3
8	2	2	2	2	2	2	4
9	2	2	2	2	2	2	5
4	5	8	2	2	8	8	9
5	8	2	2	2	2	9	8
6	9	5	2	2	7	3	7
7	6	9	2	2	6	5	6
8	2	2	2	2	2	2	3

1	8	5	2	1	4	5	6
3	2	2	2	2	2	2	6
2	2	3	7	3	6	2	2
2	2	9	5	6	1	2	2
2	2	1	5	9	1	2	2
2	2	1	2	2	1	2	2
9	2	2	2	2	2	2	8
4	3	4	5	8	9	7	7



Dokresli správné počty. Dopiš počet.



4		1	
			5




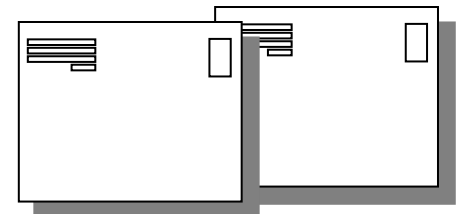

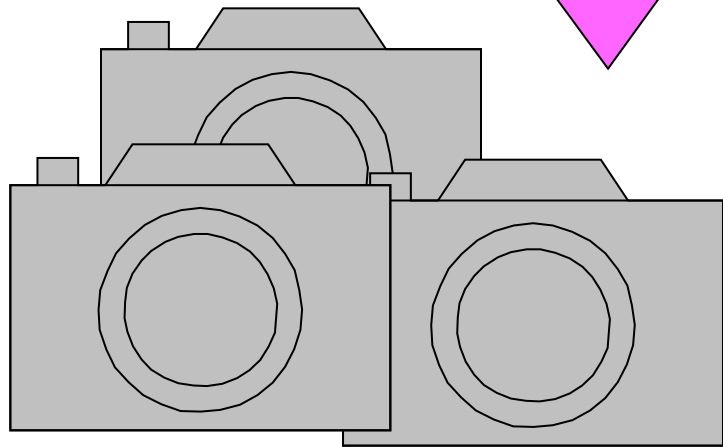
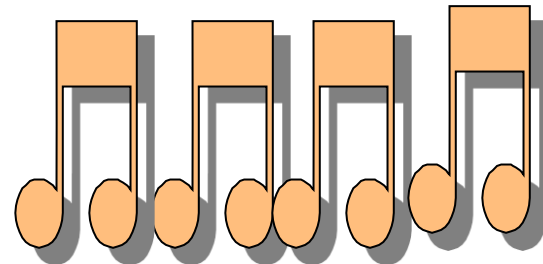

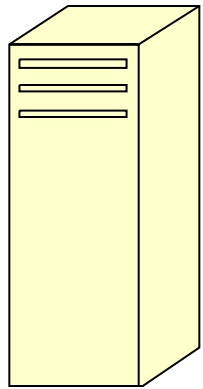
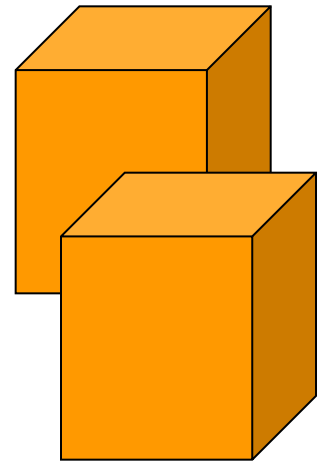
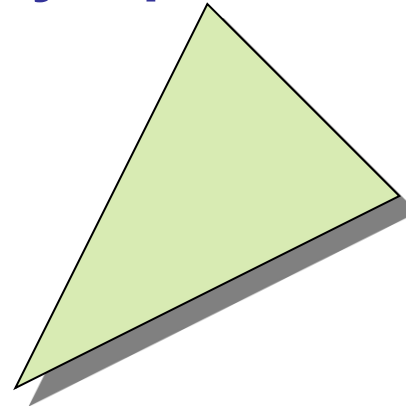
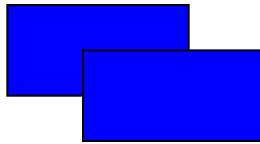


Porovnej počty

5		2
2		4
2		2
1		2
3		2

2		2
2		5
3		2
2		3
1		3



Spoj číslici 2 se správným počtem



Použité zdroje

Obrázky galerie Microsoft Office

MOLNÁR,J, MIKULENKOVÁ, H: Matematika a její aplikace pro 1. ročník, 1. díl.: Prodos, Olomouc, 1. vydání , 64s. ISBN 80-7230-158-6