



VY_32_INOVACE_149_Číslo a číslice čtyři_

Matematika a její aplikace

_Matematika a její aplikace_1. ročník

Autor: Jana Křiváčková, Základní škola Kosmonosy-Horní Stakory 54,
okres Mladá Boleslav

Vytvořeno v rámci v projektu „EU peníze školám“



**OP VK oblast podpory 1.4 s názvem Zlepšení podmínek pro vzdělávání
na základních školách**

Anotace

Materiál určený pro žáky 1. ročníku základní školy do předmětu Matematika a její aplikace. Zavedení čísla a číslice čtyři, výklad, zápis čísla, porovnávání čísel, správný počet. Možné použít jako pracovní list.

Klíčová slova

tvár číslice 4, porovnávání čísel, správný počet.




4							
---	--	--	--	--	--	--	--







4	
4	
4	
4	
4	

NAPIŠ správně 4

Namaluj podle počtu obrázky - **ovoce**

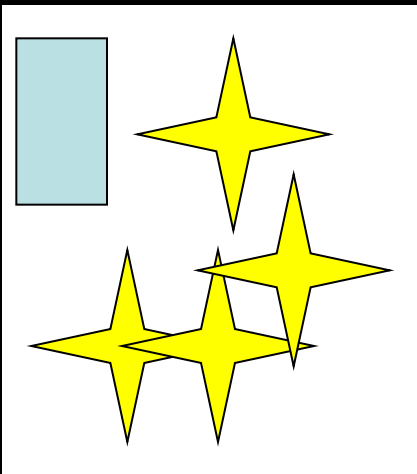

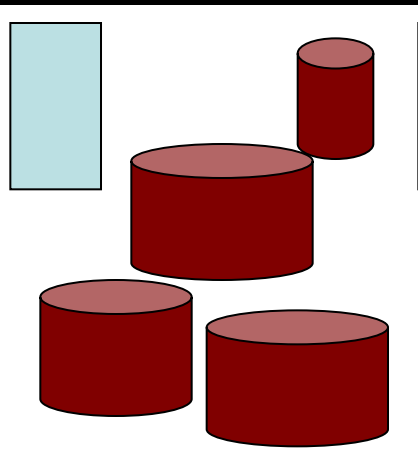
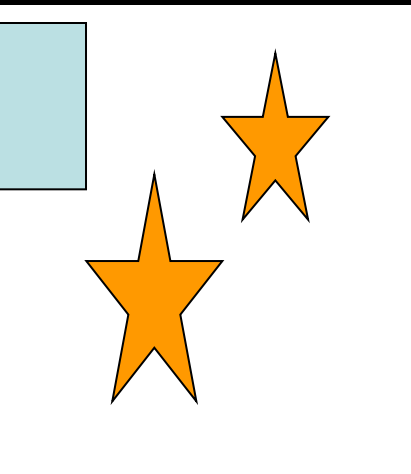
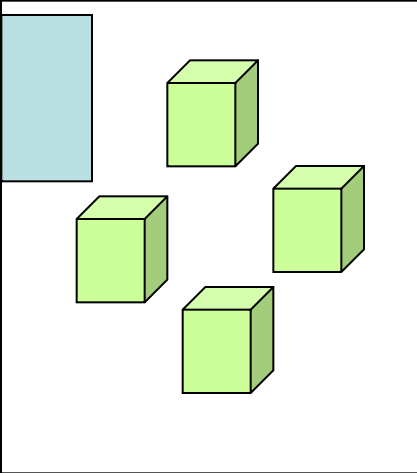
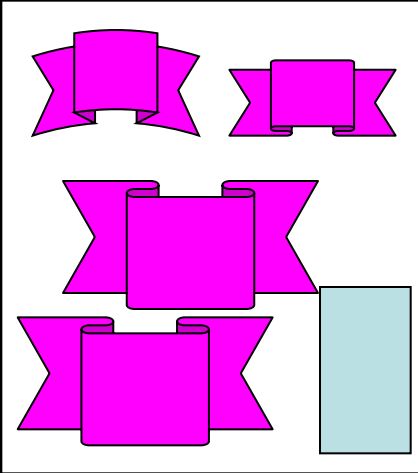
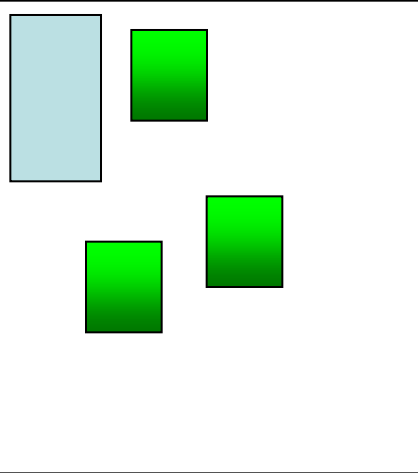



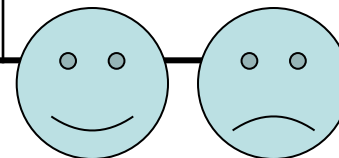
Vybarvi políčka, kde je napsána číslice 4

2	1	5	4	6	8	2	7	9	1
8	7	4	9	4	4	4	4	4	2
3	4	1	2	4				4	3
1	4	8	9	4				4	8
4	4	4	4	4				4	1
4	8	9	5	2	4	4	4	4	0
4	4	4	4	4	4			4	4
4	4		4	3	4			4	5
5	4	4	4	2	4	4	4	4	8
2	1	0	8	9	3	7	6	1	9

1	8	3	9	6	7	4	6	1	3
8	9	6	7	3	1	0	2	7	6
8	9	7	3	1	4	5	5	5	5
3	8	9	7	1	5	5	5	5	5
6	9	7	0	3	5	4	9	8	5
0	5	5	1	3	5	5	5	5	5
5	5	5	5	5	5	5	5	5	5
5	5	5	5	5	5	5	5	5	5
3	5	5	5	5	5	1	5	5	5
1	2	6	9	2	8	0	0	7	6

Dokresli správné počty. Dopiš počet.



Doplň řadu čísel.

Porovnej čísla.

1				5
	4	3		
		3	2	
1			4	
	2			5

5		4
1		3
4		4
2		2
4		2
1		3
4		1
3		5

Vypočítej, znázorni, dodrž barvy.

$1 + 3 =$

--	--	--	--	--

$2 + 2 =$

--	--	--	--	--

$3 + 1 =$

--	--	--	--	--

$4 - 1 =$

--	--	--	--	--

Použité zdroje

Obrázky galerie Microsoft Office

MOLNÁR,J, MIKULENKOVÁ, H: Matematika a její aplikace pro 1. ročník, 1. díl.: Prodos, Olomouc, 1. vydání , 64s. ISBN 80-7230-158-6