



# VY\_32\_INOVACE\_150\_Číslo a číslice pět\_ Matematika a její aplikace

## \_Matematika a její aplikace\_1. ročník

Autor: Jana Křiváčková, Základní škola Kosmonosy-Horní Stakory 54,  
okres Mladá Boleslav

Vytvořeno v rámci v projektu „EU peníze školám“


**OP VK oblast podpory 1.4 s názvem Zlepšení podmínek pro vzdělávání  
na základních školách**

## Anotace

Materiál určený pro žáky 1. ročníku základní školy do předmětu Matematika a její aplikace. Zavedení čísla a číslice pět, výklad, zápis čísla, porovnávání čísel, správný počet

## Klíčová slova


tvár číslice 5, porovnávání čísel, správný počet.



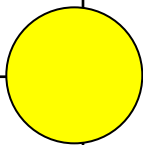
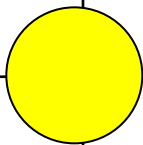
**NAPIŠ správně 1**

**Domaluj počet obrázků, co jíš rád.**






|   |  |
|---|--|
| 5 |  |
| 5 |  |
| 5 |  |
| 5 |  |
| 5 |  |



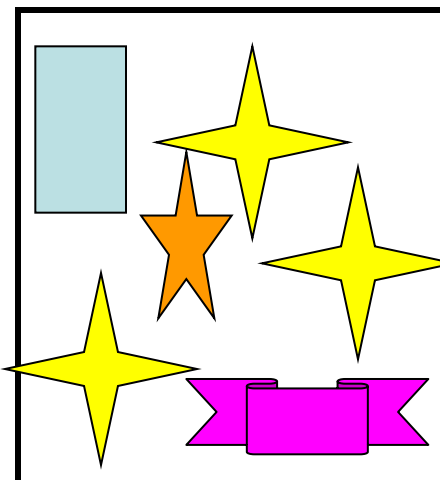
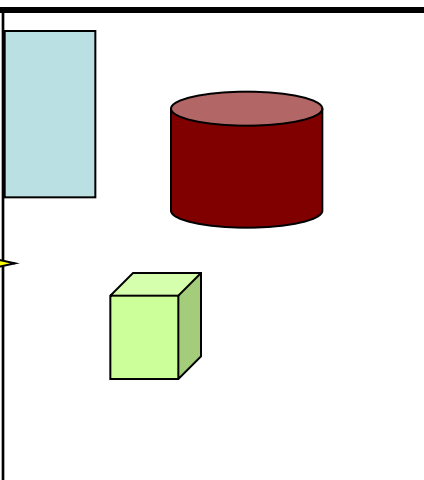
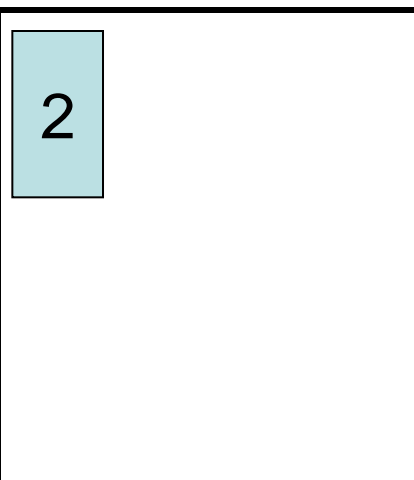
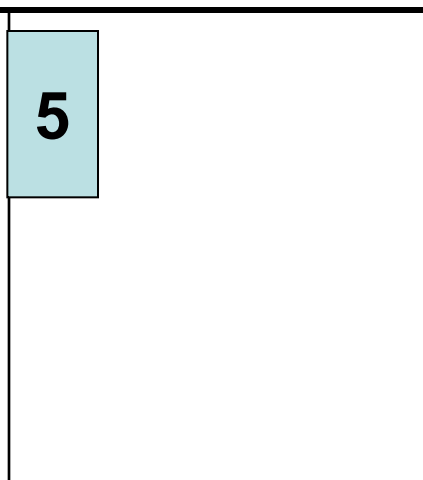
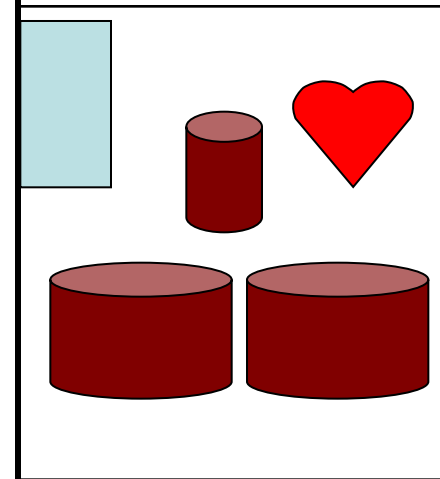
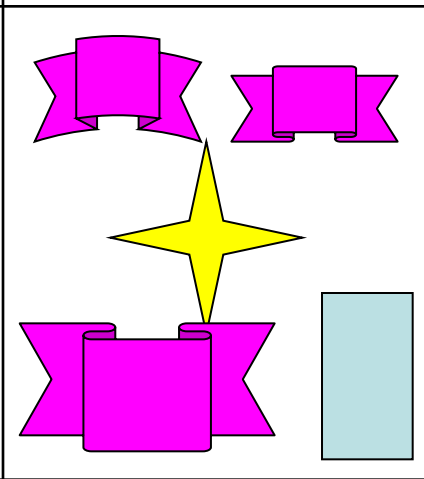
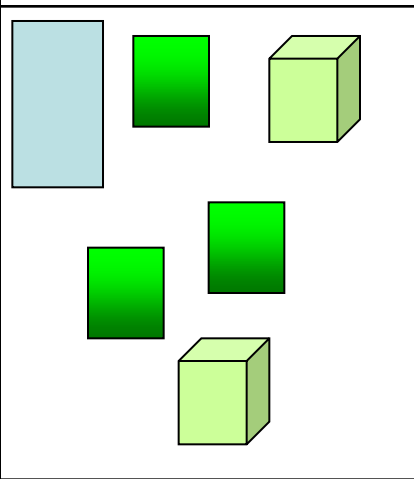
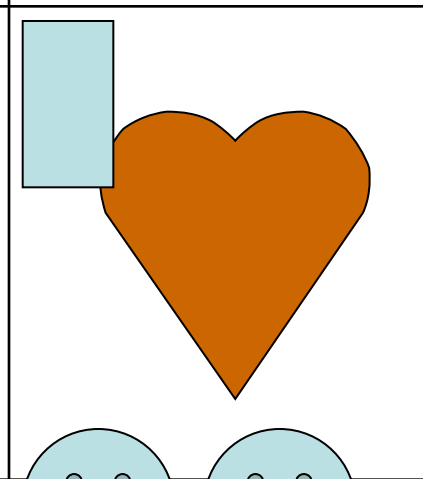
# Vybarvi políčka s číslem 5

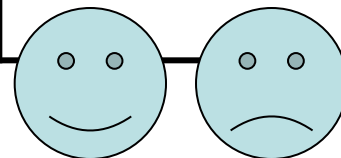
|   |   |   |   |   |   |   |   |   |   |   |   |   |   |   |   |   |   |   |   |
|---|---|---|---|---|---|---|---|---|---|---|---|---|---|---|---|---|---|---|---|
| 1 | 2 | 4 | 5   | 5 | 8 | 9 | 9 | 0 | 5 | 6 | 3 | 5 | 5 | 8 | 0 | 5 | 1 | 1 | 0 |
| 8 | 9 | 7 | 5   | 5 | 0 | 1 | 2 | 3 | 8 | 5 | 0 | 5 | 5 | 9 | 5 | 0 | 2 | 8 | 1 |
| 5 | 5 | 5 |  |   | 5 | 5 | 5 | 1 | 2 | 5 | 5 | 5 | 5 | 5 | 5 | 1 | 4 | 9 | 2 |
| 5 | 5 | 5 |  |   | 5 | 5 | 5 | 0 | 8 | 5 | 5 | 5 | 5 | 5 | 5 | 2 | 8 | 7 | 3 |
| 0 | 8 | 5 | 5   | 5 | 5 | 8 | 2 | 3 | 9 | 1 | 5 | 5 | 5 | 5 | 0 | 3 | 5 | 0 | 7 |
| 9 | 0 | 1 | 5   | 5 | 4 | 3 | 0 | 5 | 5 | 0 | 1 | 5 | 5 | 2 | 1 | 5 | 5 | 3 | 8 |
| 2 | 5 | 5 | 5   | 5 | 5 | 2 | 9 | 5 | 5 | 5 | 0 | 5 | 5 | 4 | 5 | 5 | 5 | 1 | 0 |
| 1 | 5 | 5 | 5   | 5 | 5 | 0 | 7 | 0 | 5 | 5 | 4 | 5 | 5 | 5 | 5 | 9 | 1 | 2 | 1 |
| 3 | 5 | 5 | 5   | 5 | 5 | 1 | 2 | 4 | 2 | 1 | 5 | 5 | 5 | 5 | 0 | 1 | 0 | 4 | 2 |
| 8 | 4 | 5 | 5   | 5 | 3 | 7 | 1 | 3 | 3 | 8 | 2 | 5 | 5 | 0 | 3 | 2 | 4 | 2 | 3 |

# Namaluj správný počet




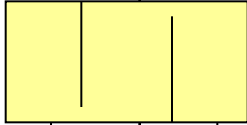

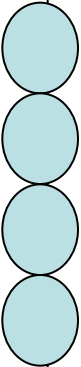


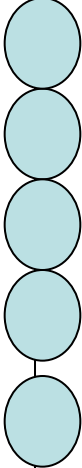
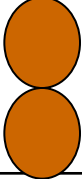
|   |   |  |   |   |
|---|---|--|---|---|
| 5  | 3  | 5  | 2  | 5  |
|   |   |  |   |   |

Zapiš správné počty. Dokresli správný počet.

|   |  |   |  |
|---|--|---|--|
|   |   |   |   |
|  |  |  |  |



# Navlékli korálky, napiš počty, porovnej

|  |  |  |  |  |
|--|--|--|--|--|
|   |   |  |   |   |
|  |  |  |  |  |
| <b>5</b>   | <b>4</b>   | <b>1</b>   | <b>3</b>   | <b>5</b>   |

# **Použité zdroje**

## **obrázky Microsoft Office**

MOLNÁR,J, MIKULENKOVÁ, H: Matematika a její aplikace pro 1. ročník, 1. díl.: Prodos, Olomouc, 1. vydání , 64s. ISBN 80-7230-158-6