



VY_32_INOVACE_151_Rozklad čísel 2,3,4,5_

Matematika a její aplikace

_Matematika a její aplikace_1. ročník

Autor: Jana Křiváčková, Základní škola Kosmonosy-Horní Stakory 54,
okres Mladá Boleslav

Vytvořeno v rámci v projektu „EU peníze školám“

**OP VK oblast podpory 1.4 s názvem Zlepšení podmínek pro vzdělávání
na základních školách**

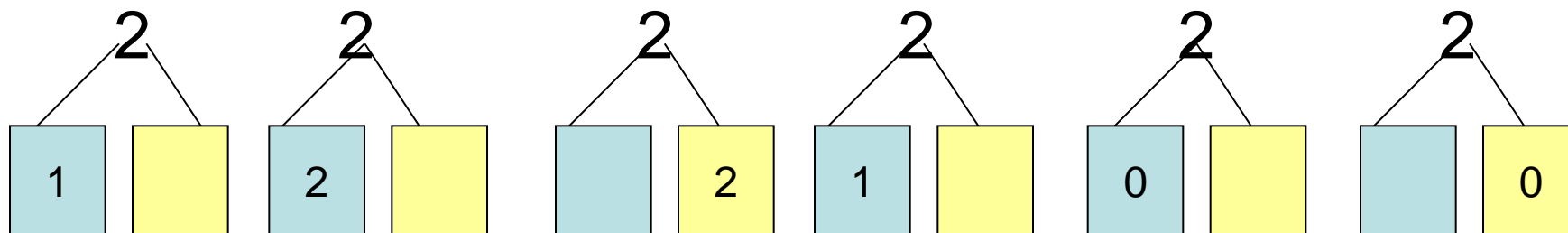
Anotace

Materiál určený pro žáky 1. ročníku základní školy do předmětu Matematika a její aplikace. Rozklad čísel 2,3,4,5 . Příklady na procvičování sčítání a odčítání do pěti.

Klíčová slova

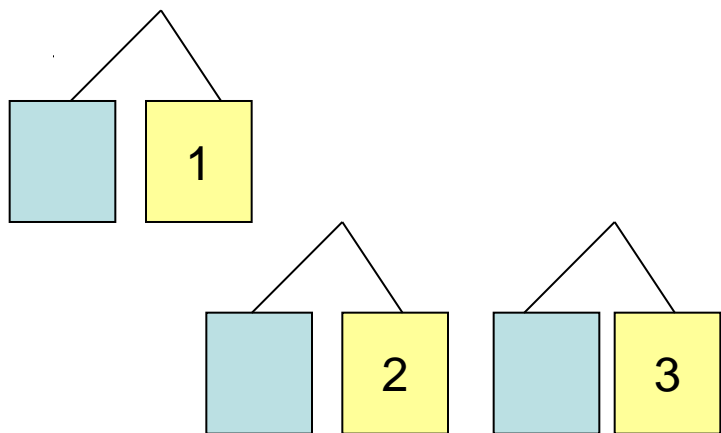
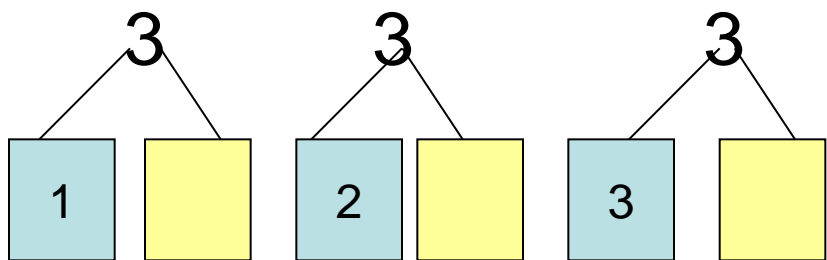
rozklad čísla , řetězec, řady čísel

Rozlož čísla, zapiš počet teček, dokresli tečky



1	+	1	=		1	-	1	=	
1	+	0	=		2	-	0	=	
0	+	1	=		2	-	2	=	
●		●			●		●		
			5					4	
			3		●		●		

Rozlož čísla



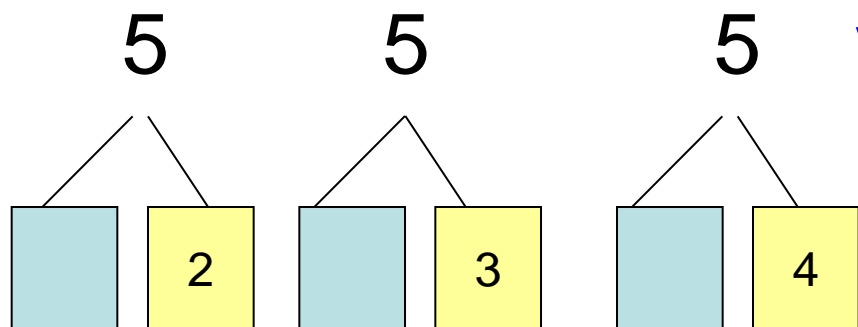
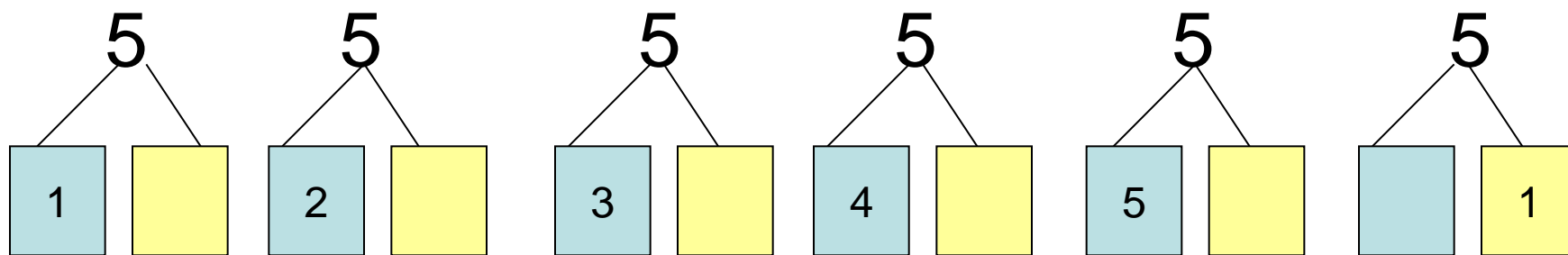
Vypočítej

1	+	2	=		3	-	1	=	
2	+	1	=		3	-	0	=	
0	+	3	=		3	-	2	=	

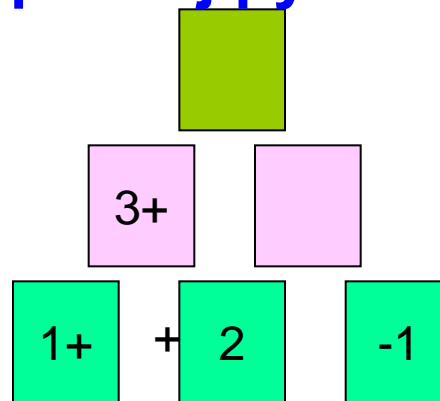
Domaluj ptáčky

	3		2
	3		1

Rozlož čísla

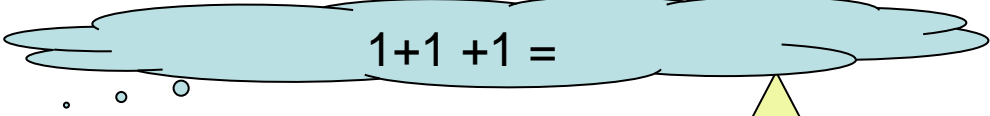


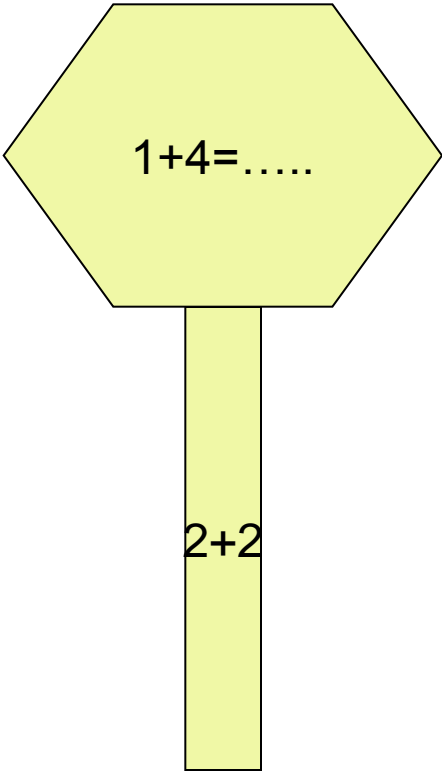
Vypočítej pyramidu



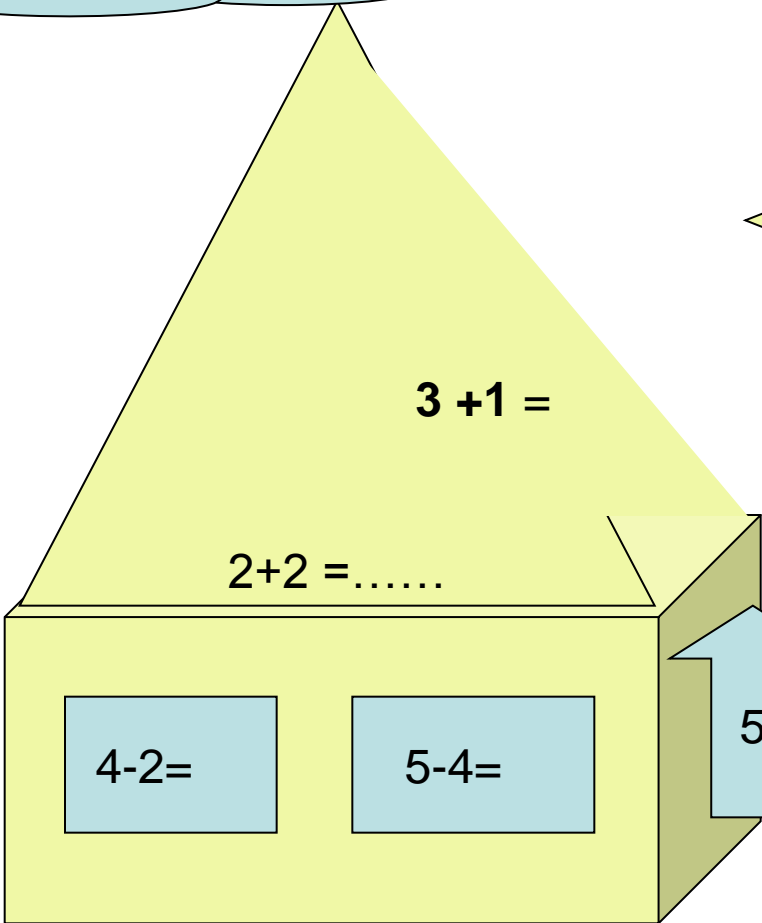
Vypočítej, vybarvi.

Škrtni vetřelce, zapiš správně do paprsků.


$$1+1+1=$$


$$1+4=.....$$


$$2+2$$


$$3+1=$$

$$2+2=.....$$

$$4-2=$$

$$5-4=$$

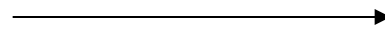


1,2,1,3,4,5,1



5

4



Použité zdroje

obrázky Microsoft Office

MOLNÁR,J, MIKULENKOVÁ, H: Matematika a její aplikace pro 1. ročník,
1. díl.: Prodos, Olomouc,
1. vydání , 64s. ISBN 80-7230-158-6