



VY_32_INOVACE_130_Středočeský kraj Člověk a jeho svět

Středočeský kraj - 4. ročník

Autor: Radka Matesová Základní škola Kosmonosy-Horní Stakory 54,
okres Mladá Boleslav

Vytvořeno v rámci projektu „EU peníze školám“

**OP VK oblast podpory 1.4 s názvem Zlepšení podmínek pro vzdělávání
na základních školách**

ANOTACE

Výukový materiál pro 4. ročník o kraji, ve kterém žijeme - Středočeský kraj

KRAJE ČESKÉ REPUBLIKY

KOLIK KRAJŮ MÁ ČESKÁ REPUBLIKA?

KTERÉ MĚSTO JE ZÁROVEŇ KRAJEM?


KTERÝ KRAJ MÁ KRAJSKÉ MĚSTO JIHLAVU?

VE KTERÉM KRAJI NAJDEŠ NEJVYŠŠÍ HORU ČR?

VE KTERÉM KRAJI PRAMENÍ ŘEKA VLTAVA?

KTERÝ KRAJ JE ZNÁMÝ SVÝMI RYBNÍKY?

VE KTERÉM KRAJI NAJDEŠ NAŠE NEJZNÁMĚJŠÍ LÁZNĚ?




KRAJ, VE KTERÉM ŽIJEME

STŘEDOČESKÝ KRAJ

KRAJSKÉ MĚSTO PRAHA

SOUSEDNÍ KRAJE:

- LIBERECKÝ KRAJ
- ÚSTECKÝ KRAJ
- KARLOVARSKÝ KRAJ
- PLZEŇSKÝ KRAJ
- JIHOČESKÝ KRAJ
- KRAJ VYSOČINA
- PARDOBICKÝ KRAJ
- KRALOVEHRADECKÝ KRAJ



VELKÁ MĚSTA

MLADÁ BOLESLAV

KLADNO

KUTNÁ HORA

KOLÍN

MĚLNÍK

BEROUN

KRALUPY NAD VLTAVOU

RAKOVNÍK

VINICE
KONĚPRUSKÉ
ČERNÉ UHLÍ
ZEMĚDĚLSTVÍ
ŠKODA
JESKYNĚ
STŘÍBRO
CHEMICKÉ ZÁVODY
CHEMICKÉ ZÁVODY

POVRCH STŘEDOČESKÉHO KRAJE

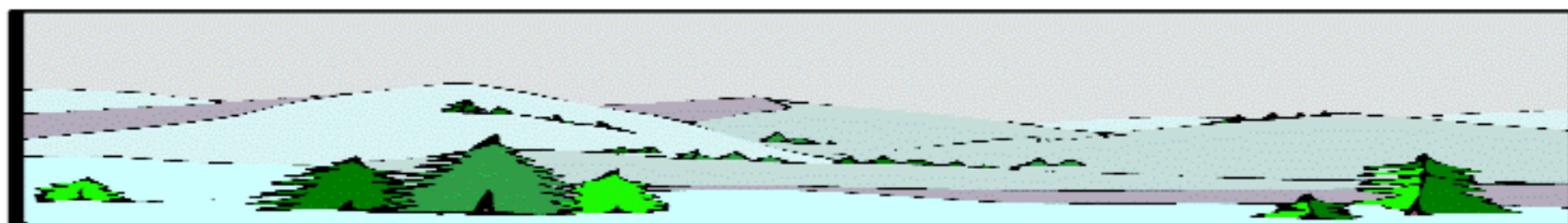
ČESKÁ TABULE - SEVEROVÝCHOD KRAJE - ROVINA



BRDSKÁ VRCHOVINA- JIHOZÁPAD



STŘEDOČESKÁ PAHORKATINA - JIH



VODSTVO

VLTAVA

LABE

ŽELIVKA

BEROUNKA

SÁZAVA

JIZERA

CIDLINA

ORLÍK, SLAPY

SOUTOK U MĚLNÍKA

NÁDRŽ ŠVIHOV

REKREAČNÍ OBLASTI



POUŽITÉ ZDROJE

CHALUPA, ŠTIKOVÁ. : Vlastivěda 5, Česká republika jako součást Evropy. Nová škola s.r.o. 2013. ISBN 978- 80- 7289- 479- 6

EASITEACH