

INVESTICE DO ROZVOJE VZDĚLÁVÁNÍ

VY_42_INOVACE_1_03_M_PÍSEMNÉ NÁSOBENÍ

VM je určen k procvičování učiva matematiky 4. ročníku – písemné násobení jednociferným činitelem. Pracovní list je možné použít pro společnou i samostatnou práci.

Autor: Mgr. Pavlína Kociánová

Vypočti příklady, kontrolu udělej na kalkulačce:

$$\begin{array}{r} 36 \\ .7 \\ \hline 251 \end{array}$$

$$\begin{array}{r} 93 \\ .4 \\ \hline \end{array}$$

$$\begin{array}{r} 63 \\ .3 \\ \hline \end{array}$$

$$\begin{array}{r} 46 \\ .8 \\ \hline \end{array}$$

$$\begin{array}{r} 45 \\ .7 \\ \hline \end{array}$$

$$\begin{array}{r} 48 \\ .7 \\ \hline \end{array}$$

$$\begin{array}{r} 71 \\ .4 \\ \hline \end{array}$$

$$\begin{array}{r} 59 \\ .2 \\ \hline \end{array}$$

Vyřeš slovní úlohu:

4. a 5. třídu navštěvuje 24 žáků. Tyto dva ročníky mají 6 vyučovacích předmětů, do kterých je nutné pořídit si linkovaný sešit.

Kolik linkovaných sešitů je potřeba koupit?










zápis _____

výpočet _____

odpověď _____









Vypočti příklady, kontrolu udělej na kalkulačce:

192 .7 ----- 	336 .3 ----- 	257 .7 ----- 	473 .4 ----- 
360 .3 ----- 	608 .3 ----- 	390 .7 ----- 	204 .6 ----- 

Výsledky seřaď vzestupně:

<
<
<
<
<
<
<

Vypočti příklady, výsledky zaokrouhli na tisíce:

1266 .8 -----  <input data-bbox="95 1037 233 1096" type="text"/>	2443 .7 -----  <input data-bbox="400 1037 538 1096" type="text"/>	1094 .5 -----  <input data-bbox="702 1037 841 1096" type="text"/>	3131 .4 -----  <input data-bbox="1022 1037 1161 1096" type="text"/>
2502 .5 -----  <input data-bbox="95 1297 233 1356" type="text"/>	1184 .9 -----  <input data-bbox="400 1297 538 1356" type="text"/>	3287 .6 -----  <input data-bbox="702 1297 841 1356" type="text"/>	2433 .2 -----  <input data-bbox="1022 1297 1161 1356" type="text"/>

Vyřeš slovní úlohu:

Teta si objednala 3 teflonové hrnce. Jeden hrnec stojí 1 205 Kč. Za dopravu teta zaplatila 139 Kč. Kolik byla celková cena, kterou teta zaplatila při převzetí hrnců?

zápis _____

výpočet _____

odpověď _____