

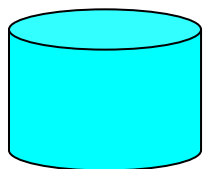
## VY\_42\_INOVACE\_1\_36\_M\_GEOMETRICKÁ TĚLESA

Pracovní list pro 5.ročník je možné použít pro společnou i samostatnou práci.


VM je určen na procvičení pojmenování prostorových těles, výpočtu povrchu krychle a kvádrů.

Autor: Mgr. Ivana Schaurová

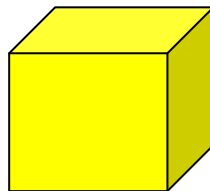
Pojmenuj geometrická tělesa.




\_\_\_\_\_



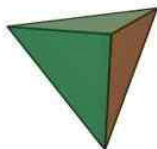
\_\_\_\_\_



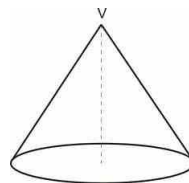
\_\_\_\_\_



\_\_\_\_\_



\_\_\_\_\_



\_\_\_\_\_

Vypočítej povrch krychle a kvádrů .

Hrana krychle:  $a = 50 \text{ cm}$

Hrany kvádrů:  $a = 5 \text{ cm}$

$b = 3 \text{ cm}$

$c = 2 \text{ cm}$

Náčrt:

Náčrt:

$$S = 6 \cdot a \cdot a$$

$$S = 2 \cdot a \cdot b + 2 \cdot b \cdot c + 2 \cdot a \cdot c$$

**Nakresli a pojmenuj věci ve tvém okolí, které se podobají geometrickým tělesům.**