



evropský  
sociální  
fond v ČR



EVROPSKÁ UNIE



MINISTERSTVO ŠKOLSTVÍ,  
MLÁDEŽE A TĚLOVÝCHOVY



OP Vzdělávání  
pro konkurenceschopnost

INVESTICE DO ROZVOJE VZDĚLÁVÁNÍ

Název školy: Základní škola a Mateřská škola, Dětenice, okres Jičín

Název: VY\_32\_INOVACE\_2C\_07 / Násobení do 100 II.

Autor: Ing. Petra Zábřahová

Číslo projektu: **CZ.1.07/1.4.00/21.3770**

Vytvořeno: 20.1. 2014

# ANOTACE



- Materiál je určen žákům 2 ročníku. Slouží ke zopakování učiva násobilky do 100 s přechodem přes 10.
- Prezentace je určena pro matematickou rozcvičku na začátku hodiny nebo jako samostatná práce, kterou společně s vyučujícím vyhodnotí.
- Žáci si mohou zapisovat průběžné výsledky do sešitu nebo pracovního listu.
- Je určeno k samostatné práci, motivaci a práci s výpočetní technikou.

$8 \cdot 7 = 56$

$5 \cdot 6 = 30$

$4 \cdot 3 = 12$

$5 \cdot 2 = 10$

$8 \cdot 9 = 72$

$3 \cdot 4 = 12$

$9 \cdot 1 = 9$



$12 \cdot 7 = 84$

$10 \cdot 6 = 60$

$9 \cdot 10 = 90$


$3 \cdot 4 = 12$

$5 \cdot 1 = 5$

$7 \cdot 3 = 21$

$8 \cdot 3 = 24$


Kluci z 6.A sbírají známky. Lád'a jich má 7, Jirka jich má 9x více. Kolik známek má Jirka?



ZNÁZORNI!

$$7 \times 9 = 63$$

ODPOVĚĎ:



Jirka má celkem 63 známek.

Eva si roznášením letáků vydělá 2Kč za týden. Kolik si Eva vydělá za 1 měsíc? Za 2 měsíce?



**ZNÁZORNÍ!**

$$2 \cdot 4 = 8$$

(za měsíc)


$$8 \cdot 2 = 16$$

(za 2 měsíce)

**ODPOVĚDI:**

Eva si za 1 měsíc vydělá **8** Kč.

Eva si za 2 měsíce vydělá **16** Kč.



Tobiáš pomáhal tatínkovi rovnať dřevo na vozík.  
V pondělí narovnal 3 vozíky, ale v úterý jich  
narovnal 9x více. Kolik vozíků Tobiáš pomohl  
tatínkovi narovnat celkem?



ZNÁZORNÍ!

$$3 \times 9 = 27$$

ODPOVĚĎ!



**Tobiáš pomohl tatínkovi narovnat celkem 27 vozíků dřeva.**

# Zdroje a citace:



<http://office.microsoft.com>