



INVESTICE DO ROZVOJE VZDĚLÁVÁNÍ

Název školy: Základní škola a Mateřská škola, Dětenice, okres Jičín

Název: VY_32_INOVACE_2C_13 /Násobení, dělení 8,9 do 100.

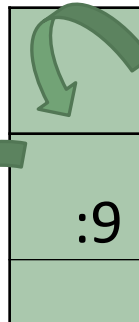

Ing. Petra Zábrahová

Číslo projektu: **CZ.1.07/1.4.00/21.3770**

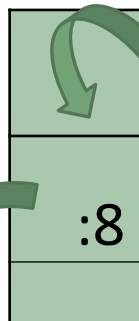
Vytvořeno: 20. 1. 2014

ANOTACE

- Materiál je určen žákům 2 ročníku. Slouží ke zopakování učiva násobení a dělení 8 a 9 do 100.
- Prezentace je určená pro matematickou rozcvičku na začátku hodiny nebo jako samostatná práce, kterou společně s vyučujícím vyhodnotí.
- Žáci si mohou zapisovat průběžné výsledky do sešitu nebo pracovního listu.
- Je určeno k samostatné práci, motivaci a práci s výpočetní technikou.



	9	18	81	63	27	45	54	90
:9	1	2	9	7	3	5	6	10
x8	8	16	72	56	24	40	48	80



	16	24	80	72	48	8	56	40
:8	2	3	10	9	6	1	7	5
x9	18	27	90	81	54	9	63	45

DOPLŇ PŘÍKLADY:

$$\bigcirc_ : 8 = 2$$

$$\bigcirc_ : 9 = 3$$

$$\bigcirc_ : 8 = 1$$

$$\bigcirc_ : 9 = 5$$

$$\bigcirc_ : 8 = 10$$

$$\bigcirc_ : 9 = 8$$

$$\bigcirc_ : 8 = 7$$

$$\bigcirc_ : 9 = 10$$

$$\bigcirc_ : 8 = 9$$

$$\bigcirc_ : 9 = 9$$

DOPLŇ PŘÍKLADY:

$$\bigcirc \underline{16} : 8 = 2$$

$$\bigcirc \underline{27} : 9 = 3$$

$$\bigcirc \underline{8} : 8 = 1$$

$$\bigcirc \underline{45} : 9 = 5$$

$$\bigcirc \underline{80} : 8 = 10$$

$$\bigcirc \underline{72} : 9 = 8$$

$$\bigcirc \underline{56} : 8 = 7$$

$$\bigcirc \underline{90} : 9 = 10$$

$$\bigcirc \underline{72} : 8 = 9$$

$$\bigcirc \underline{81} : 9 = 9$$

Í

O

E

B

N

S

Á

4

5

7

6

3

8

9

$$27 : 9 = 3$$

$$48 : 8 = 6$$

$$81 : 9 = 9$$

$$56 : 8 = 7$$

$$72 : 9 = 8$$

$$24 : 8 = 3$$

$$45 : 9 = 5$$

$$32 : 8 = 4$$

N

Á

S

O


B

E

N

Í

Na školní výlet vyjely 2 autobusy. Do prvního autobusu se vešlo 48 dětí. Druhý autobus se nenaplnil a v autobuse jelo 6krát méně dětí. Kolik dětí jelo ve 2 autobuse? Kolik dětí jelo celkem na výlet?




Znázorni

$$48 \div 6 = 8$$

$$48 + 8 = 56$$

Odpověď:



V druhém autobuse jelo 8 dětí.

Na výlet jelo celkem 56 dětí.

Jeden lístek do kina stojí 11Kč.
Kolik stojí 8 lístků?



Znázorni

11



8



88

Odpověď:



8 lístků do kina stojí 88Kč.

V cukrárně pracuje 6 cukrářek.
Každá upeče za 1 den 8 dortů. Kolik
dortů upečou cukrářky dohromady?



Znázorni

$$6 \times 8 = 48$$

Odpověď:



Pekařky upečou dohromady 48 dortů..

Doplň příklady:

$$\bigcirc _ : 6 = 2$$

$$\bigcirc _ : 6 = 5$$

$$\bigcirc _ : 6 = 8$$

$$\bigcirc _ : 6 = 10$$

$$\bigcirc _ : 6 = 9$$

$$\bigcirc _ : 6 = 2$$

$$\bigcirc _ : 6 = 5$$

$$\bigcirc _ : 6 = 8$$

$$\bigcirc _ : 6 = 10$$

$$\bigcirc _ : 6 = 9$$

Doplň příklady:

$$\textcircled{\text{O}} \underline{12} : 6 = 2$$

$$\textcircled{\text{O}} \underline{30} : 6 = 5$$

$$\textcircled{\text{O}} \underline{48} : 6 = 8$$

$$\textcircled{\text{O}} \underline{60} : 6 = 10$$

$$\textcircled{\text{O}} \underline{54} : 6 = 9$$

$$\textcircled{\text{O}} \underline{14} : 7 = 2$$

$$\textcircled{\text{O}} \underline{35} : 7 = 5$$

$$\textcircled{\text{O}} \underline{56} : 7 = 8$$

$$\textcircled{\text{O}} \underline{70} : 7 = 10$$

$$\textcircled{\text{O}} \underline{63} : 7 = 9$$

Zdroje a citace:

- <http://office.microsoft.com>