



ZŠ Týnec nad Labem

AUTOR: Hana Holečková

VY_32_INOVACE_02_Matematika 2.ročník_Počítání s přechodem přes desítku II.

Téma: Počítání s přechodem přes desítku II.

Vytvořeno: září 2011


CZ.1.07/1.4.00/21.1921



INVESTICE DO ROZVOJE VZDĚLÁVÁNÍ

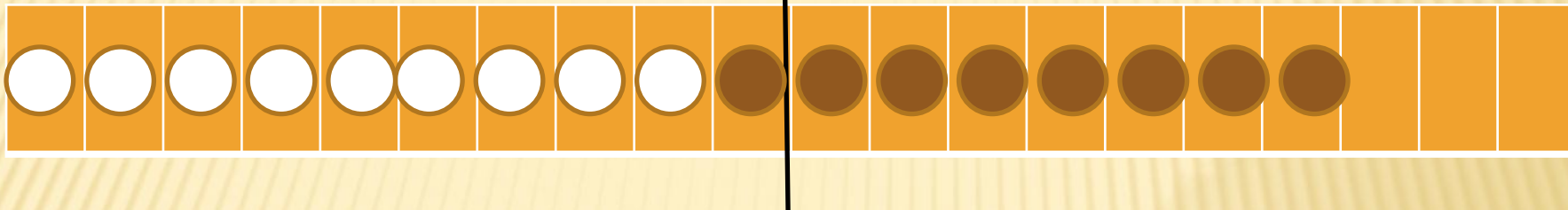
Anotace: určeno žákům 2. třídy. Prezentace slouží jako pomůcka při vysvětlování sčítání přes desítku. Využívá se metody znázorňování. Ostatní děti si mohou ukazovat příklady pomocí puntíků.

Napiš příklady a vypočítej:



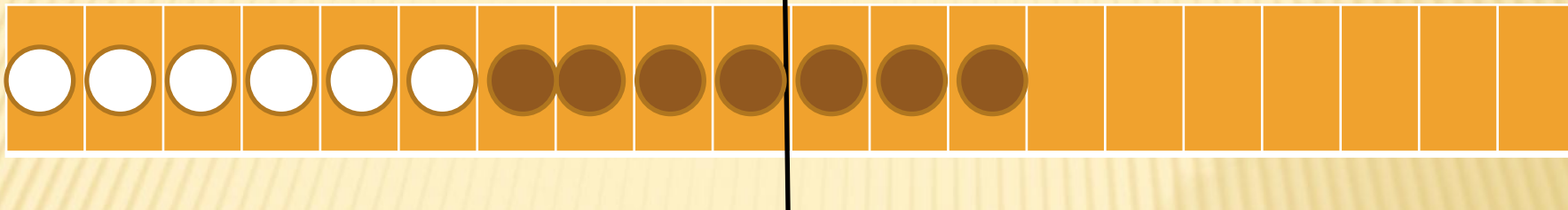
$$\bigcirc + \bigcirc = \bigcirc$$

Napiš příklady a vypočítej:



$$\bigcirc + \bigcirc = \bigcirc$$


Napiš příklady a vypočítej:



$$\bigcirc + \bigcirc = \bigcirc$$




Napiš příklad a vypočítej:



$$\bigcirc + \bigcirc = \bigcirc$$

Napiš příklady a vypočítej:



$$\bigcirc + \bigcirc = \bigcirc$$

× POUŽITÉ ZDROJE

× <http://microsoft.com>