



## INVESTICE DO ROZVOJE VZDĚLÁVÁNÍ

**Vzdělávací oblast : Člověk a příroda**

**Předmět : Přírodopis**

**Téma : řád primáti**

**Ročník: 8.**

**Popis:** Pracovní list pro opakování

**Očekávaný výstup:** Žáci si zopakují základní informace o řádu primáti

**Druh učebního materiálu:** pracovní list

**Autor:** Dagmar Holá

**Poznámky:**


## Opakování primátů:

- 1) Napiš oblasti, kde se můžou primáty vyskytovat.
- 2) Napiš rozdíly mezi poloopicemi a opicemi.
- 3) Který z podřádů je předchůdcem člověka?
- 4) Napiš, proč se zřizují národní parky.
- 5) K čemu využívají primáty „hřebínek“?
- 6) Jak se změnilo postavení palce u primátů oproti např. šelmám?
- 7) Jmenuj 3 zástupce lidoopů.
- 8) Napiš funkci mimických svalů.
- 9) Poznej tyto zástupce:

1.




2.



3.



4.



## Opakování primáti:


- 1) Napiš oblasti, kde se můžou primáti vyskytovat. **Tropy a subtropy Afriky a Asie.**
- 2) Napiš rozdíly mezi poloopicemi a opicemi. **Ploopyce jsou nižší primáti. Mozek méně vyvinut. Nejsou předchůdci člověka.**
- 3) Který z podřádů je předchůdcem člověka? **Opice jsou předchůdci člověka.**
- 4) Napiš, proč se zřizují národní parky. **Ochrana vzácných druhů živočichů.**
- 5) K čemu využívají primáti „hřebínek“? **K čištění srsti.**
- 6) Jak se změnilo postavení palce u primátů oproti např. šelmám? **Palec je postaven oproti ostatním prstům.**
- 7) Jmenuj 3 zástupce lidoopů. **Gorila horská, orangutan, šimpanz učenlivý.**
- 8) Napiš funkci mimických svalů. **Svaly obličeje. Vyjadřují mimiku zvířete.**
- 9) Poznej tyto zástupce:

1.



Lemur katta

2.




Malpa kapucínská

3.



Šimpanz učenlivý

4.



Gorila horská

Obrázky:

1.

5.1.2010 Obrázek dostupný z adresy:

[http://commons.wikimedia.org/wiki/File:Lemur\\_Kata.JPG](http://commons.wikimedia.org/wiki/File:Lemur_Kata.JPG)

2.

5.1.2010 Obrázek dostupný z adresy:

[http://commons.wikimedia.org/wiki/File:Capuchin\\_Costa\\_Rica.jpg](http://commons.wikimedia.org/wiki/File:Capuchin_Costa_Rica.jpg)

3.

5.1.2010 Obrázek dostupný z adresy:

[http://commons.wikimedia.org/wiki/File:Lightmatter\\_chimp.jpg](http://commons.wikimedia.org/wiki/File:Lightmatter_chimp.jpg)

4.

5.1.2010 Obrázek dostupný z adresy:

[http://commons.wikimedia.org/wiki/File:Susa\\_group,\\_mountain\\_gorilla.jpg](http://commons.wikimedia.org/wiki/File:Susa_group,_mountain_gorilla.jpg)