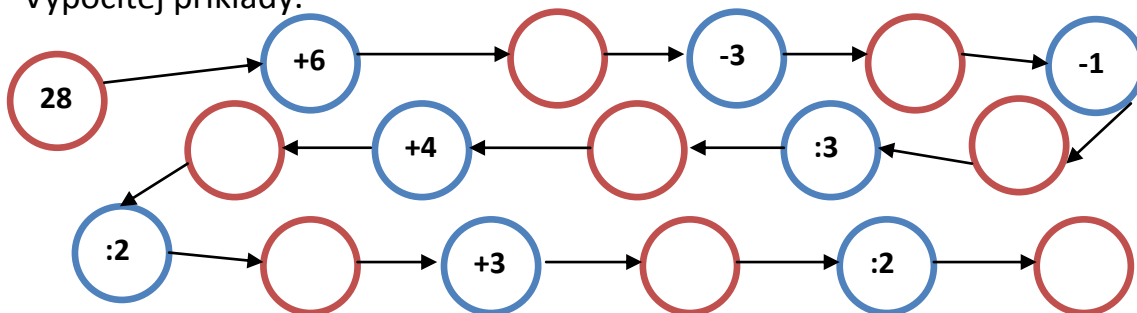


1. Vypočítej příklady.



2. Vypočítej příklady:

$8 + 5 - 2 = \underline{\quad}$

$7 + 9 - 1 = \underline{\quad}$

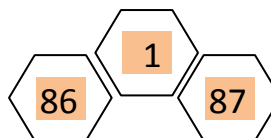
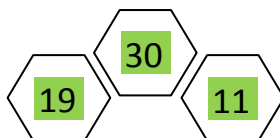
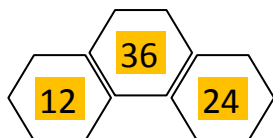
$14 - 7 + 2 = \underline{\quad}$

$15 - 2 + 4 = \underline{\quad}$

$13 - 3 + 3 = \underline{\quad}$

$18 + 3 - 1 = \underline{\quad}$

3. Vytvoř z daných čísel 4 příklady:



.....

.....

.....

4. Tygra bolely zuby. Veterinář mu musel z 12 bolavých zubů 9 vytrhnout. Kolik zubů mu zůstalo?

.....

.....



Odpověď: