



## INVESTICE DO ROZVOJE VZDĚLÁVÁNÍ

**Vzdělávací oblast: ČLOVĚK A PŘÍRODA**

**Předmět: ZEMĚPIS**

**Téma: AFRIKA – POLOHA, ROZLOHA, POVRCH, PODNEBÍ, VODSTVO**

**Ročník: 6.**

**Popis:** Písemná práce obsahuje látku čtvrtého čtvrtletí šestého ročníku. Žáci si ověří, zopakují a procvičí Afriku – poloha, rozloha, povrch, podnebí, vodstvo. S kontrolou časově odpovídá práci 1/2 vyučovací hodiny

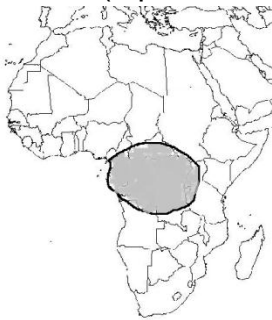
**Očekávaný výstup:** Žák si prověří znalosti regionálního zeměpisu o Africe. Zda dokáže správně určovat polohu kontinentu, zda má představu o jeho velikosti v porovnání s ostatními kontinenty, zda umí uspořádat biotu (typy přírodních krajín) v závislosti na zeměpisné šířce, zda umí zakreslit do slepé mapy některá pohoří.

**Druh učebního materiálu:** písemná práce

**Autor:** Mgr. Petr Papáček

**Poznámky:**

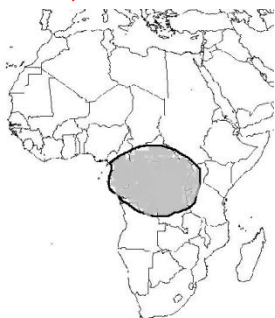
- 1) Napiš jednotlivé světadíly podle velikosti od nejmenšího po největší. (Afrika, Amerika, Antarktida, Asie, Austrálie a Oceánie, Evropa)
- 2) Mezi jakými oceány leží Afrika?
- 3) Jaký průliv spojuje moře oddělující Afriku a Evropu s Atlantským oceánem?
- 4) Největší ostrov Afriky?
- 5) Jméno pouště, kde jsou původními obyvateli Křováci?
- 6) Největší poušť Afriky?
- 7) Napiš, který vegetační pás je v mapě označen šedivou barvou a popiš podnebí v této oblasti (teplota, srážky atd. – vše co víš)



- 8) Nejdélší řeka Afriky?
- 9) Nejhlubší jezero Afriky?
- 10) Zakresli do mapy tyto pojmy:
  - A) Somálský poloostrov
  - B) Mosambický průliv
  - C) Atlantský oceán
  - D) Konžská pánev
  - E) Dračí hory



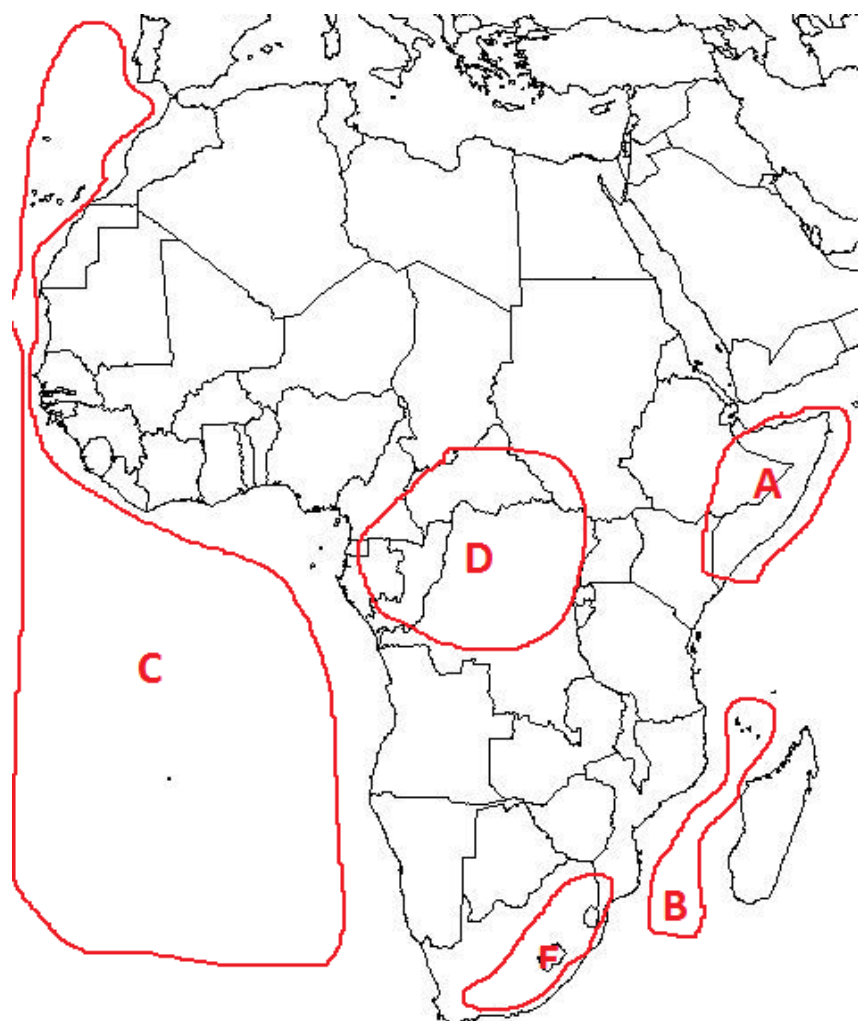
- 1) Napiš jednotlivé světadíly podle velikosti od nejmenšího po největší. (Afrika, Amerika, Antarktida, Asie, Austrálie a Oceánie, Evropa) **AUSTRÁLIE, EVROPA, ANTARKTIDA, AFRIKA, AMERIKA, ASIE (1 BOD)**
- 2) Mezi jakými oceány leží Afrika? **MEZI INDICKÝM A ATLANTSKÝM O. (1 BOD)**
- 3) Jaký průliv spojuje moře oddělující Afriku a Evropu s Atlantským oceánem? **GIBRALTARSKÝ PRŮLIV (1 BOD)**
- 4) Největší ostrov Afriky? **MADAGASKAR (1 BOD)**
- 5) Jméno pouště, kde jsou původními obyvateli Křováci? **KALAHARI (1 BOD)**
- 6) Největší poušť Afriky? **SAHARA (1 BOD)**
- 7) Napiš, který vegetační pás je v mapě označen šedivou barvou a popiš podnebí v této oblasti (teplota, srážky atd. – vše co víš) **TROPICKÉ LESY, HORKO A VLHKO PO CELÝ ROK, CCA 25°C PO CELÝ ROK, KAŽDÝ DEN PRŠÍ (1 BOD)**



- 8) Nejdelší řeka Afriky? **NIL (1 BOD)**
- 9) Nejhlubší jezero Afriky? **TANGANIKA (1 BOD)**

10) Zakresli do mapy tyto pojmy:

- A) Somálský poloostrov
  - B) Mosambický průliv
  - C) Atlantský oceán
  - D) Konžská pánev
  - E) Dračí hory
- (5 BODŮ)**



BODOVÁNÍ:

VÝBORNĚ = 14 – 13 BODŮ

CHVALITEBNĚ = 12 – 10 BODŮ

DOBŘE = 9 – 7 BODŮ

DOSTATEČNĚ = 6 – 3 BODY

NEDOSTA TEČNĚ = 2 – 0 BODŮ