

Výukový materiál

zpracovaný v rámci projektu



Základní škola Sokolov, Běžecká 2055
pracoviště Boženy Němcové 1784

Název a číslo projektu: Moderní škola, CZ.1.07/1.4.00/21.3331

Šablona: III/2 Inovace a zkvalitnění výuky prostřednictvím ICT

Sada/předmět (oblast): Matematika

Číslo výukového materiálu: 4_M_06

XI 6-13:13

Krychle, kvádr - síť

Anotace výukového materiálu: Žáci popíší krychli, kvádr, sestaví jejich síť. Naučí se rozlišovat, kdy jde a kdy nejde o síť krychle, kvádrů. Při kliknutí na obrázek sítě se objeví správná odpověď.

Klíčová slova: krychle, kvádr, síť

Předmět: Matematika

Ročník: 6. ročník

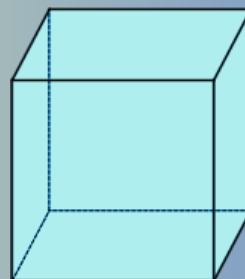
Autor: Mgr. Luboš Beran

Použité zdroje: SMART Notebook Version 11.0.583.0 10:41:52 May 3 2012


XI 6-13:13

Krychle

Doplňuj:
 Krychle má _____ stěn,
 _____ hran
 a _____ vrcholů.
 Stěny krychle tvoří _____ .



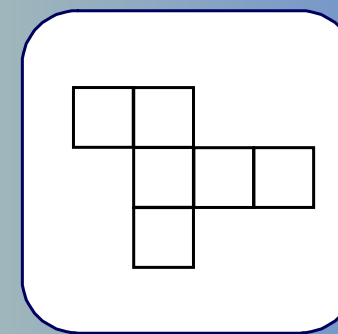
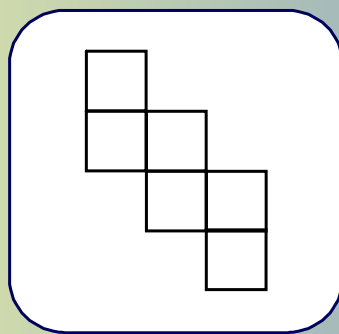
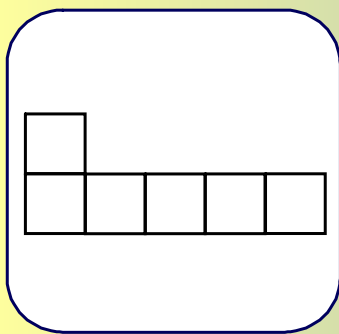
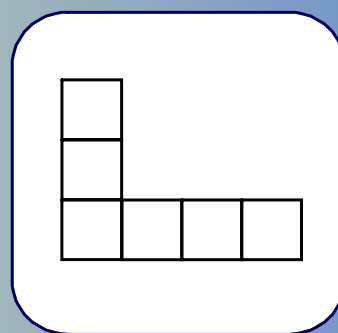
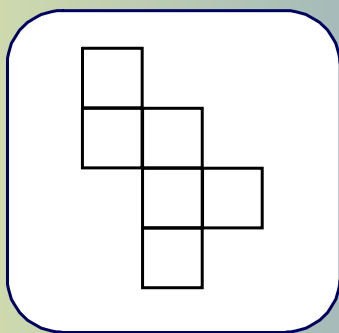
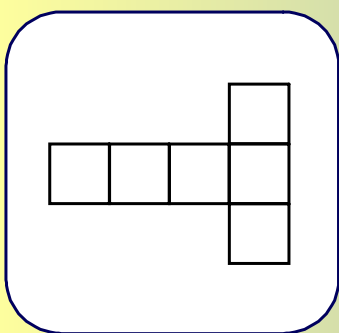
Síť krychle



Pamatuj

II 4-9:47

Rozhodni, ze kterých sítí můžeš poskládat krychli



V 6-22:16

Kvádr

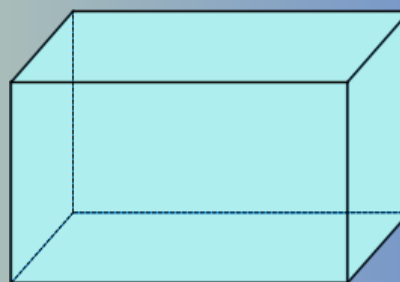
Doplňuj:

Kvádr má _____ stěn,

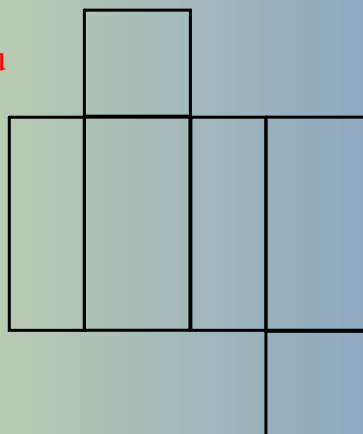
_____ hran

a _____ vrcholů.

Protější stěny kvádrů jsou _____ .



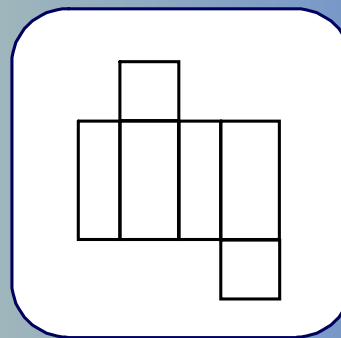
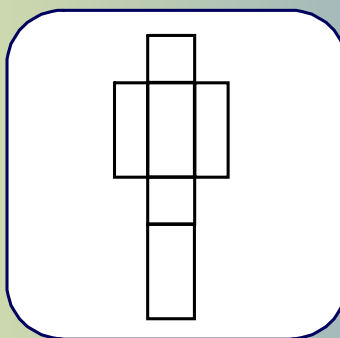
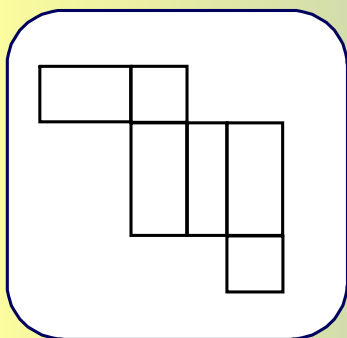
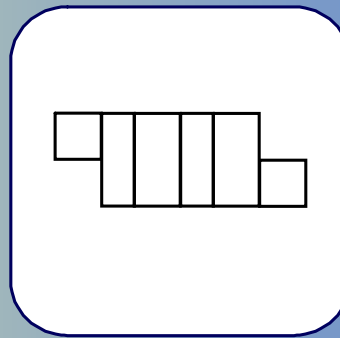
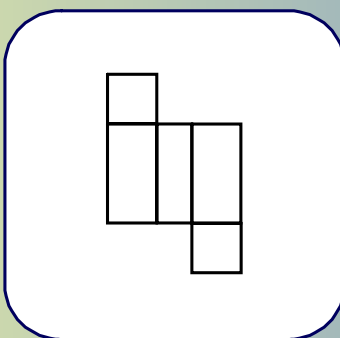
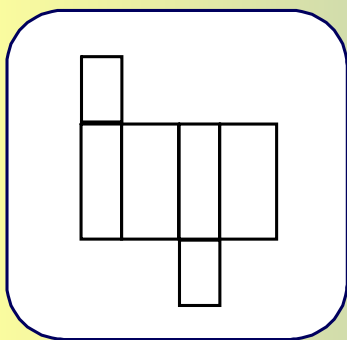
Síť kvádrů



Pamatuj

II 4-9:47

Rozhodni, ze kterých sítí můžeš poskládat kvádr



II 4-9:47