

Výukový materiál zpracovaný v rámci projektu



Základní škola Sokolov, Boženy Němcové 1784

Název a číslo projektu: Moderní škola, CZ.1.07/1.4.00/21.3331

Šablona: III/2 Inovace a zkvalitnění výuky prostřednictvím ICT

Sada/předmět(oblast): Regionální zeměpis 2

Číslo výukového materiálu: 7_Z_02

Střední Evropa – pracovní list

Anotace:

Pracovní list slouží k seznámení s regionem Střední Evropa. Žák získá přehled o poloze a velikosti jednotlivých států, jejich přírodních podmínkách. Učí se orientovat na mapě.

Klíčová slova:

Předmět: Zeměpis

Ročník:8.

Autor: Mgr. Josef Hubený

Použité zdroje: verze programu, zdroje dle platné citace

Střední Evropa

1. K zemím střední Evropy doplň rozlohu a pořadí od největšího k nejmenšímu, počet obyvatel a hlavní město (atlas str. 1).

	rozloha	pořadí	počet obyvatel	pořadí	hlavní město
Německo					
Rakousko					
Lichtenštejnsko					
Maďarsko					
Slovensko					
Polsko					
Švýcarsko					
Česká republika					

2. V mapě barevně odliš jednotlivé státy střední Evropy, do obdélníku napiš název státu, popiš hlavní města.

3. Modře obtáhni a popiš řeky Rýn, Labe, Odra, Visla, Dunaj, Tisa, Mohan, jezero Balaton, Mazurskou jezerní plošinu, Pomořanskou jezerní plošinu, ostrov Rujana.


4. Vypiš pět nížin a pět pohoří, které leží ve Střední Evropě.

nížiny: _____


pohoří: _____

5. Vybarvi vlajky střeoevropských států.

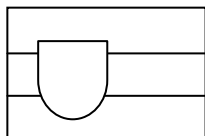
Německo




Rakousko



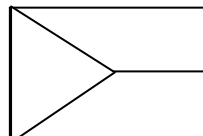
Slovensko



Maďarsko



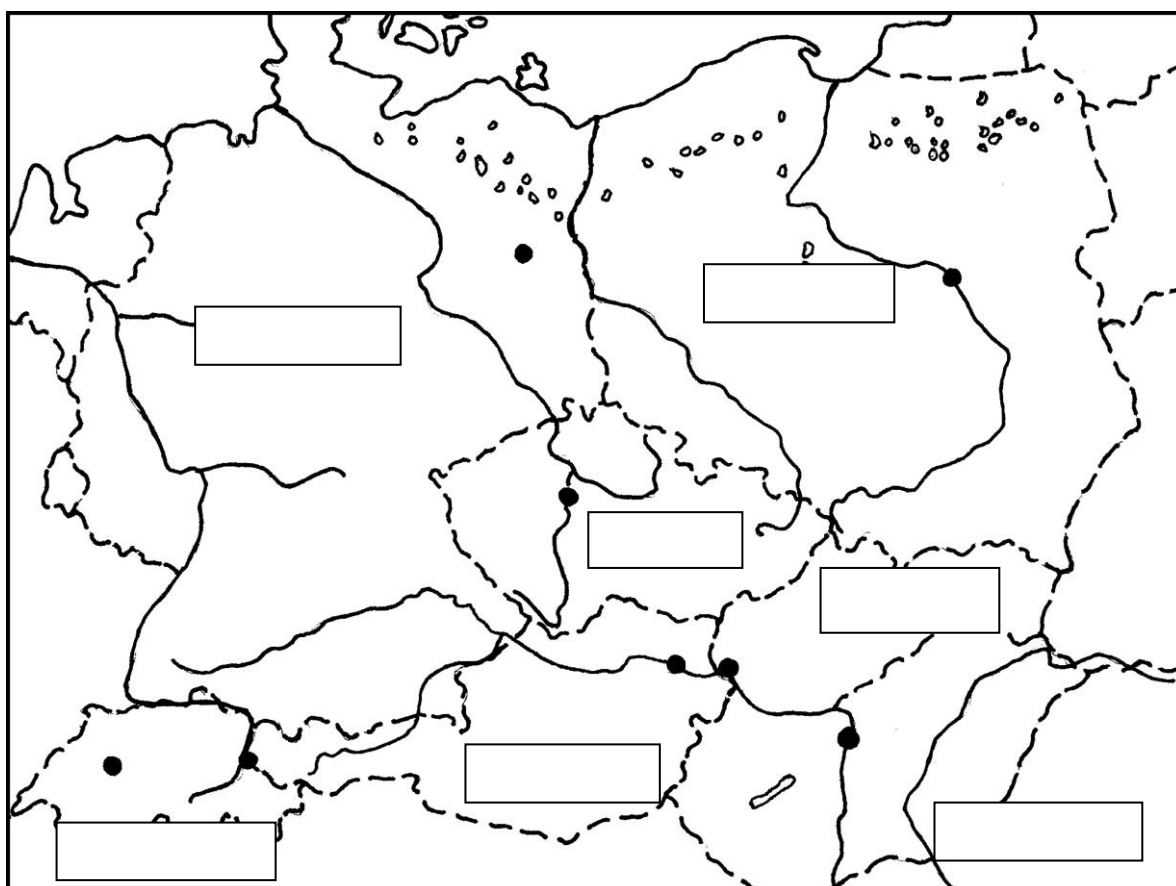
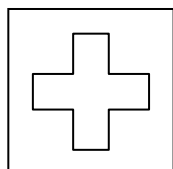
Česká republika



Polsko



Švýcarsko



Střední Evropa

1. K zemím střední Evropy doplň rozlohu a pořadí od největšího k nejmenšímu, počet obyvatel a hlavní město (atlas str. 1).

	rozloha	pořadí	počet obyvatel	pořadí	hlavní město
Německo	357 020	1	82 433 000	1	Berlín
Rakousko	83 859	4	8 168 000	5	Vídeň
Lichtenštejnsko	160	8	34 800	8	Vaduz
Maďarsko	93 036	3	10 078 000	4	Budapešť
Slovensko	49 034	6	5 384 000	7	Bratislava
Polsko	312 685	2	38 164 000	2	Varšava
Švýcarsko	41 293	7	7 519 000	6	Bern
Česká republika	78 864	5	10 253 000	3	Praha

2. V mapě barevně odliš jednotlivé státy střední Evropy, do obdélníku napiš název státu, popiš hlavní města.

3. Modře obtáhni a popiš řeky Rýn, Labe, Odra, Visla, Dunaj, Tisa, Mohan, jezero Balaton, Mazurskou jezerní plošinu, Pomořanskou jezerní plošinu, ostrov Rujana.

4. Vypiš pět nížin a pět pohoří, které leží ve Střední Evropě.

nížiny: Mazovská, Středopolské, Severoněmecká, Velká Uherská, Malá Uherská, Pobaltská

pohoří: Tatry, Karpaty, Alpy, Taury, Švábský Jura, Francký jura,

5. Vybarvi vlajky střeoevropských států.

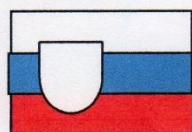
Německo



Rakousko




Slovensko




Maďarsko



Česká republika



Polsko



Švýcarsko

