



Tento materiál byl vytvořen rámci projektu EU peníze školám
Operačního programu Vzdělávání pro konkurenceschopnost

ZŠ ÚPRKOVA

Název školy:	Základní škola a Mateřská škola, Hradec Králové, Úprkova 1
Autor:	Mgr. Kateřina Mitášová
Název:	VY_32_INOVACE_9A_4_Test kraje
Téma:	9A_VL5.roč.
Datum ověření:	VM ověřen dne 17.9.2012 v 5.B
Číslo projektu:	CZ.1.07/1.4.00/21.3215
Anotace:	DUM je možno využít na interaktivní tabuli. DUM je určen k získání vědomosti o Praze. Praha v tomto DUMU je charakterizována jako samostatný kraj. DUM obsahuje skupinové úkoly.

POZNÁŠ KRAJ?



ANO, SAMOSTATNÝ KRAJ ...

PRAHA



PRAHA



DOPLŇ INFORMACE.

Hlavní město Praha je samostatným krajem.

POLOHA: Leží ve _____ Čechách.

POVRCH: Je _____. Město se rozkládá v místě Pražské _____.

VODSTVO: Prahou protéká nejdelší řeka České republiky _____, do níž se zde vlévá Berounka.

ZEMĚDĚLSTVÍ: Není rozšířeno - v přilehlých částech _____ a zelenina.

PRŮMYSL: Velký význam má cestovní ruch, _____ a strojírenský průmysl.

ZKONTROLUJ SI ...

Hlavní město Praha je samostatným krajem.

POLOHA: Leží ve **STŘEDNÍCH** Čechách.

POVRCH: Je **ČLENITÝ**. Město se rozkládá v místě Pražské **PLOŠINY**.

VODSTVO: Prahou protéká nejdelší řeka České republiky **VLTAVA**, do níž se zde vlévá Berounka.

ZEMĚDĚLSTVÍ: Není rozšířeno - v přilehlých částech **KVĚTINY** a zelenina.

PRŮMYSL: Velký význam má cestovní ruch, **POTRAVINÁŘSKÝ** a strojírenský průmysl.

VLAJKA



ZNAK


VÝZNAMNÉ PAMÁTKY PRAHY



PRAŽSKÝ HRAD


KARLŮV MOST



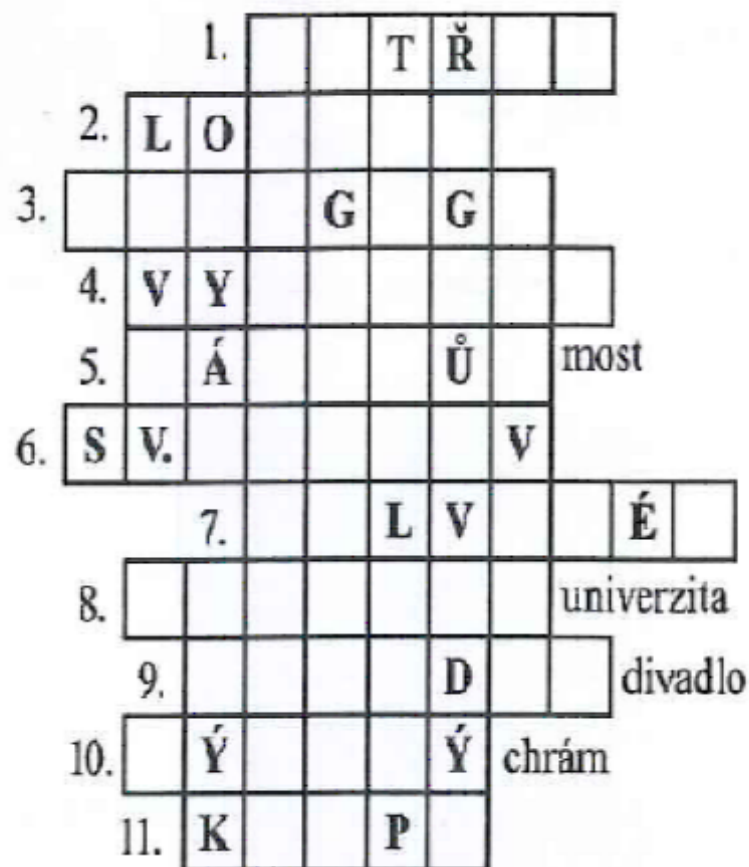


VALDŠTEJNSKÝ PALÁC

STAROMĚSTSKÉ NÁMĚSTÍ



1. Vrch s rozhlednou
2. Věž se zvonkohrou
3. Židovský chrám
4. Památné místo s pohřebištěm Slavin
5. Most severně od Karlova mostu
6. Patron české země
7. Královský letohrádek na Hradčanech
8. Název univerzity v Praze
9. Největší pražské divadlo otevřené v roce 1883
10. Chrám na Staroměstském náměstí
11. Část Prahy mezi Vltavou a Čertovkou



Tajenka: _____ . Byl to začátek „Královské cesty“, kudy kráčeli čeští králové při své korunovaci. Vedla od někdejšího Královského dvora na Starém Městě Celetnou ulicí přes Staroměstské náměstí na Pražský hrad. (Ukažte si na mapě.)



PRAŠNÁ BRÁNA



Tento materiál byl vytvořen rámci projektu EU peníze školám
Operačního programu Vzdělávání pro konkurenceschopnost



**Použití
zdroje:**

ČAPKA, František. *Vlastivěda 5*. Brno: Nová škola, 2005, ISBN 80-7289-070-0.

ČAPKA, František. *Vlastivěda 5*. Brno: Nová škola, 2005, ISBN 80-7289-071-9.

Otevřená galerie Microsoft Office.
[cit. 2011-10-12]. Dostupné z WWW:
http://cs.wikipedia.org/wiki/Soubor:Kraj_Hlavni_mesto_Praha.svg
[online]. [cit. 2012-09-11]. Dostupné z: <http://cs.wikipedia.org/wiki/Praha>
[online]. [cit. 2012-09-11]. Dostupné z:
<http://www.ceskatelevize.cz/porady/10268040165-ceske-pexeso/210552116240001-kraj-praha/video/>
[online]. [cit. 2012-09-11]. Dostupné z:
http://upload.wikimedia.org/wikipedia/commons/d/d4/Hradschin_Prag.jpg
[online]. [cit. 2012-09-11]. Dostupné z:
http://upload.wikimedia.org/wikipedia/commons/e/e5/Praag_012.jpg
[online]. [cit. 2012-09-11]. Dostupné z:
http://upload.wikimedia.org/wikipedia/commons/7/7c/Prag_Wallensteinpalatset.JPG
[online]. [cit. 2012-09-11]. Dostupné z:
http://upload.wikimedia.org/wikipedia/commons/1/12/Views_of_Prague_from_Church_of_Our_Lady_in_front_of_T%C3%BDn_tower27.jpg
[online]. [cit. 2012-09-11]. Dostupné z:

http://cs.wikipedia.org/wiki/Pra%C5%A1n%C3%A1_br%C3%A1na
[online]. [cit. 2012-09-11]. Dostupné z:
http://cs.wikipedia.org/wiki/Pra%C5%A1n%C3%A1_br%C3%A1na

Citace:

Anotace: