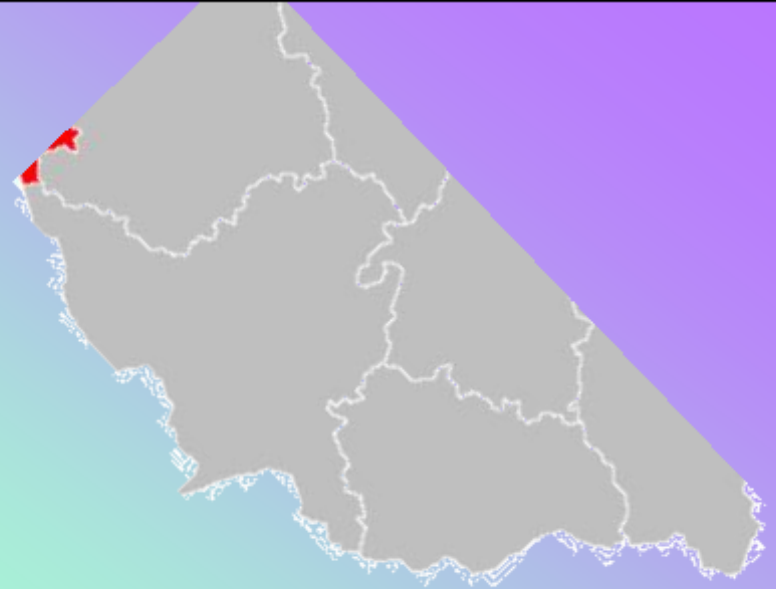


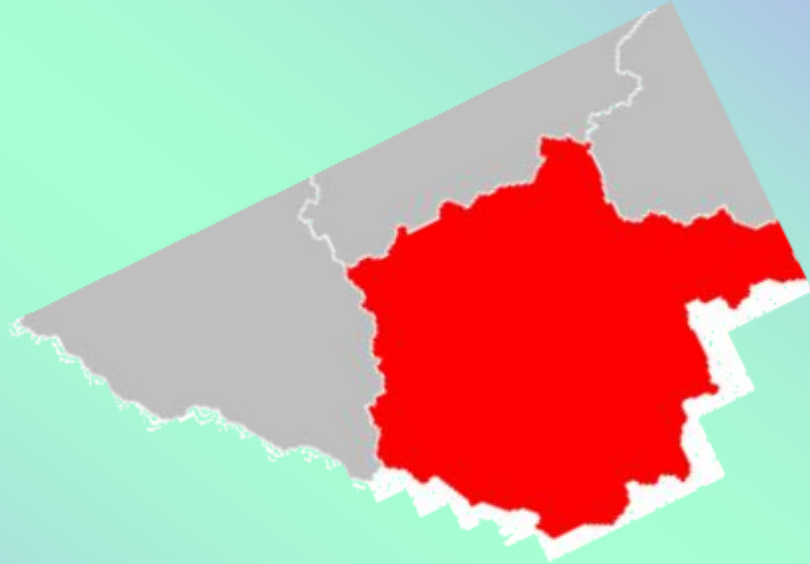
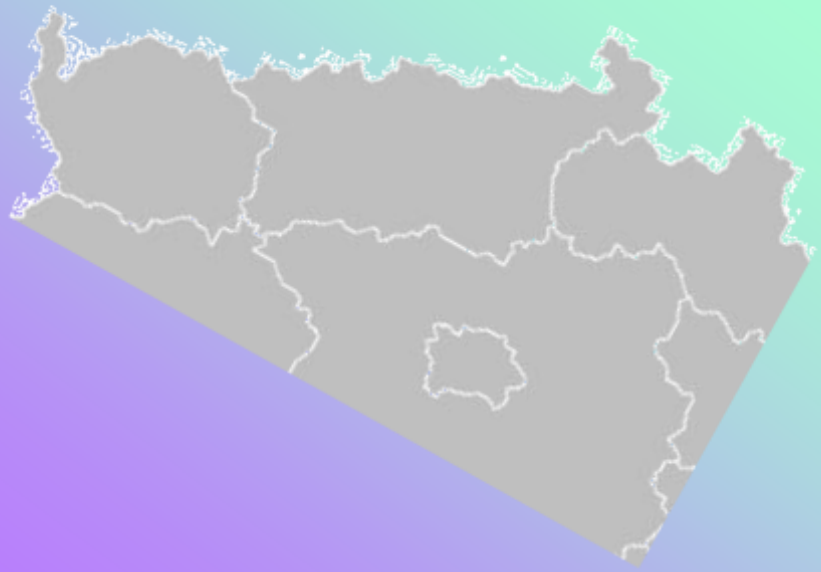


Tento materiál byl vytvořen rámci projektu EU peníze školám
Operačního programu Vzdělávání pro konkurenceschopnost

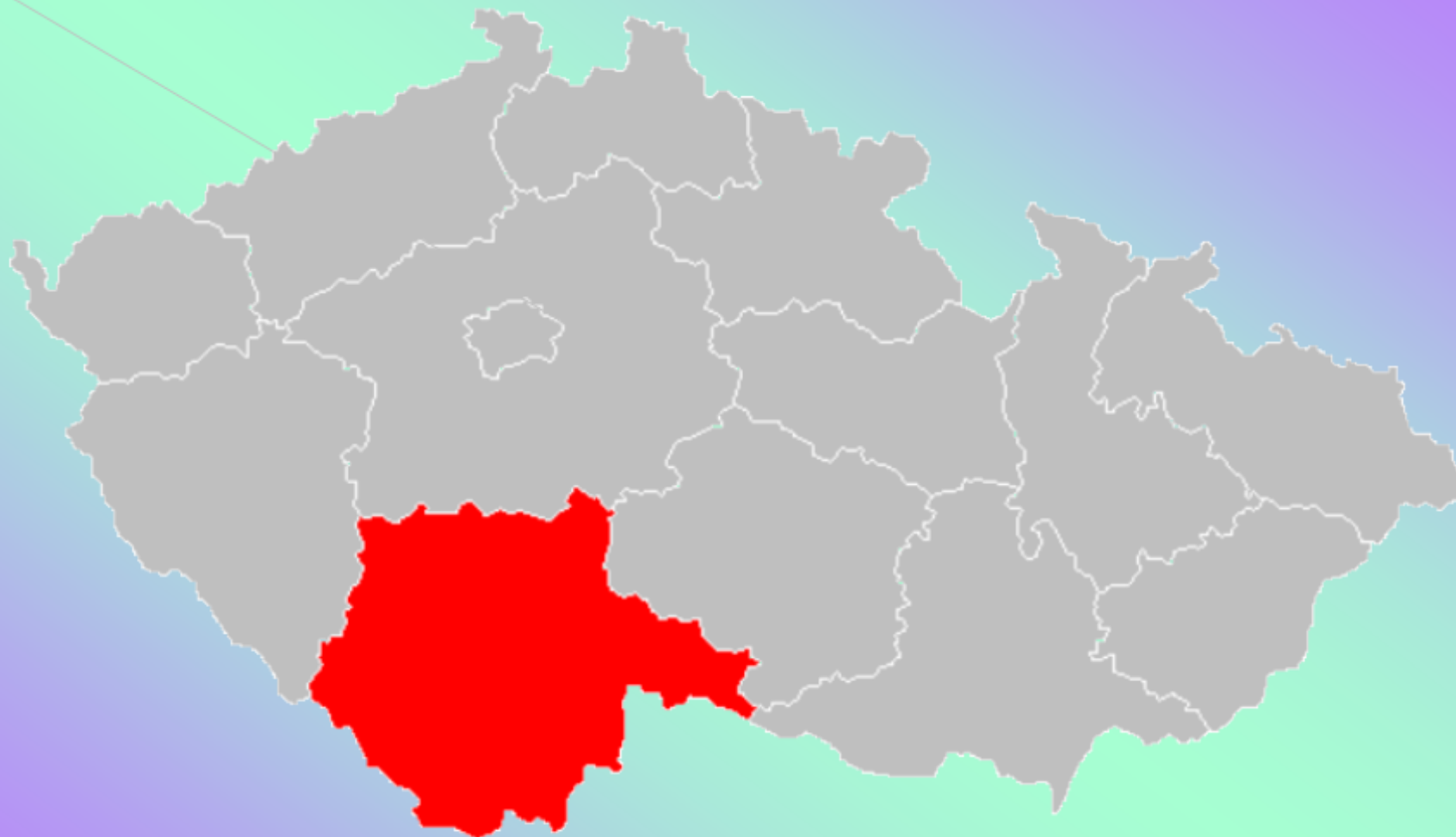
Název školy:	Základní škola a Mateřská škola, Hradec Králové, Úprkova 1
Autor:	Mgr. Kateřina Mitášová
Název:	VY_32_INOVACE_9A_6_Jihočeský kraj
Téma:	9A_VL5.roč.
Datum ověření:	VM ověřen dne 21.9.2012 v 5.B
Číslo projektu:	CZ.1.07/1.4.00/21.3215
Anotace:	DUM je možno využít na interaktivní tabuli. DUM je určen k získání vědomosti o Jihočeském kraji. Každé dítě zároveň pracuje s učebnicí, kde do pracovního listu doplňuje vynechané informace. DUM je možno využít jako součást referátu.





POZNÁŠ KRAJ ???



JIHOČESKÝ KRAJ



ZNAK



VLAJKA

DOPLŇ ...

Krajským městem Jihočeského kraje jsou

_____.

DALŠÍ VELKÁ MĚSTA: Tábor, Písek, Strakonice, Český Krumlov, _____, _____.

POLOHA: Leží v _____ Čechách.

POVRCH: Středočeská pahorkatina a pánve _____ a Třeboňská. Na jihozápadě se táhne pohoří _____, na severovýchodě sem zasahuje Českomoravská vrchovina, na jihu se rozepínají _____ hory.

ZKONTROLUJ SI ...

Krajským městem Jihočeského kraje jsou

ČESKÉ BUDĚJOVICE.

DALŠÍ VELKÁ MĚSTA: Tábor, Písek, Strakonice, Český Krumlov, **PRACHATICE**, **JINDŘICHŮV HRADEC**.

POLOHA: Leží v **JIŽNÍCH** Čechách.

POVRCH: Středočeská pahorkatina a pánve

ČESKOBUDĚJOVICKÁ a Třeboňská. Na jihozápadě se táhne pohoří **ŠUMAVA**,

na severovýchodě sem zasahuje

Českomoravská vrchovina, na jihu se rozepínají **NOVOHRADSKÉ** hory.

DOPLŇ ...

VODSTVO: Vltava, Lužnice, vodní nádrže: _____

Orlík. JIHOČESKÝ KRAJ JE KRAJEM RYBNÍKŮ.

Nejznámější je rybník _____.

ZEMĚDĚLSTVÍ: Tradiční rybářství, chov _____ a

kachen. Pěstují se obiloviny, olejninu a brambory. Chov skotu a _____.

PRŮMYSL: Těžba štěrkopísku, stavebního kamene a cihlářské _____. Dřevozpracující průmysl - lesy.

Budějovické pivo - _____.

Nedaleko Českých Budějovic se nachází jaderná elektrárna

_____.

ZKONTROLUJ SI ...

VODSTVO: Vltava, Lužnice, vodní nádrže: LIPNO

Orlík. JIHOČESKÝ KRAJ JE KRAJEM RYBNÍKŮ.

Nejznámější je rybník ROŽMBERK.

ZEMĚDĚLSTVÍ: Tradiční rybářství, chov RYB a kachen. Pěstují se obiloviny, olejniný a brambory. Chov skotu a PRASAT.

PRŮMYSL: Těžba štěrkopísku, stavebního kamene a cihlářské HLÍNY. Dřevozpracující průmysl - lesy.

Budějovické pivo - BUDVAR. Nedaleko Českých Budějovic se nachází jaderná elektrárna TEMELÍN.

VÝZNAMNÁ MÍSTA:



ČESKÉ BUDĚJOVICE

VÝZNAMNÁ MÍSTA:



ČESKÝ KRUMLOV

VÝZNAMNÁ MÍSTA:



HLUBOKÁ NAD VLTAVOU

VÝZNAMNÁ MÍSTA:



ROŽMBERK





Jihočeský kraj

- *Se kterými kraji a státy váš kraj sousedí?*
- *Na mapě vyhledejte řeky Lužnici, Otavu a Malši a zjistěte, do které řeky ústí.*
- *Z jakého důvodu byly zakládány rybníky?*
- *Vysvětlete, proč je na území Jihočeského kraje víc srážek a je zde chladněji než ve Středočeském kraji.*
- *Vysvětlete, proč je ve vašem kraji rozvinutý papírenský a dřevozpracující průmysl. Které výrobky vyrábí?*
- *V mapě vyhledejte města Písek, Strakonice, Tábor, Jindřichův Hradec. Co zajímavého o nich víte?*
- *Které pamětihodnosti a biosférické rezervace kraje jsou zapsány do Seznamu UNESCO?*
- *Zjistěte základní údaje o významných osobnostech spojených s krajem.*

PRÁCE S MAPOU A UČEBNICÍ ...



Tento materiál byl vytvořen rámci projektu EU peníze školám
Operačního programu Vzdělávání pro konkurenceschopnost

The logo for ZŠ ÚPRKOVA, featuring the text "ZŠ ÚPRKOVA" in a stylized font with each letter in a different color, set against a green rectangular background.

**Použití
zdroje:**

ČAPKA, František. *Vlastivěda 5*. Brno: Nová škola, 2005, ISBN 80-7289-070-0.

ČAPKA, František. *Vlastivěda 5*. Brno: Nová škola, 2005, ISBN 80-7289-071-9.

Otevřená galerie Microsoft Office.

[cit. 2011-09-12]. Dostupné z WWW:

http://cs.wikipedia.org/wiki/Soubor:Jihocesky_kraj.svg

[online]. [cit. 2012-09-11]. Dostupné z:

[http://www.ceskatelevize.cz/porady/10268040165-ceske-](http://www.ceskatelevize.cz/porady/10268040165-ceske-pexeso/210552116240002-jihocesky-kraj/video/)

[pexeso/210552116240002-jihocesky-kraj/video/](http://www.ceskatelevize.cz/porady/10268040165-ceske-pexeso/210552116240002-jihocesky-kraj/video/)

[online]. [cit. 2012-09-11]. Dostupné z:

http://cs.wikipedia.org/wiki/Jiho%C4%8Desk%C3%BD_kraj

[online]. [cit. 2012-09-11]. Dostupné z:

[http://upload.wikimedia.org/wikipedia/commons/1/1b/%C4%8Cesk%C3%A](http://upload.wikimedia.org/wikipedia/commons/1/1b/%C4%8Cesk%C3%A9_Bud%C4%9Bjovice_-_centrum_letecky.jpg)

[9_Bud%C4%9Bjovice_-_centrum_letecky.jpg](http://upload.wikimedia.org/wikipedia/commons/1/1b/%C4%8Cesk%C3%A9_Bud%C4%9Bjovice_-_centrum_letecky.jpg)

[online]. [cit. 2012-09-11]. Dostupné z:

[http://upload.wikimedia.org/wikipedia/commons/0/0d/%C4%8Cesk%C3%B](http://upload.wikimedia.org/wikipedia/commons/0/0d/%C4%8Cesk%C3%BD_Krumlov_%28Krummau%29_-_panorama_-_old_city.JPG)

[D_Krumlov_%28Krummau%29_-_panorama_-_old_city.JPG](http://upload.wikimedia.org/wikipedia/commons/0/0d/%C4%8Cesk%C3%BD_Krumlov_%28Krummau%29_-_panorama_-_old_city.JPG)

[online]. [cit. 2012-09-11]. Dostupné z:

[http://upload.wikimedia.org/wikipedia/commons/b/b6/Schloss_Frauenberg.j](http://upload.wikimedia.org/wikipedia/commons/b/b6/Schloss_Frauenberg.jpg)

[pg](http://upload.wikimedia.org/wikipedia/commons/b/b6/Schloss_Frauenberg.jpg)

[online]. [cit. 2012-09-11]. Dostupné z:

	http://cs.wikipedia.org/wiki/Ro%C5%BEmberk
Citace:	
Anotace:	