

**Číslo přílohy: VY\_32\_INOVACE\_10\_JEDNOTKY ČASU**

<b>Autor:</b>	Mgr. Libuše Stonawská
<b>Předmět:</b>	Matematika
<b>Třída:</b>	3. ročník
<b>Šablona projektu:</b>	III/2 Inovace a zkvalitnění výuky prostřednictvím ICT
<b>Datum zařazení do výuky a zapsání do třídní knihy</b>	30.10.2011
<b>Jazyk:</b>	Český jazyk
<b>Název a anotace:</b>	Materiál je určen k procvičování jednotek času , rozvíjení logického myšlení
<b>Druh učebního materiálu:</b>	DUM – Presentace Power Point
<b>Očekávaný výstup</b>	Orientace v čase, provádění jednoduchých převodů jednotek času, Zápis jednoduchých závislostí z praktického života
<b>Využité materiály:</b>	Obrázky byly použité z klipartu

Jednotky času

1 rok = 12 měsíců

1 den = 24 hodin

1 hodina = 60 minut

1 minuta = 60 sekund



Procvič si převody některých jednotek:

1 rok = \_\_\_\_\_ měsíců = \_\_\_\_\_ týdnů = \_\_\_\_\_ dnů

1 hodina = \_\_\_\_\_ minut = \_\_\_\_\_ sekund

půl hodiny = \_\_\_\_\_ minut

1 týden = \_\_\_\_\_ dní

1 den = \_\_\_\_\_ hodin



Marek dostává od babičky kapesné 14 Kč týdně.

Kolik korun dostává denně ? \_\_\_\_\_

Kolik korun ušetří za 7 týdnů ? \_\_\_\_\_

Kolik korun bude mít, když mu babička přidá 30 Kč ?

\_\_\_\_\_


Odp. \_\_\_\_\_ .

Odp. \_\_\_\_\_ .


Odp. \_\_\_\_\_ .

Zakresli tyto časy:


půl 6




9: 30



poledne



15 hodin



16:35

