

Název:	VY_52_INOVACE_VL_4A_28
Škola:	Základní škola Nové Město nad Metují, Školní 1000, okres Náchod
Autor:	Ivana Hynková
Ročník:	4.
Tematický okruh, předmět:	Přírodní vědy, vlastivěda
Téma:	2. čtvrtletní práce z vlastivědy
Číslo projektu:	CZ.1.07/1.4.00/21.2336
Datum:	23.1.2012
Anotace:	verze A, B obsahuje témata: povrch Země, vodstvo, zemědělství, textilní a keramické výrobky kulturní a historické památky mapy podle Vlastivědy pro Pracovní sešit, SPN, Praha 2010, str. 17 (upraveno a změněno) pomůcky - Vlastivěda pro 4. ročník, SPN, Praha 2010

2. tvrtletní písemná práce z vlastiv dy pro 4. ro ník

Jméno: _____

Sk. A

1. Prohlédní si tuto mapu.



a) Jsou zde vyzna ena ty i poho í. Napi–jejich názvy a pokud ví–, jak se jmenuje nejvyší hora každého poho í, zapi–její jméno také.

1 - _____

2 - _____

3 - _____

4 - _____

b) Do mapy dále zakresli:

5 - *Krkonoše*

6 - *Bílé Karpaty*

7 - *Dyjsko - svratecký úval*

8 - *Brdy*

2. Vysv tli tyto pojmy:

úval - _____

kras - _____

pahorkatina - _____

Plechý - _____

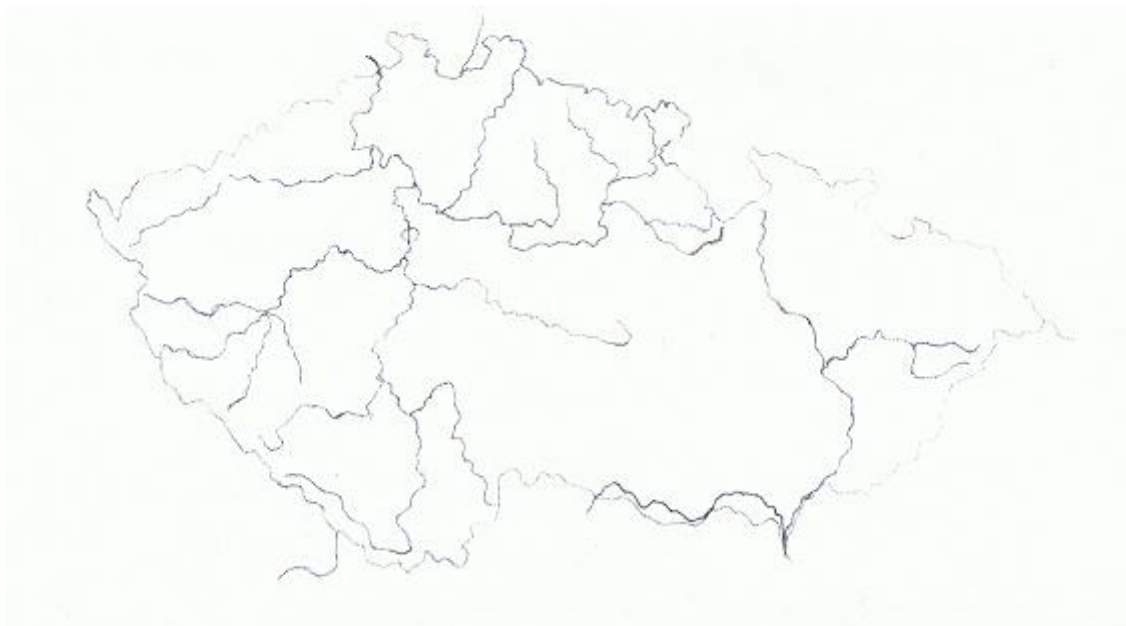
3. Vyznač v mapě modrou pastelkou a označ tyto řeky:

1 - Labe

2 - Bežva

3 - Sázava

4 - Ohře



4. Napiš, co víš o ústí Vltavy.

5. Odpověz na otázky:

a) Jaký je rozdíl mezi jezerem a přehradní nádrží?

b) Kde je v ČR známá rybníká ská oblast? Co o ní víš?

Jméno: _____

A

6. Napiš 2 plodiny, které se pěstují:

v nížtinách - _____

na vysočinách - _____

7. Spoj název nerostné suroviny s místem, kde se těží:

hnědé uhlí

eský kras

kaolín

eskomoravská vrchovina

stavební kámen

Mostecká pánev

vápenec

Plzeňsko

8. Doplň věty:

a) V ČR jsou tyto národní parky: _____

b) Hora Písek je významná pro naši historii, protože _____

c) Známá lázeňská místa jsou _____

d) Známe názvy těchto hradů a zámků: _____

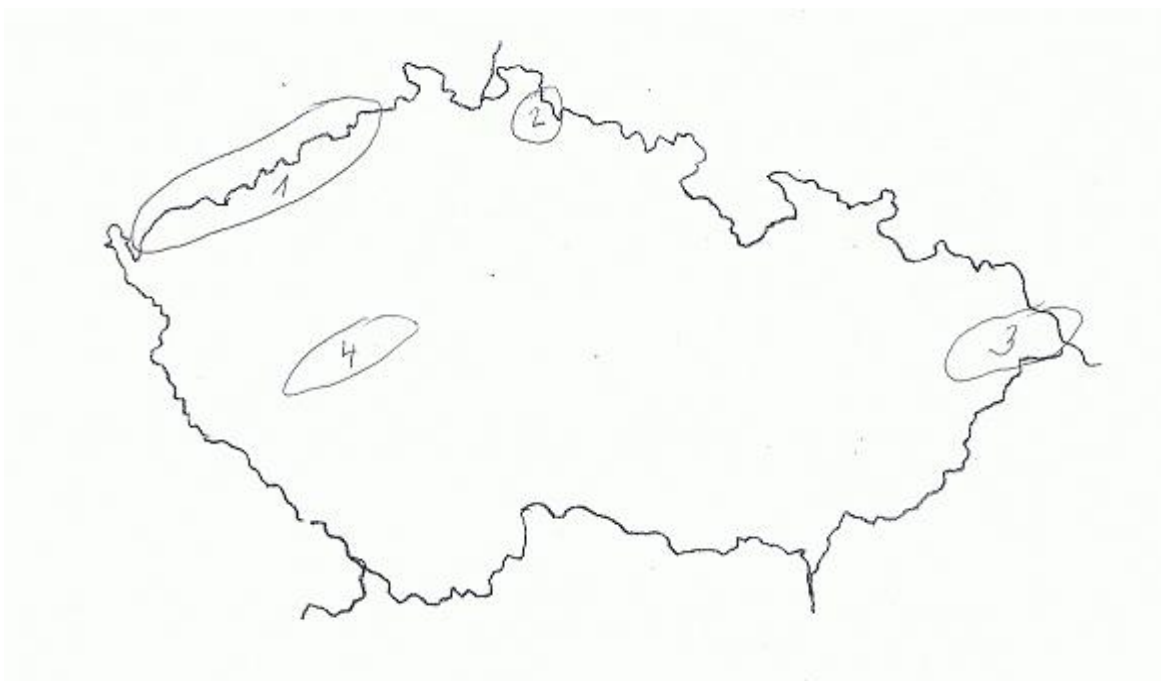
e) V Praze patří mezi významné památky tyto: _____

2. tvrtletní písemná práce z vlastiv dy pro 4. ro ník

Jméno: _____

Sk. B

1. Prohlédni si tuto mapu.



a) Jsou zde vyzna ena ty i poho í. Napi–jejich názvy a pokud ví–, jak se jmenuje nejvy–ší hora každého poho í, zapi–její jméno také.

1 - _____

2 - _____

3 - _____

4 - _____

b) Do mapy dále zakresli:

5 - *Orlické hory* 6 - *eský les* 7 - *Dolnomoravský úval* 8 - *eskomoravskou vrchovinu*

2. Vysv tli tyto pojmy:

nířina - _____

kras - _____

vrchovina - _____

Prad d - _____

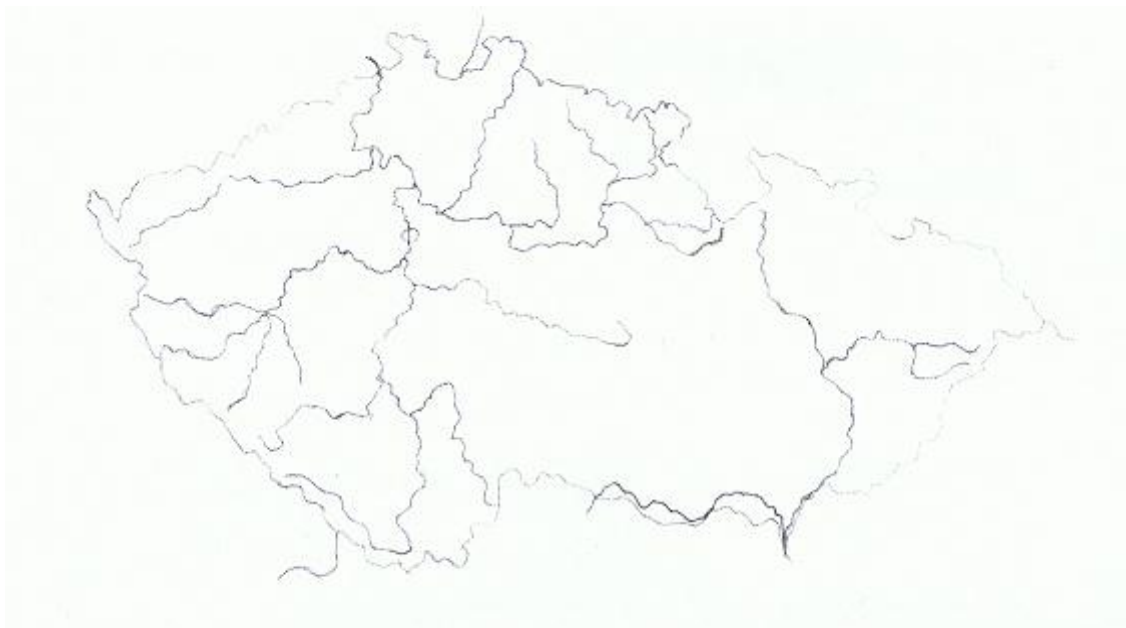
3. Vyznač v mapě modrou pastelkou a označ tyto řeky:

1 - Vltava

2 - Morava

3 - Orlice

4 - Berounka



4. Napiš, co víš o řece Labi:

5. Odpověz na otázky:

a) Jaký je rozdíl mezi rybníkem a přehradní nádrží?

b) Kde jsou v ČR známá jezera? Znáš jejich názvy? Co o nich víš?

Jméno: _____

B

6. Napiš 2 plodiny, které se pěstují:

v nížinných - _____

na vysočinách - _____

7. Spoj název nerostné suroviny s místem, kde se těží:

erné uhlí	eský kras
kaolín	řmava
sklá ský písek	Plzeňsko
vápenec	Karvinská pánev

8. Doplň vety:

a) V ČR jsou tyto národní parky: _____

b) Hora Blaník je významná pro naši historii, protože _____

c) Známá lázeňská města jsou _____

d) Známe názvy těchto hradů a zámků: _____

e) V Praze patří mezi významné památky tyto: _____
