



evropský
sociální
fond v ČR



EVROPSKÁ UNIE



MINISTERSTVO ŠKOLSTVÍ,
MLÁDEŽE A TĚLOVÝCHOVY



OP Vzdělávání
pro konkurenceschopnost




INVESTICE DO ROZVOJE VZDĚLÁVÁNÍ

Kód materiálu:	VY_32_INOVACE_12_URCOVANI_CASU		
Název materiálu:	Určování času		
Předmět:	Matematika	Ročník:	3.
Časová dotace:	45 min	Datum ověření:	5. 10. 2012
Jméno autora:	Mgr. Pavla Besedová		
Klíčová slova:	Hodiny, minuty, digitální čas, určování času, slovní úlohy o čase		
Výchovné a vzdělávací cíle:	Žáci určují čas na ručičkových i digitálních hodinách.		
Rozvíjené klíčové kompetence:	K řešení problémů - žák řeší problémové slovní úlohy		
Anotace, metodický list:	Pracovní list slouží k procvičení a upevnění učiva o čase. Na pracovním listu žáci nejprve doplňují čas na ručičkových i digitálních hodinách, poté řeší slovní úlohy o čase.		
Použité zdroje:	Vlastní		


INVESTICE DO ROZVOJE VZDĚLÁVÁNÍ

Doplňte čas na ručičkových i digitálních hodinách.


půl sedmé



čtvrt na jedenáct



deset hodin



ráno



ráno



ráno



večer



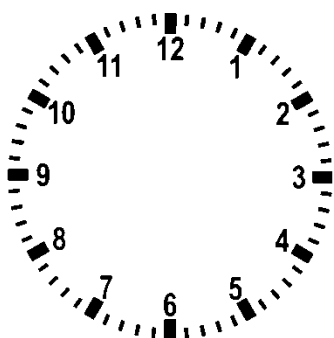
večer




večer




tříčtvrtě na pět



jedna hodina



půl šesté



ráno



ráno



ráno



večer



večer



večer



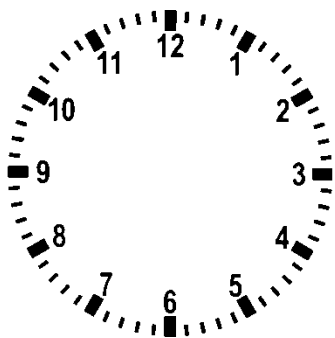
INVESTICE DO ROZVOJE VZDĚLÁVÁNÍ

Honzík pojedje za babičkou na prázdniny. Autobus odjíždí ze zastávky v 8 hodin a 30 minut. Na zastávku má Honzík 15 minut chůze. V kolik hodin musí Honzík nejpozději vyjít z domu, aby autobus stihl?


Ranní vypravování ale Honzíkovi vždycky trvá dlouho. V koupelně stráví 20 minut, půl hodiny snídá, 10 minut se obléká. V kolik hodin by měl Honzík nejpozději vstát, aby se stihl včas vypravit na cestu k babičce?

Cesta k babičce trvá třičtvrtě hodiny. V kolik hodin má babička na Honzíka čekat?


Nakresli čas na hodinách:



Honzík vychází z domu



Honzík vstává



babička čeká na Honzíka