



evropský
sociální
fond v ČR



EVROPSKÁ UNIE



MINISTERSTVO ŠKOLSTVÍ,
MLÁDEŽE A TĚLOVÝCHOVY



OP Vzdělávání
pro konkurenceschopnost



INVESTICE DO ROZVOJE VZDĚLÁVÁNÍ

Kód materiálu:	VY_32_INOVACE_13_SLOVNI_ULOHY_SE_ZVIRATKY		
Název materiálu:	Slovní úlohy se zvířátky		
Předmět:	Matematika	Ročník:	3.
Časová dotace:	45 min	Datum ověření:	22. 10. 2012
Jméno autora:	Mgr. Pavla Besedová		
Klíčová slova:	Slovní úlohy		
Výchovné a vzdělávací cíle:	Žák řeší problémové slovní úlohy.		
Rozvíjené klíčové kompetence:	K řešení problémů - žák řeší problémové slovní úlohy, dodržuje stanovený postup.		
Anotace, metodický list:	Pracovní list slouží k procvičení dovednosti řešení slovních úloh. Žáci provedou u každé slovní úlohy zápis, výpočet a zapíšou odpověď.		
Použité zdroje:	Vlastní text, obrázky dostupné z http://www.i-creative.cz a http://www.coloring.ws		



evropský
sociální
fond v ČR



EVROPSKÁ UNIE



MINISTERSTVO ŠKOLSTVÍ,
MLÁDEŽE A TĚLOVÝCHOVY




OP Vzdělávání
pro konkurenceschopnost



INVESTICE DO ROZVOJE VZDĚLÁVÁNÍ

Ve voliére je 38 žlutých papoušků. Zelených papoušků je o 13 méně. Kolik je zelených papoušků? Kolik je ve voliére papoušků celkem?



Na krmítku se sešlo 48 ptáčků. Z toho bylo 16 sýkorek, 12 stehlíků a 6 červenek. Kolik bylo na krmítku vrabců?





evropský
sociální
fond v ČR



EVROPSKÁ UNIE



MINISTERSTVO ŠKOLSTVÍ,
MLÁDEŽE A TĚLOVÝCHOVY




OP Vzdělávání
pro konkurenceschopnost




INVESTICE DO ROZVOJE VZDĚLÁVÁNÍ

Děda Lebeda má 4 černé králíky. Bílých králíků má 3 krát více. Kolik má děda bílých králíků? Kolik králíků má celkem?



© 2010/2011

V zoologické zahradě se narodila tygří mláďata. Kolik se jich narodilo, když i s tygří maminkou mají dohromady 36 nohou?



© 2010/2011

INVESTICE DO ROZVOJE VZDĚLÁVÁNÍ


Ve voliére je 38 žlutých papoušků. Zelených papoušků je o 13 méně. Kolik je zelených papoušků? Kolik je ve voliére papoušků celkem?

žlutých papoušků.....38

zelených papoušků.....o 13 méně než žlutých

zelených papoušků.....?

Celkem papoušků.....?



$$38 - 13 = 25$$

$$38 + 25 = 63$$

Ve voliére je 25 zelených papoušků.

Ve voliére je celkem 63 papoušků.

Na krmítku se sešlo 48 ptáčků. Z toho bylo 16 sýkorek, 12 stehlíků a 6 červenek. Kolik bylo na krmítku vrabců?



ptáčků celkem 48

sýkorek 16

stehlíků 12

červenek 6

vrabců..... ?

$$48 - (16 + 12 + 6) = 48 - 34 = 14$$

Na krmítku je 14 vrabců.

INVESTICE DO ROZVOJE VZDĚLÁVÁNÍ


Děda Lebeda má 4 černé králíky. Bílých králíků má 3 krát více. Kolik má děda bílých králíků? Kolik králíků má celkem?

černých králíků 4

bílých králíků 3 krát více než
černých

bílých králíků ?

Celkem králíků..... ?



$$4 \cdot 3 = 12$$

$$4 + 12 = 16$$

Děda Lebeda má 12 bílých králíků.

Děda Lebeda má celkem 16 králíků.

V zoologické zahradě se narodila tygří mláďata. Kolik se jich narodilo, když i s tygří maminkou mají dohromady 36 nohou?



celkem nohou.....36

1 tygr..... 4 nohy

celkem tygrů..... ?

Celkem tygřích mláďat bez matky.....?

$$36 : 4 = 9$$

$$9 - 1 = 8$$

V ZOO se narodilo 8 tygřích mláďat.