

**Tento materiál byl vytvořen v rámci projektu Operačního programu Vzdělávání pro konkurenceschopnost.**

<b>Název školy:</b>	<b>Základní škola, Jičín, Soudná 12</b>
<b>Autor:</b>	Mgr. Václava Jurycová
<b>Název:</b>	VY_32_INOVACE_01_a_3, SČÍTÁNÍ DO 10 000
<b>Sada:</b>	MATEMATIKA 7.ročník



**INVESTICE DO ROZVOJE VZDĚLÁVÁNÍ**

Autorem materiálu a všech jeho částí, není-li uvedeno jinak, je Mgr. Václava Jurycová

Název: MATEMATIKA 7.ročník – SČÍTÁNÍ DO 10 000

Autor: Mgr. Václava Jurycová

Anotace:

1. Sčítání z paměti
2. Písemné sčítání na procvičení (el. tužka)
3. Slovní úloha
4. Slovní úloha
5. Doplnění tabulky (el. tužka)

# SČÍTÁNÍ

sčítanec + sčítanec = součet

Započítáme si  
z paměti



18      30

22      20

140      550

220      330

2700      100

1300      700

12      41

46      54

190      400

910      460

6000      1300

2000      2200

# PÍSEMNÉ SČÍTÁNÍ

$$\begin{array}{r} \text{s.d. j.} \\ 135 \\ 422 \\ \hline 557 \end{array}$$

Pozor na zápis



Začínáme sčítat vždy od jednotek !

$$\begin{array}{r} 2086 \\ 823 \\ \hline \end{array}$$


$$\begin{array}{r} 4839 \\ 1847 \\ \hline \end{array}$$

$$\begin{array}{r} 3560 \\ 1816 \\ \hline \end{array}$$

$$\begin{array}{r} 5821 \\ 3449 \\ \hline \end{array}$$

V závodě na čokoládu vyrobili 5 907 hořkých čokolád. Mléčných čokolád vyrobili o 974 více. Kolik mléčných čokolád vyrobili?




hořká



mléčná o



více



Mléčných čokolád vyrobili



.

Maminka nakupovala. Koupila banány za 47 Kč, jablka za 49 Kč, chléb za 19 Kč a maso za 177 Kč. Kolik korun zaplatila celkem?

banány

Kč



jablka

Kč

chléb

Kč

maso

Kč



---

Maminka zaplatila celkem  Kč.

... a nakonec hlavolam



sčítanec	130		100	1500		4300	3800
sčítanec	80	600			5100	170	6200
součet		1200	550	2000	6000		

sčítanec	910	400			4210	5300	6210
sčítanec			810	900	3800	1640	
součet	1000	1300	1000	1500			7210

## **Citace:**

MELICHAR, Jan, Jiří MIKULČÁK, Valéria KALNÁ a Milan KOMAN. *Sbírka úloh z matematiky pro 4. ročník základní školy*. 3. vyd., 1. vyd. v nakl. Prometheus. Ilustrace Martin Mašek. Praha: Prometheus, 1994, 124 s. Učebnice pro základní školy. ISBN 80-858-4918-6.

KOUŘILOVÁ, Anna, František VLK a Milena TRÁVNÍČKOVÁ. *Sbírka úloh z matematiky pro 7. až 9. ročník zvláštní školy*. 1. vyd. Praha: Septima, 1999, 96 s. ISBN 80-721-6061-3.

KOUŘILOVÁ, Anna a Milena TRÁVNÍČKOVÁ. *Matematika pro 7. ročník zvláštní školy*. 1. vyd. Ilustrace Eva Duchečková. Praha: Septima, 1996, 83 s. ISBN 80-858-0163-9.

HAMERNÍK, Jan. *Matematika 7: Pracovní sešit*. 1. vydání. Praha: Septima, 2004. ISBN 80-7216-192-X.

GALERIE OBRÁZKŮ PROGRAMU EASITEACH.COM

TABULKY VLASTNÍ (PROGRAM MICROSOFT POWERPOINT 2010)

OBRÁZKY VLASTNÍ (PROGRAM MICROSOFT POWERPOINT 2010)

**Odpilotováno:** Dne 21. 9. 2012