



evropský
sociální
fond v ČR



EVROPSKÁ UNIE



MINISTERSTVO ŠKOLSTVÍ,
MLÁDEŽE A TĚLOVÝCHOVY



OP Vzdělávání
pro konkurenceschopnost



INVESTICE DO ROZVOJE VZDĚLÁVÁNÍ

Kód materiálu:	VY_32_INOVACE_05_STATY_SVETA_PODLE_ROZLOHY		
Název materiálu:	Státy světa podle rozlohy		
Předmět:	Zeměpis	Ročník:	9.
Časová dotace:	45 minut	Datum ověření:	20. 3. 2012
Jméno autora:	Mgr. Božena Přikrylová		
Klíčová slova:	Státy světa podle rozlohy, největší státy, nejmenší státy, porovnání ČR. Málo známá území, o kterých se hovoří.		
Výchovné a vzdělávací cíle:	Žák ukáže na mapě největší a nejmenší státy světa. Porovná podle rozlohy ČR s přibližně stejně velkými státy. Vyhledává informace k srovnání na internetu. Vyhledá informace o málo známých územích, o kterých se mluví, připraví si do příští hodiny krátkou prezentaci o jednom z nich.		
Rozvíjené klíčové kompetence:	Kompetence komunikativní - aktivně a cíleně využívá internet Kompetence k učení - umí hospodařit s časem, plánuje si čas na přípravu, samostatně vyhledá informace na internetu		
Anotace, metodický list:	Pracovní list umožní žákovi porovnat státy světa podle rozlohy, určit místo ČR mezi ostatními státy světa. Zároveň je třeba zdůraznit, že velikost státu není určující pro jeho postavení mezi ostatními státy. Úkol na závěr PL pomáhá orientovat se na mapě mezi málo známými územími, která prodělávají složitý vývoj. Prezentace těchto území může proběhnout na závěr hodiny nebo i v příští hodině, podle průběhu hodiny.		
Použité zdroje:	Seznam států světa podle rozlohy. In: <i>Wikipedia: the free encyclopedia</i> [online]. San Francisco (CA): Wikimedia Foundation, 2001- [cit. 2012-03-20]. Dostupné z: http://cs.wikipedia.org/wiki/Seznam_států_světa_podle_rozlohy		



evropský
sociální
fond v ČR



EVROPSKÁ UNIE



MINISTERSTVO ŠKOLSTVÍ,
MLÁDEŽE A TĚLOVÝCHOVY



OP Vzdělávání
pro konkurenceschopnost



INVESTICE DO ROZVOJE VZDĚLÁVÁNÍ

STÁTY SVĚTA PODLE ROZLOHY

1. Napiš název encyklopedie, ve které se na internetu dozvíš informace o státech světa:

.....

2. Vyhledej 10 největších samostatných států světa podle rozlohy a zapiš do tabulky jejich názvy a rozlohu:

Pořadí	Název státu	Rozloha v km ²
1.		
10.		
	Česká republika	

3. Vyhledej 6 nejmenších samostatných států světa podle rozlohy a zapiš do tabulky jejich názvy a rozlohu:

Pořadí	Název státu	Rozloha v km ²
1.		
6.		

4. Které místo zaujímá Česká republika mezi státy světa podle rozlohy?.....

5. Které státy světa mají rozlohu přibližně odpovídající České republice?

6. Vyber si jedno z území z nabídky, získej a zapiš si o něm informace. V příští hodině je budeš prezentovat.

(Abchazie, Jižní Osetie, Náhorní Karabach, Podněstersko, Severní Kypr, Somaliland, Palestinská autonomie, Západní Sahara)

INVESTICE DO ROZVOJE VZDĚLÁVÁNÍ

STÁTY SVĚTA PODLE ROZLOHY – řešení, březen 2012







- Napiš název encyklopedie, ve které se na internetu dozvíš informace o státech světa:
[Wikipedia](#)
- Vyhledej 10 největších samostatných států světa podle rozlohy a zapiš do tabulky jejich názvy a rozlohu:

Pořadí	Název státu	Rozloha v km ²
1.	Rusko	17 075 200
2.	Kanada	9 976 140
3.	USA	9 629 091
4	Čína	9 596 960
5.	Brazílie	8 511 965
6.	Austrálie	7 686 850
7.	Indie	3 287 590
8.	Argentina	2 766 890
9.	Kazachstán	2 727 300
10.	Alžírsko	2 381 740
114.	Česká republika	78 866

- Vyhledej 6 nejmenších samostatných států světa podle rozlohy a zapiš do tabulky jejich názvy a rozlohu:

Pořadí	Název státu	Rozloha v km ²
1.	Vatikán	0,44
2.	Monaco	1,95
3.	Nauru	21
4.	Tuvalu	26
5.	San Marino	61,2
6.	Lichtenštejnsko	160

- Které místo zaujímá Česká republika mezi státy světa podle rozlohy? [114. místo](#)
- Které státy světa mají rozlohu přibližně odpovídající České republice?

110  [Ázerbájdžán](#) 86 600, 111  [Rakousko](#) 83 858, 112  [Spojené arabské emiráty](#) 82 880, 113  [Česko](#) 78 866, 114  [Panama](#) 78 200, 115  [Srbsko](#) 77 449

- Vyber si jedno z území ze seznamu, získej a zapiš si o něm informace

(Abchazie, Jižní Osetie, Náhorní Karabach, Podněstersko, Severní Kypr, Somaliland, Palestinská autonomie, Západní Sahara)