

## VY\_32\_INOVACE\_3/07\_ČLOVĚK A JEHO SVĚT

<b>Předmět:</b>	Vlastivěda
<b>Ročník:</b>	5.
<b>Poznámka:</b>	Evropa - tabulka (práce s atlasem)
<b>Vypracoval:</b>	Mgr. Zdeňka Jílková



evropský  
sociální  
fond v ČR



EVROPSKÁ UNIE



MINISTERSTVO ŠKOLSTVÍ,  
MLÁDEŽE A TĚLOVÝCHOVY



OP Vzdělávání  
pro konkurenceschopnost

INVESTICE DO ROZVOJE VZDĚLÁVÁNÍ

# Evropa

## 1. Dopln hlavní města a jazyk, kterým se v dané zemi mluví:

Česká republika

Slovenská republika

Rakouská republika

Polská republika

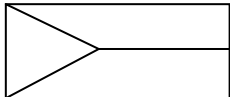

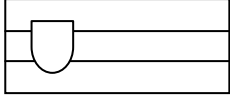


Spolková republika Německo

## 2. Dopln tabulku (použij atlas):

rozloha

počet obyvatel

vlajka (vybarvi)

	rozloha	počet obyvatel	vlajka (vybarvi)
Česká republika	78 866 km <sup>2</sup>	10,2 mil.	
Polsko			
Slovensko			
Rakousko			
Německo			

# Řešení:

## 1. Doplň hlavní města a jazyk, kterým se v dané zemi mluví:

Česká republika                      Praha - česky

Slovenská republika                Bratislava - slovensky

Rakouská republika                Vídeň - německy

Polská republika                    Varšava - polsky

Spolková republika Německo      Berlín - německy

## 2. Doplň tabulku (použij atlas):

	rozloha	počet obyvatel	vlajka (vybarvi)
Česká republika	78 866 km <sup>2</sup>	10,2 mil.	
Polsko	312 685 km <sup>2</sup>	38,6 mil.	
Slovensko	49 036 km <sup>2</sup>	5 mil.	
Rakousko	83 858 km <sup>2</sup>	8 mil.	
Německo	357 022 km <sup>2</sup>	80 mil.	

Zdroje:

Klipart, Microsoft Office 2007