



evropský
sociální
fond v ČR



EVROPSKÁ UNIE



MINISTERSTVO ŠKOLSTVÍ,
MLÁDEŽE A TĚLOVÝCHOVY





OP Vzdělávání
pro konkurenceschopnost

INVESTICE DO ROZVOJE VZDĚLÁVÁNÍ

| | |
|-----------------------------|---|
| Název projektu: | Moderní škola |
| Registrační číslo projektu: | CZ 1.07/1.4.00/21.3376 |
| Škola: | Základní škola a Mateřská škola Vráž, okres Beroun |
| Číslo klíčové aktivity: | III/2 |
| Sada: | VY_32_INOVACE_68_ŽIVOČICHOVÉ |
| Ověření ve výuce: | 26.2. 2013 |
| Ročník: | 3. |
| Předmět: | Člověk a jeho svět |
| Autor: | Hana Chlumská |
| Druh učebního materiálu: | Výukový materiál – pracovní list |
| Anotace: | Prezentace je určena pro 3. ročník, slouží k procvičování probrané látky na interaktivní tabuli. |

Živočichové



B _____



H _____

O _____



R _____

O _____

P _____



P _____

S _____



Uved' u každého živočicha jednoho zástupce

- Ryby-
- Obojživelníci-
- Plazy-
- Ptáci-
- Savci-

Zařad' obratlovce do podskupiny.



Správné řešení:



BEZOBRATLÍ

OBRATLOVCI



HMYZ

RYBY

OBOJŽIVELNÍCI

PLAZY

PTÁCI

SAVCI

řešení


Uved' u každého živočicha jednoho zástupce

- Ryby- kapr
- Obojživelníci- žába
- Plazy- užovka
- Ptáci- kos
- Savci- pes, člověk,...

Zařad' obratlovce do podskupiny.




___savec___



___plaz___



___pták___



___ryba___



___obojživelník___