

NÁZEV ŠKOLY: ZŠ ,Kopřivnice, Štramberská 189, příspěvková
org.

AUTOR: Mgr. Jana Hyklová

VYTVOŘENO: 5.3.2013

NÁZEV: VY_12_Prvouka_07_Orientace v čase, režim dne

ZŠ praktická. 2.-3. r . - TÉMA: Lidé a čas

ČÍSLO PROJEKTU: CZ. 1. 07 /1.4.00/21.1737



INVESTICE DO ROZVOJE VZDĚLÁVÁNÍ

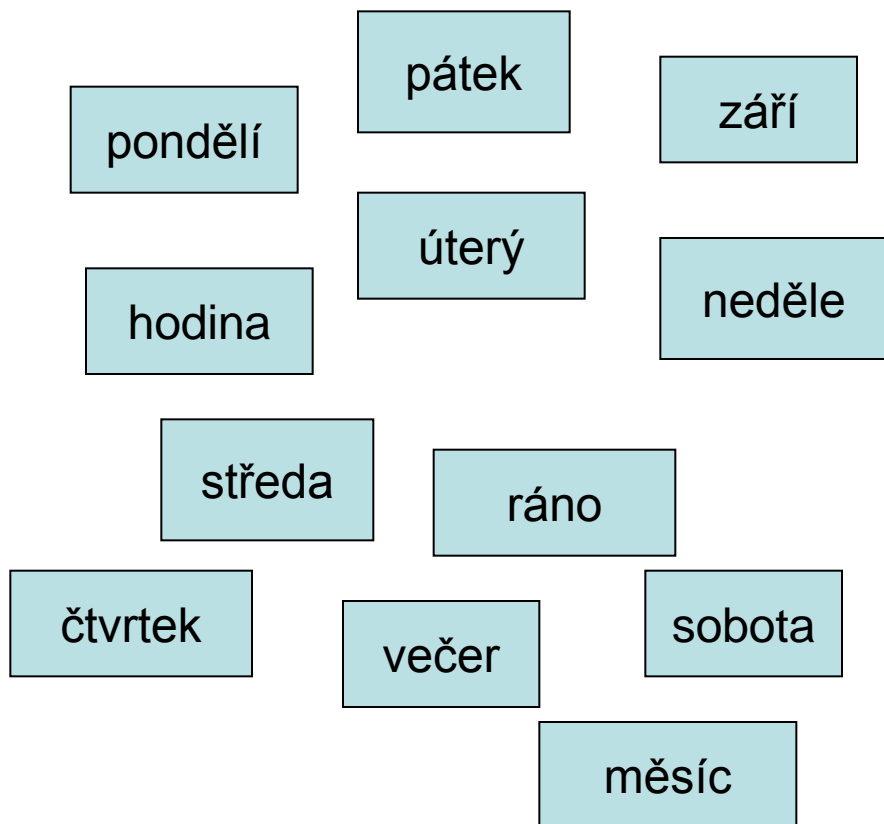
Anotace:

- Žáci si v rámci této prezentace zopakují dny v týdnu, vyzkoušejí si určování času na celé hodiny a půlhodiny. Vhodné je vyzkoušet si více možností – při využití interaktivní tabule nebo cvičných ciferníků.
- Zopakují si také další jednotky času – dny , týdny, měsíce , rok. V závěru se pokusí doplnit křížovku.
- Při prezentaci dělalo nejvíce problémů žákům určování hodin, dařilo se vyjmenovávání dnů v týdnu, zaujala je křížovka , kterou velmi rychle vyplnili. (Lze vytisknout jako pracovní list.)

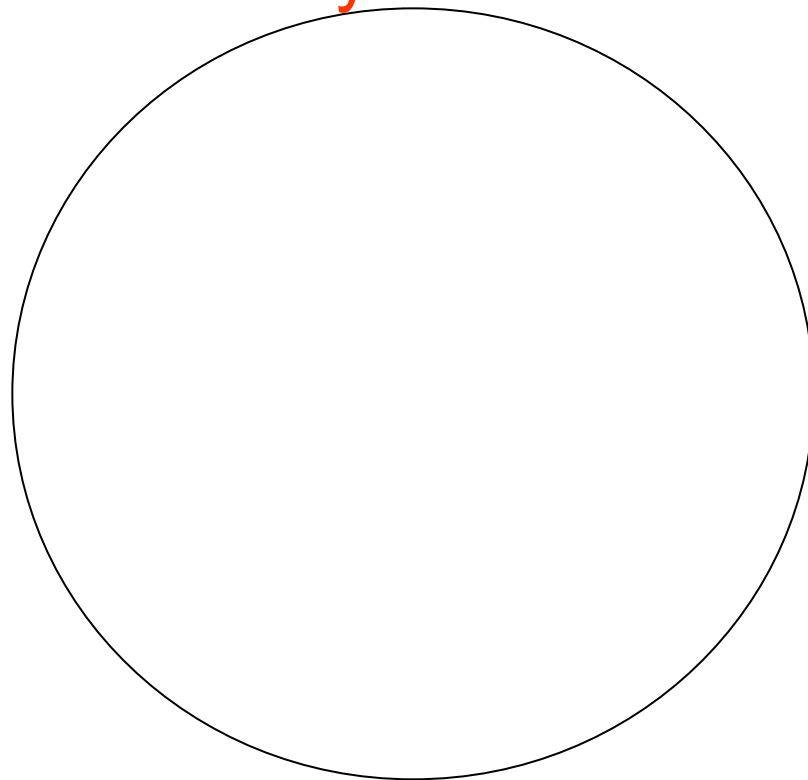
Orientace v čase, režim dne - pracovní list

- Vyber slova, která označují názvy dnů:

Slova umísti do oválku nadepsaného týden



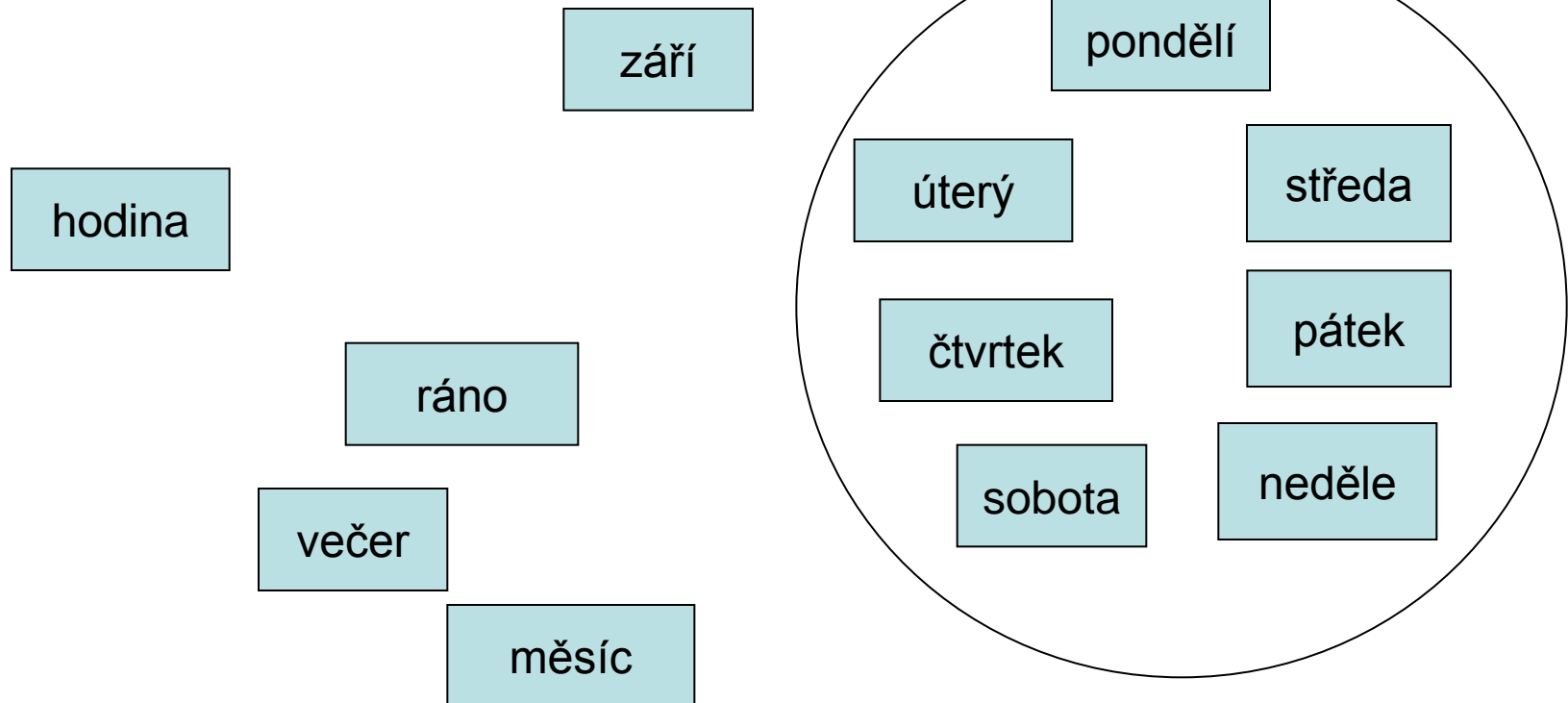
Týden



Řešení

- Vyber slova, která označují názvy dnů:

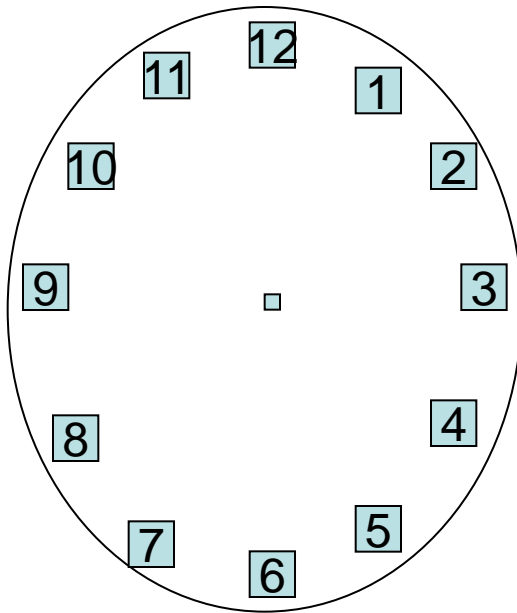
Slova umísti do oválku nadepsaného týden



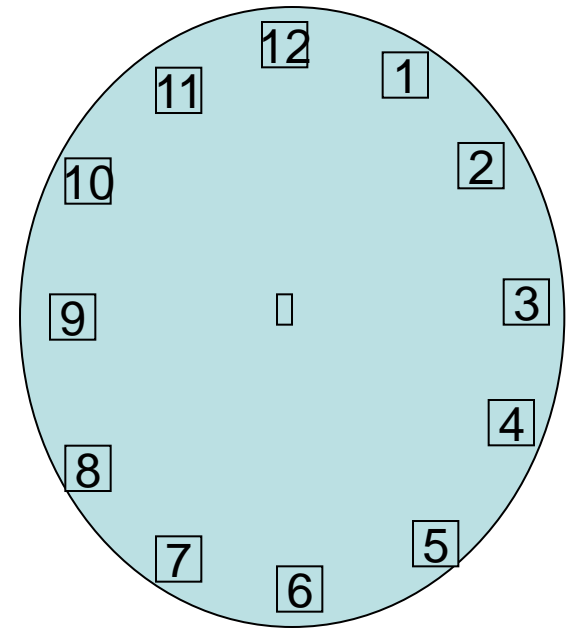
Orientace v čase

- Označ na ciferníku správný čas

8 hodin



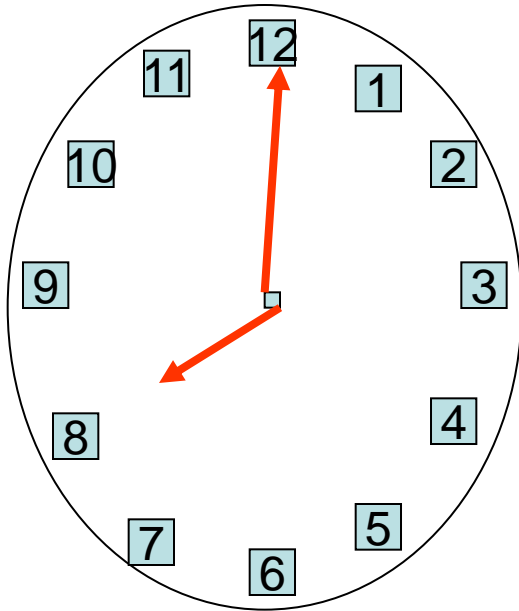
3 hodiny



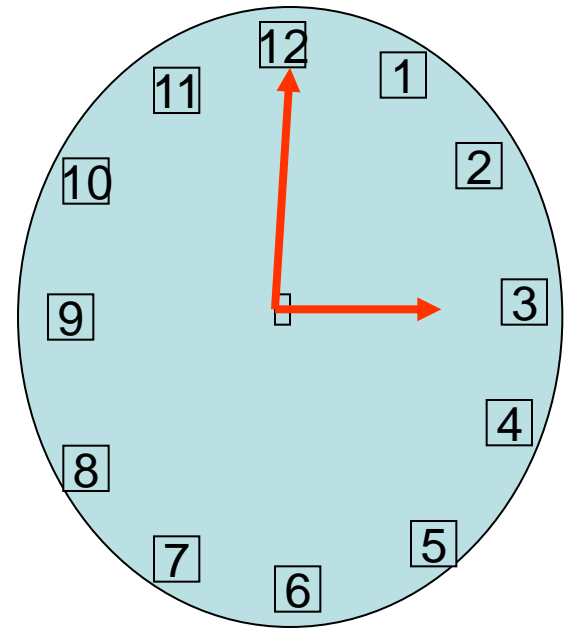
Řešení

- Označ na ciferníku správný čas

8 hodin



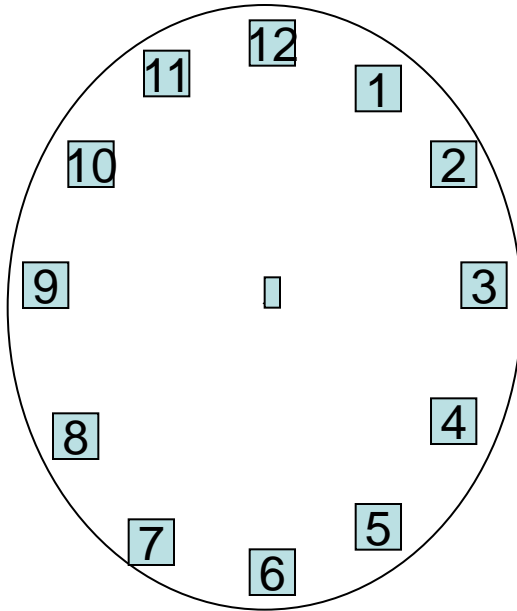
3 hodiny



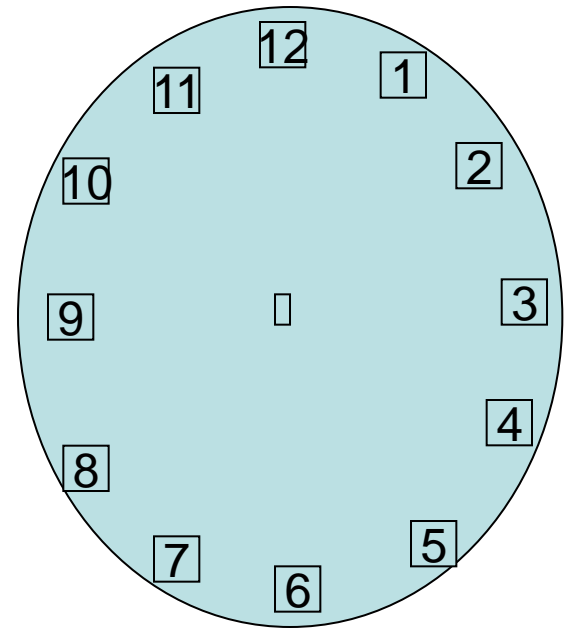
Orientace v čase

- Označ na ciferníku správný čas

půl páté



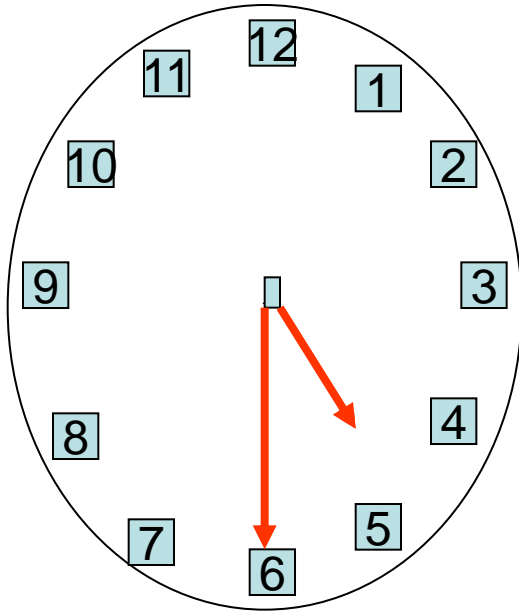
půl deváté



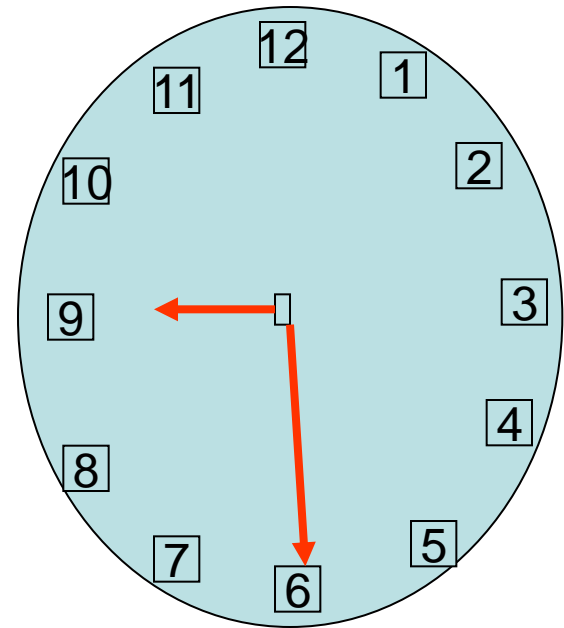
Řešení

- Označ na ciferníku správný čas

půl páté



půl deváté



Orientace v čase

- Vyber správnou odpověď. Označ ji barevně.
- Rok má 12 měsíců. Rok má 10 měsíců.
- Měsíc má 7 týdnů. Měsíc má 4 týdny.
- Týden má 5 dnů. Týden má 7 dnů.
- Den má 24 hodin. Den má 10 hodin.
- V noci spíme. V noci se učíme ve škole.

Řešení

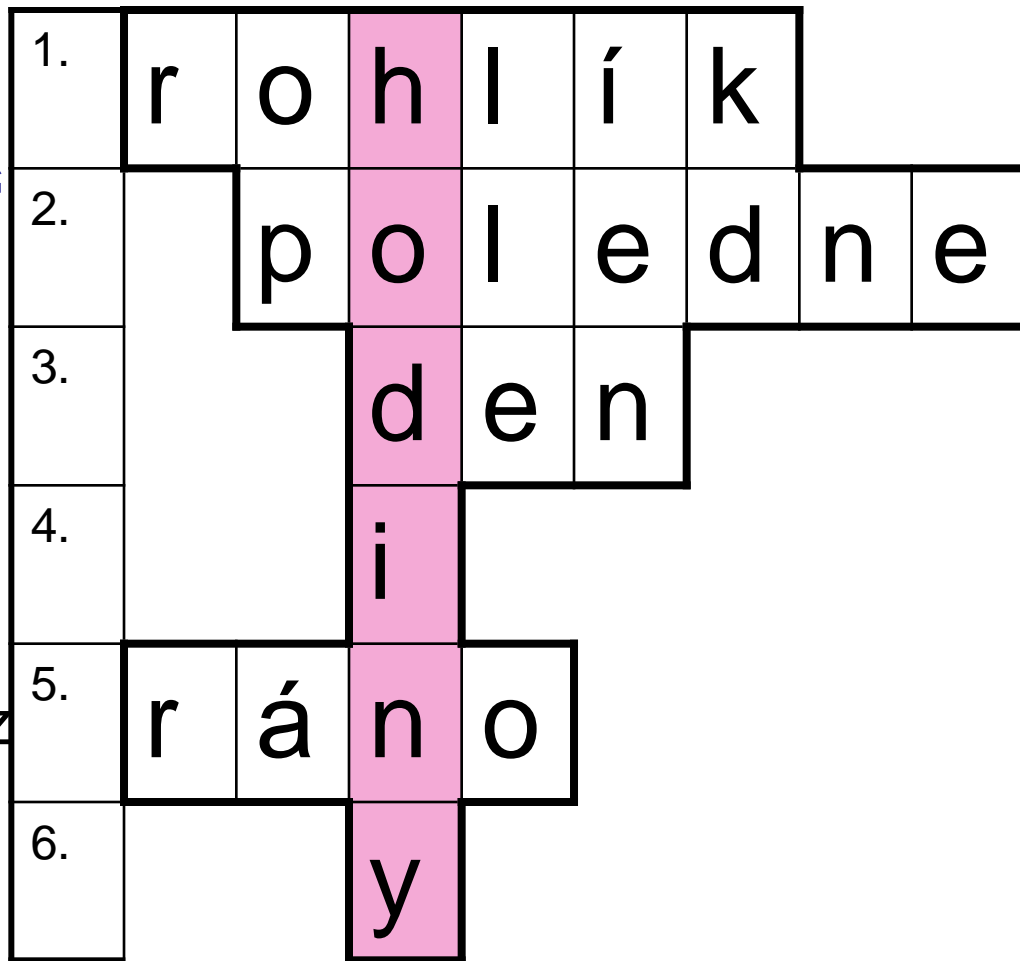
- Vyber správnou odpověď. Označ ji barevně.
- Rok má 12 měsíců. Rok má 10 měsíců.
- Měsíc má 7 týdnů. Měsíc má 4 týdny.
- Týden má 5 dnů. Týden má 7 dnů.
- Den má 24 hodin. Den má 10 hodin.
- V noci spíme. V noci se učíme ve škole.

Řešení

- Vylušti tajenku :

„Čím měříme čas?“

1. Pečivo, které snídám
2. Čas, kdy obědvám
3. 24 hodin je
4. i
5. Část dne, kdy vstáváme z postele
6. y



Použité zdroje :

- Ilustrace : www.office.microsoft.com
- Vlastní zdroje