

Násobilka 2

Matematika a její aplikace (matematika pro 2. a 3. ročník)

Číslo projektu: CZ.1.07/1.4.00/21.0866

Šablona: III/2 Inovace a zkvalitnění výuky prostřednictvím ICT

Název: VY_32_INOVACE_02_NÁSOBILKA 2

Sada: 1

Druh materiálu: DUM MA č. 2

Jméno autora: Mgr. Žaneta Gruntová

Škola: ZŠ A MŠ Cholina, okres Olomouc, příspěvková organizace, Cholina 35, 783 22

Datum vytvoření: 10. 12. 2011

Předmět: Matematika

Ročník: druhý, třetí

Anotace: Materiál (DUM) určený k seznámení s násobilkou 2 a k jejímu procvičení.

Je určen ke společné práci, která proběhne na interaktivní tabuli.

Klíčová slova: řada násobků 2, příklady k obrázkům


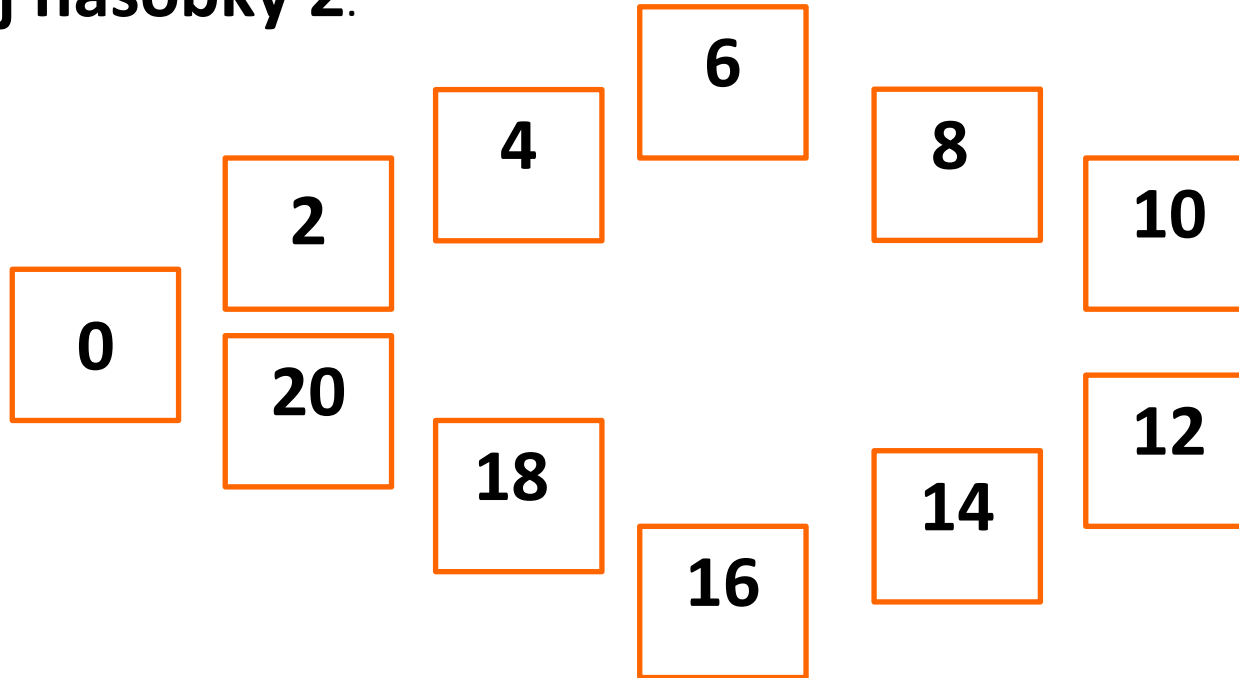
Zdroje: www.office.microsoft.com



INVESTICE DO ROZVOJE VZDĚLÁVÁNÍ

Násobilka 2

Říkej násobky 2.



Násobilka 2

Říkej příklady k obrázkům.



$$1 \cdot 2 = 2$$



$$2 \cdot 2 = 4$$



$$3 \cdot 2 = 6$$



$$4 \cdot 2 = 8$$



$$5 \cdot 2 = 10$$

Násobilka 2

...a pokračuj

 $6 \cdot 2 = 12$

 $7 \cdot 2 = 14$

 $8 \cdot 2 = 16$

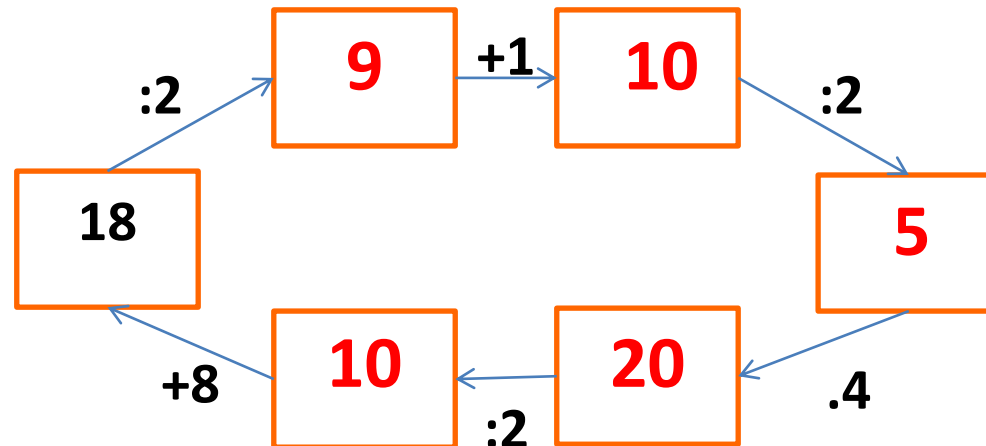
 $9 \cdot 2 = 18$

 $10 \cdot 2 = 20$

Násobilka 2

Doplň tabulku a vypočítej matematického hada.

a	2	8	4	6	10	5	3	7	9	1
a.2	4	16	8	12	20	10	6	14	18	2



evropský
sociální
fond v ČR



EVROPSKÁ UNIE



MINISTERSTVO ŠKOLSTVÍ,
MLÁDEŽE A TĚLOVÝCHOVY



OP Vzdělávání
pro konkurenceschopnost

INVESTICE DO ROZVOJE VZDĚLÁVÁNÍ

Násobilka 2



JDE TI TO!!!



INVESTICE DO ROZVOJE VZDĚLÁVÁNÍ