

Procvičování násobilky

Matematika a její aplikace (matematika pro 2. a 3. ročník)

Číslo projektu: CZ.1.07/1.4.00/21.0866

Šablona: III/2 Inovace a zkvalitnění výuky prostřednictvím ICT

Název: VY_32_INOVACE_15_PROCVIČOVÁNÍ NÁSOBILKY

Sada: 1

Druh materiálu: DUM MA č. 15

Jméno autora: Mgr. Žaneta Gruntová

Škola: ZŠ A MŠ Cholina, okres Olomouc, příspěvková organizace, Cholina 35, 783 22

Datum vytvoření: 29. 12. 2011

Předmět: Matematika

Ročník: druhý, třetí

Anotace: Materiál (DUM) určený k procvičení násobilky.

Je určen ke společné práci, která proběhne na interaktivní tabuli.

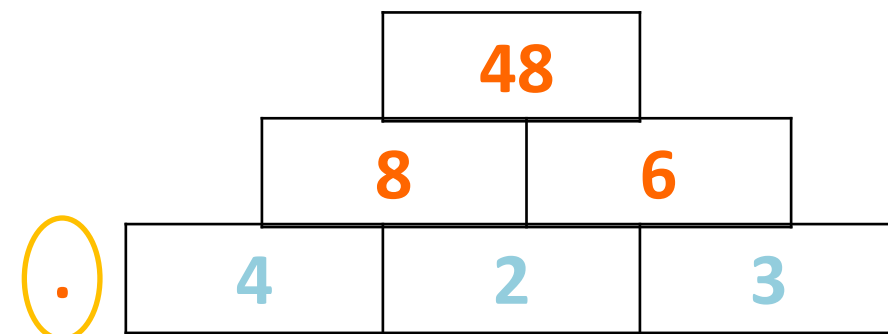
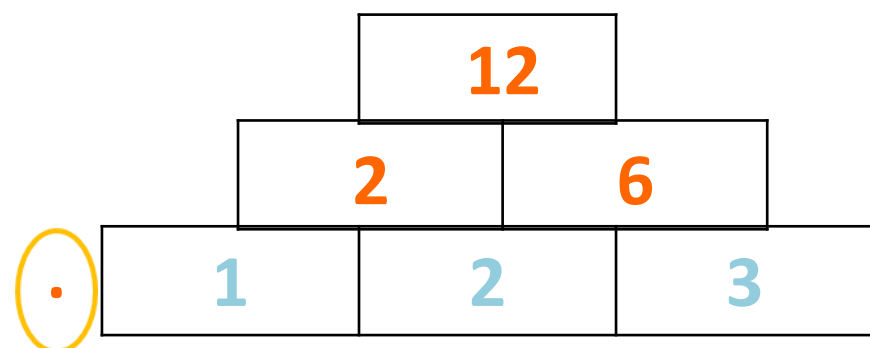
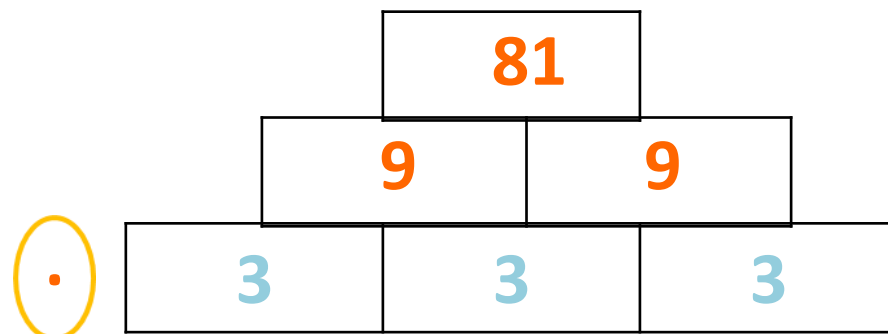
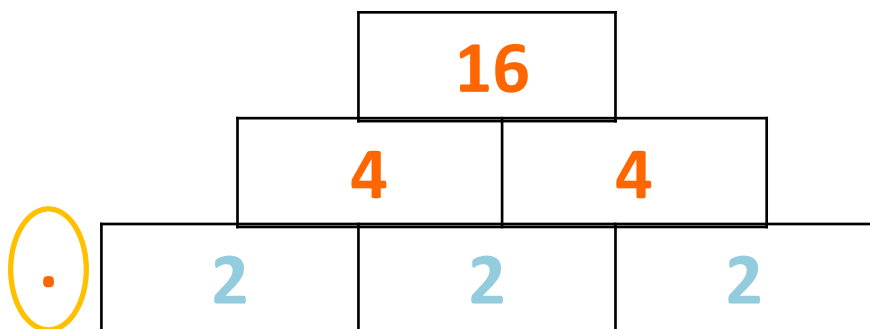
Klíčová slova: matematická pyramida, násobky

Zdroje: archiv autorky



Procvičování násobilky

Vypočítej matematickou pyramidu.



Procvičování násobilky

Zařaď čísla do mráčků.

NÁSOBILKA 8

49

28

48

27

24

NÁSOBILKA 9

64

NÁSOBILKA 7

45

81

56

Procvičování násobilky

Počítej.

$4 \cdot 6 = 24$

$5 \cdot 2 = 10$

$3 \cdot 8 = 24$

$7 \cdot 4 = 28$

$9 \cdot 5 = 45$

$4 \cdot 9 = 36$

$3 \cdot 4 = 12$

$6 \cdot 2 = 12$

$8 \cdot 5 = 40$

$27 : 3 = 9$

$54 : 9 = 6$

$72 : 8 = 9$

$14 : 2 = 7$

$20 : 5 = 4$

$24 : 8 = 3$

$36 : 6 = 6$

$35 : 7 = 5$

$64 : 8 = 8$

$16 : 4 = 4$

$32 : 8 = 4$

$48 : 6 = 8$