

Číslo materiálu: VY 32 INOVACE 30/3

Název materiálu: Testování žáků 4. a 5. tříd

Taktové označení, tečka u
noty, prima/seconda volta

Zpracoval: Mgr. Bc. BcA. Michal Jančík

ANOTACE

Škola: Základní škola Brno, Jana Babáka 1

Vypracoval: Mgr. Bc. BcA. Michal Jančík

Období vzniku materiálu: školní rok 2012/2013

Číslo materiálu: VY 32 INOVACE 30/3

Vzdělávací oblast: Umění a kultura

Předmět: Hudební výchova

Ročník: 4., 5.

Klíčová slova: takt – taktové označení – tečka u noty – prima volta – seconda volta

Předpokládané cíle vedoucí ke klíčovým kompetencím: žák rozumí pojmům takt, taktové označení, prima/seconda volta, používá jich při praktickém muzicírování i při teoretické reflexi

Použité výukové metody: individuální práce

Předpokládané pomůcky: notebook, interaktivní tabule

Popis prezentace materiálu: Microsoft Office Word

Způsob hodnocení: známkou

Bibliografie:

Testování žáků – 4. a 5.třída


Jméno: _____

Třída: _____

1. Kam se uvádí taktové označení?
2. Taktové označení se skládá ze dvou čísel. Napiš:
 - a) co určuje vrchní číslo –
 - b) co určuje spodní číslo -
3. K čemu slouží repetice?
4. Napiš repetici tak, aby se opakoval celý tento notový řádek.




5. Napiš názvy „znamének“, od kterých vycházejí šipky.



6. K čemu tato označení ve skladbách a písničkách slouží?

7. K čemu slouží tečka u noty?

8. Napiš, na kolik dob jsou tyto noty:



Testování žáků – 4. a 5.třída

Jméno: _____

Třída: _____

1. Kam se uvádí taktové označení?

Za houslový klíč.

2. Taktové označení se skládá ze dvou čísel. Napiš:

c) Co určuje vrchní číslo - počet dob v taktu

d) Co určuje spodní číslo - která nota se počítá na jednu dobu


3. K čemu slouží repetice?

Slouží k naznačení opakování určitého úseku písničky či skladby.

4. Napiš repetici tak, aby se opakoval celý tento notový řádek.



5. Napiš názvy „znamének“, od kterých vycházejí šipky.



6. K čemu tato označení ve skladbách a písničkách slouží?

Při prvním zpívání či hraní úseku s repeticí se zpívá či hraje takt, který je označený PRIMA VOLTOU, ale při opakování se takt pod prima voltou vypouští a rovnou se hraje takt označený SECONDA voltou

7. K čemu slouží tečka u noty?

Prodlužuje notu o POLOVINU JEJÍHO TRVÁNÍ

8. Napiš, na kolik dob jsou tyto noty:

