



evropský
sociální
fond v ČR



EVROPSKÁ UNIE



MINISTERSTVO ŠKOLSTVÍ,
MLÁDEŽE A TĚLOVÝCHOVY



OP Vzdělávání
pro konkurenceschopnost

INVESTICE DO ROZVOJE VZDĚLÁVÁNÍ

Třetí průmětna

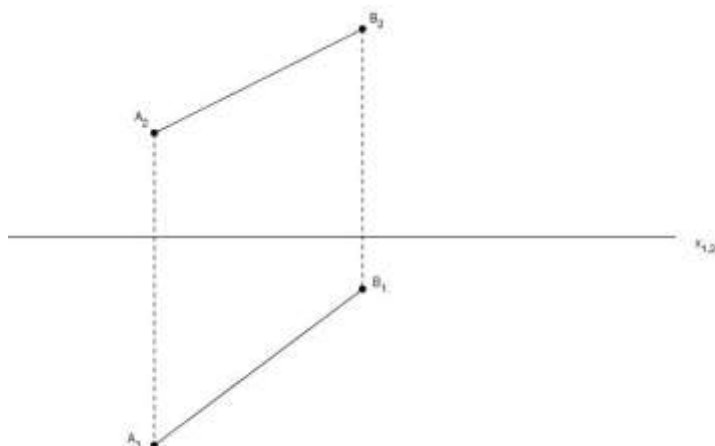
Autorem materiálu a všech jeho částí, není-li uvedeno jinak, je Martina Jarolímková.

Materiál je dostupný ze školního portálu <http://dum.voss-na.cz>, který provozuje
Vyšší odborná škola stavební a Střední průmyslová škola stavební arch. Jana Letzela, Náchod

Zadání

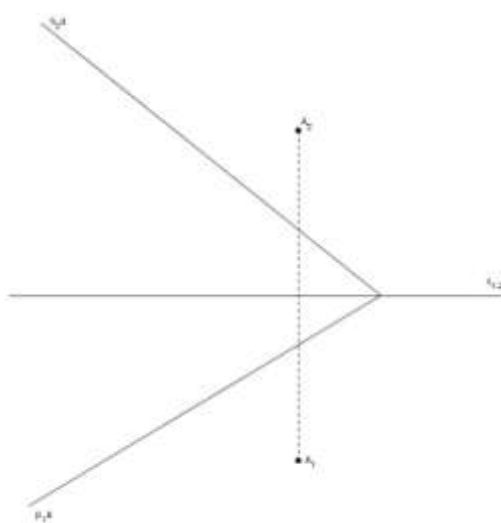
Příklad č. 1:

Pomocí třetí průmětny sestrojte délku úsečky AB.



Příklad č. 2:

Pomocí třetí průmětny sestrojte vzdálenost bodu A od roviny ρ .

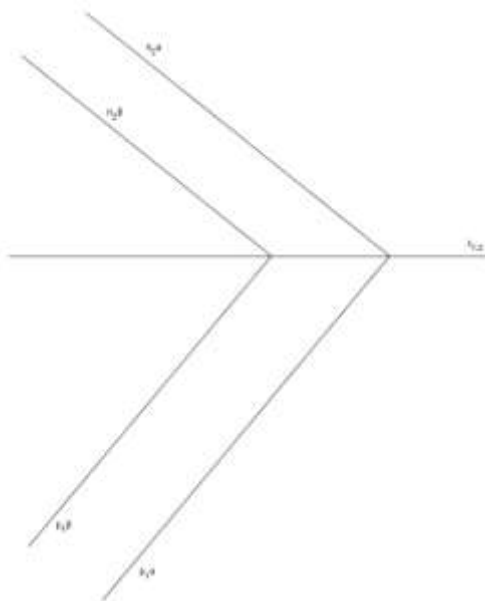


Autorem materiálu a všech jeho částí, není-li uvedeno jinak, je Martina Jarolímková.

Materiál je dostupný ze školního portálu <http://dum.voss-na.cz>, který provozuje
Vyšší odborná škola stavební a Střední průmyslová škola stavební arch. Jana Letzela, Náchod

Příklad č. 3:

Pomocí třetí průmětny sestrojte vzdálenost dvou rovin α a β .



Autorem materiálu a všech jeho částí, není-li uvedeno jinak, je Martina Jarolímková.

Materiál je dostupný ze školního portálu <http://dum.voss-na.cz>, který provozuje
Vyšší odborná škola stavební a Střední průmyslová škola stavební arch. Jana Letzela, Náchod