



evropský
sociální
fond v ČR



EVROPSKÁ UNIE



MINISTERSTVO ŠKOLSTVÍ,
MLÁDEŽE A TĚLOVÝCHOVY



OP Vzdělávání
pro konkurenceschopnost

INVESTICE DO ROZVOJE VZDĚLÁVÁNÍ

č. 20

číslo a název klíčové aktivity	IV/2 Inovace a zkvalitnění výuky směřující k rozvoji matematické gramotnosti žáků základních škol
název materiálu	VY_42_INOVACE_20_Ma8_Zlomky – zápis podle obrázku
téma	Zlomky
anotace	Pracovní list je zaměřen na práci se zlomky. Grafické vyjádření zlomků.
očekávaný výstup	Zvládnutí zápisu zlomků podle obrázku. Vyznačení zlomků.
druh učebního materiálu	Pracovní list
ročník	8.

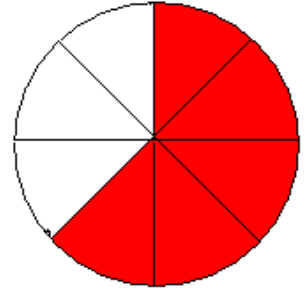
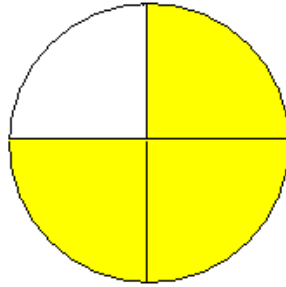
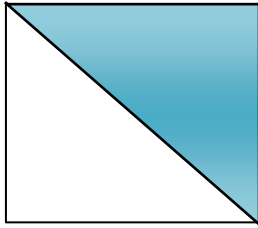
Autorem materiálu a všech jeho částí, není-li uvedeno jinak, je Jaroslava Fartsalasová

„SLUNCE“ CZ.1.07/1.4.00/21.1192

Tento projekt je spolufinancován Evropským sociálním fondem a státním rozpočtem České republiky

Zlomky – zápis podle obrázku

1/ Zapiš zlomkem vybarvenou část obrázku.



Zlomek: _____

Zlomek: _____

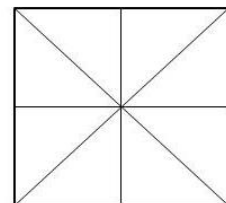
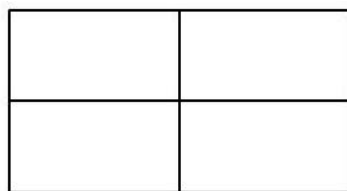
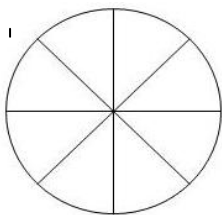
Zlomek: _____

2/ Vyznač barevně v obrázcích následující zlomky:

$$\frac{3}{8}$$

$$\frac{2}{4}$$

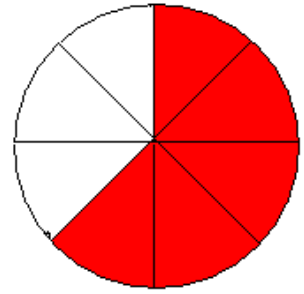
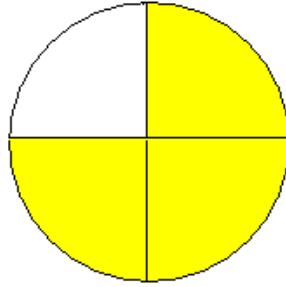
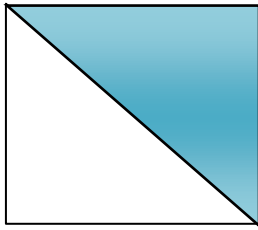
$$\frac{5}{8}$$



Výsledky

Zlomky – zápis podle obrázku

1/ Zapiš zlomkem vybarvenou část obrázku.



Zlomek:

Zlomek:

Zlomek:

$$\frac{1}{2}$$

$$\frac{3}{4}$$

$$\frac{5}{8}$$

2/ Vyznač barevně v obrázcích následující zlomky:

$$\frac{3}{8}$$

$$\frac{2}{4}$$

$$\frac{5}{8}$$

