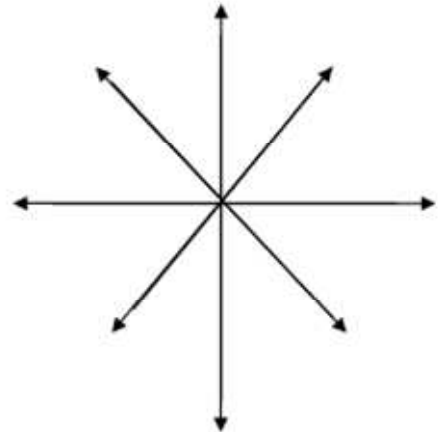
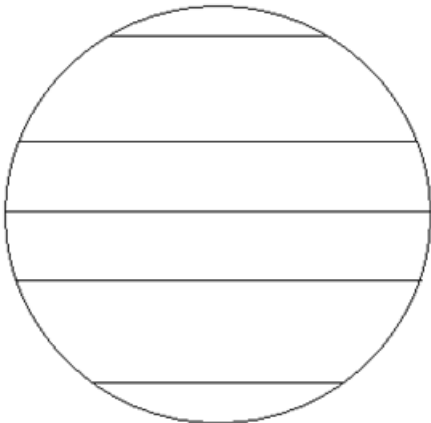


INVESTICE DO ROZVOJE VZDĚLÁVÁNÍ

Název:	VY_32_INOVACE_Z_6A_13CH
Škola:	Základní škola Nové Město nad Metují, Školní 1000, okres Náchod
Autor:	Mgr. Adéla Nosková
Ročník:	6. A
Tematický okruh, předmět:	Využívání informačních a komunikačních technologií, zeměpis
Téma:	Test mapa, glóbus – varianta A,B
Číslo projektu:	CZ.1.07/1.4.00/21.2336
Datum:	10. 1. 2013
Anotace:	Test je zadán po probrání a procvičení příslušné části učiva. Žáci mají k dispozici atlas. Žáci mají před sebou papírovou podobu testu. Odpovědi píšou do testových sešitů. Zároveň je test promítán na interaktivní tabuli. Je to vhodné pro okamžitou kontrolu testu.

TEST – A – Mapa, glóbus

1. Co je to mapa?
2. Napište tři způsoby, kterými znázorňujeme na mapách výškopis.
3. Co jsou to vrstevnice?
4. Měřítko mapy je 1 : 5 000 000. Vzdálenost na mapě mezi dvěma místy jsme naměřili 6 cm. Jaká je jejich skutečná vzdálenost?
5. Měřítko mapy je 1 :25 000. Vzdálenost na mapě mezi dvěma místy jsme naměřili 2 cm. Jaká je jejich skutečná vzdálenost?
6. Vypočítejte měřítko mapy, kde 2 cm na mapě odpovídají 1km ve skutečnosti. Mapa má měřítko 1 : 25 000. Skutečná vzdálenost mezi dvěma místy je 1,5 km. Jaká je jejich vzdálenost na mapě?
8. Nakreslete smluvenou značku pro zříceninu, pomník, restauraci.
9. Překreslete a pojmenujte významné rovnoběžky. Doplňte k nim hodnoty (čísla) ve stupních (°).
10. Překreslete a pojmenujte všechny světové strany.



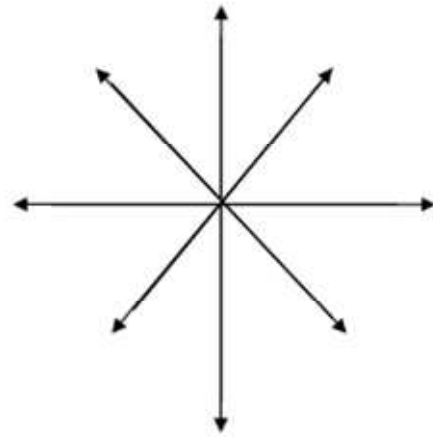
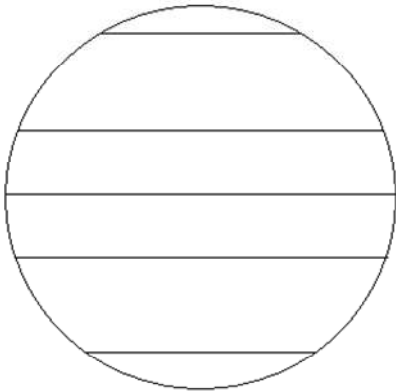
11. Najděte místa, která jsou určena těmito souřadnicemi.

70° s. š., 40° z. d. (ostrov)
28° s. š., 82° z. d. (poloostrov)

12. Kolik hodin je ve městě Perthu (Austrálie), když v Londýně je 10 hodin?

TEST – B – Mapa, glóbus

1. Co je to glóbus?
2. Pomocí čeho znázorňujeme na mapách polohopis?
Jak se nazývá jejich seznam (toho, co určuje polohopis) u každé mapy?
Co víte o popisu (písmu) na mapách?
3. Uveďte dva příklady tematické mapy.
4. Měřítko mapy je 1 : 1 000 000. Vzdálenost na mapě mezi dvěma místy jsme naměřili 10 cm.
Jaká je jejich skutečná vzdálenost?
5. Měřítko mapy je 1 :50 000. Vzdálenost na mapě mezi dvěma místy jsme naměřili 2 cm.
Jaká je jejich skutečná vzdálenost?
6. Vypočítejte měřítko mapy, kde 2 cm na mapě odpovídají 250 m ve skutečnosti.
7. Mapa má měřítko 1 : 25 000. Skutečná vzdálenost mezi dvěma místy je 500 m.
Jaká je jejich vzdálenost na mapě?
8. Nakreslete smluvenou značku pro hrad, kostel, místo rozhledu.
9. Překreslete a pojmenujte významné rovnoběžky. Doplňte k nim hodnoty (čísla) ve stupních (°).
10. Překreslete a pojmenujte všechny světové strany



11. Najděte místa, která jsou určena těmito souřadnicemi.

42° j. š., 148° v. d. (ostrov)
17° s. š., 90° v. d. (záliv)

12. Kolik hodin je ve městě Rio de Janeiro (Jižní Amerika, Brazílie), když v Londýně je 10 hodin.

TEST - A - Mapa, glóbus 6.ročník – správné odpovědi

- | | |
|--|-------|
| 1. Zmenšené zobrazení povrchu Země v rovině. | 1 bod |
| 2. Kótou, vrstevnicemi, barvami (odstíny hnědé, zelená) | 3b |
| 3. Myšlené čáry, které spojují místa se stejnou nadmořskou výškou. | 2b |
| 4. 300 km | 1b |
| 5. 0,5 km | 1b |
| 6. 1 : 50 000 | 1b |
| 7. 6 cm | 1b |
| 8. Smluvené značky – viz učebnice | 3b |
| 9. severní pól 90°s.š., severní polární kruh 66,5°s.š.,
obratník Raka 23,5°s.š., rovník 0°, obratník Kozoroha 23,5 j.š.,
jižní polární kruh 66,5°j.š., jižní pól 90°j.š. | 7b |
| 10. S, J, V, Z, SV, SZ, JV, JZ | 4b |
| 11. Grónsko, Florida | 2b |
| 12. 18 hodin | 1b |

Hodnocení:

27 – 25 bodů	1
24 – 19 bodů	2
18 – 13 bodů	3
12 – 6 bodů	4
5 – 0 bodů	5

TEST - B - Mapa, glóbus 6.ročník – správné odpovědi

- | | |
|--|------|
| 1. Zmenšený model Země. | 1bod |
| 2. Pomocí smluvených značek. Legenda.
Používá se různá velikost, typ, barva písma. | 3b |
| 3. Politická, mapa zemědělství, průmyslu... | 2b |
| 4. 100 km | 1b |
| 5. 1 km | 1b |
| 6. 1 : 12 500 | 1b |
| 7. 2 cm | 1b |
| 8. Smluvené značky – viz učebnice | 3b |
| 9. severní pól 90°s.š., severní polární kruh 66,5°s.š.,
obratník Raka 23,5°s.š., rovník 0°, obratník Kozoroha 23,5 j.š.,
jižní polární kruh 66,5°j.š., jižní pól 90°j.š. | 7b |
| 10. S, J, V, Z, SV, SZ, JV, JZ | 4b |
| 11. Tasmánie, Bengálský záliv | 2b |
| 12. 7 hodin | 1b |

Hodnocení:

27 – 25 bodů	1
24 – 19 bodů	2
18 – 13 bodů	3
12 – 6 bodů	4
5 – 0 bodů	5