



evropský
sociální
fond v ČR



EVROPSKÁ UNIE



MINISTERSTVO ŠKOLSTVÍ,
MLÁDEŽE A TĚLOVÝCHOVY



OP Vzdělávání
pro konkurenceschopnost

INVESTICE DO ROZVOJE VZDĚLÁVÁNÍ

Název:	VY_32_INOVACE_MA_3A_15I
Škola:	Základní škola Nové Město nad Metují, Školní 1000, okres Náchod
Autor:	Mgr. Ivana Hackerová
Ročník:	3.
Tematický okruh, předmět:	Využívání informačních a komunikačních technologií - geometrie
Téma:	Geometrická tělesa a tvary, přímky
Číslo projektu:	CZ.1.07/1.4.00/21.2336
Datum:	7. prosince 2012
Anotace:	Zadání práce bylo promítáno dataprojektorem na promítací plátno. Práce je připravena jako opakování učiva, pracovní listy jsou připraveny pro skupinu A, B. Časová dotace: 15 - 20 minut

INVESTICE DO ROZVOJE VZDĚLÁVÁNÍ

skupina A

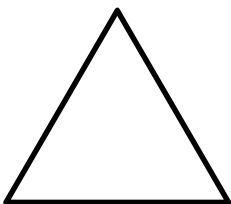
Jméno: _____

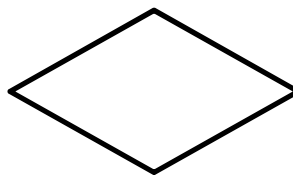
1. Pečlivě narýsuj:


Vyznač dva body K, L. Narýsuj přímku, která těmito body prochází. Vyznač bod C, který na přímce neleží.

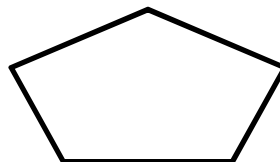
2. Narýsuj a pojmenuj dvě přímky tak, aby byly různoběžné. Vyznač a pojmenuj jejich společný bod.

3. Pojmenuj geometrické útvary:

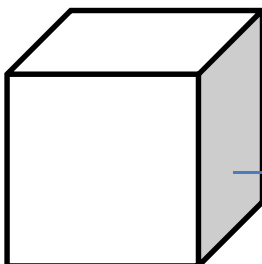








4. Pojmenuj označené části tělesa:



INVESTICE DO ROZVOJE VZDĚLÁVÁNÍ

skupina B

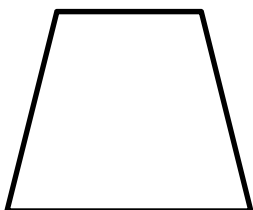
Jméno: _____

1. Pečlivě narýsuj:


Vyznač dva body O, P. Narýsuj přímku, která těmito body prochází. Vyznač bod B, který na přímku neleží.


2. Narýsuj a pojmenuj dvě přímky tak, aby byly různoběžné. Vyznač a pojmenuj jejich společný bod.

3. Pojmenuj geometrické útvary:

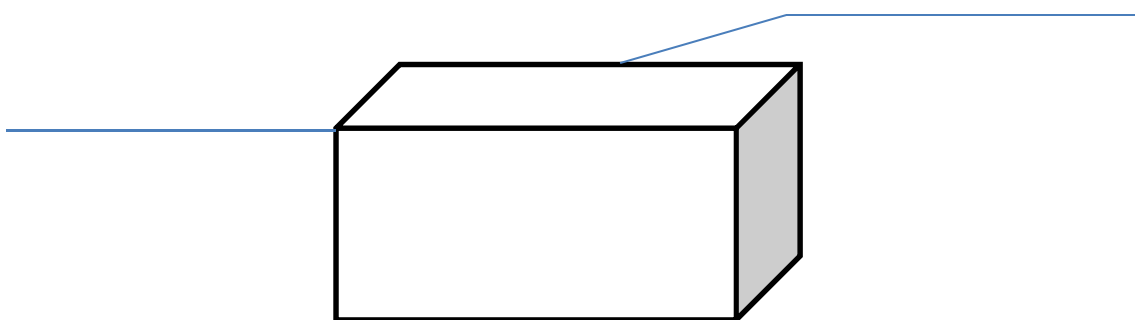








4. Pojmenuj označené části tělesa:





INVESTICE DO ROZVOJE VZDĚLÁVÁNÍ