



INVESTICE DO ROZVOJE VZDĚLÁVÁNÍ

Název:	VY_32_INOVACE_MA_3A_16I
Škola:	Základní škola Nové Město nad Metují, Školní 1000, okres Náchod
Autor:	Mgr. Ivana Hackerová
Ročník:	3.
Tematický okruh, předmět:	Využívání informačních a komunikačních technologií - geometrie
Téma:	Jednotky délky, strany geometrických útvarů, přímky a úsečky
Číslo projektu:	CZ.1.07/1.4.00/21.2336
Datum:	22. ledna 2013
Anotace:	Zadání práce bylo promítáno dataprojektorem na promítací plátno. Práce je připravena jako opakování učiva, pracovní listy jsou připraveny pro skupinu A, B. Časová dotace: 20 minut

INVESTICE DO ROZVOJE VZDĚLÁVÁNÍ

skupina A

Jméno: _____

1. Doplně správně zkratky jednotek délky:

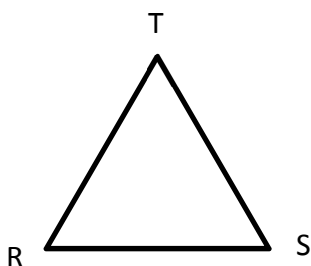
1 centimetr = _____


1 decimetr = _____

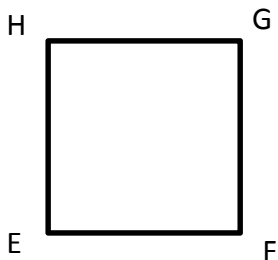
1 kilometr = _____

1 milimetr = _____

2. Zapiš správně názvy stran geometrických tvarů:







3. Narýsuj přímku s a úsečku CD.



evropský
sociální
fond v ČR



EVROPSKÁ UNIE



MINISTERSTVO ŠKOLSTVÍ,
MLÁDEŽE A TĚLOVÝCHOVY



OP Vzdělávání
pro konkurenceschopnost

INVESTICE DO ROZVOJE VZDĚLÁVÁNÍ

4. Narýsuj úsečku EF, která měří 7 centimetrů. Na řádek správně zapiš velikost úsečky.



5. Vyznač bod S. Bodem S narýsuj 3 různoběžné přímky.



evropský
sociální
fond v ČR



EVROPSKÁ UNIE



MINISTERSTVO ŠKOLSTVÍ,
MLÁDEŽE A TĚLOVÝCHOVY



OP Vzdělávání
pro konkurenceschopnost

INVESTICE DO ROZVOJE VZDĚLÁVÁNÍ

skupina B

Jméno: _____

1. Dopln správně zkratky jednotek délky:

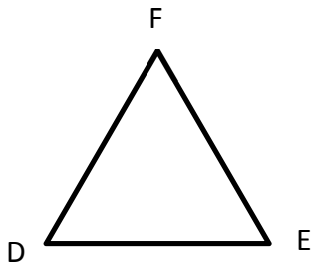
1 milimetr = _____


1 kilometr = _____

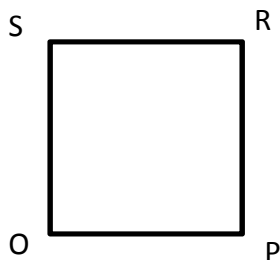
1 centimetr = _____

1 metr = _____

2. Zapiš správně názvy stran geometrických tvarů:







3. Narýsuj přímku b a úsečku KL.



evropský
sociální
fond v ČR



EVROPSKÁ UNIE



MINISTERSTVO ŠKOLSTVÍ,
MLÁDEŽE A TĚLOVÝCHOVY



OP Vzdělávání
pro konkurenceschopnost

INVESTICE DO ROZVOJE VZDĚLÁVÁNÍ

4. Narýsuj úsečku TU, která měří 5 centimetrů. Na řádek správně zapiš velikost úsečky.



5. Vyznač bod M. Bodem M narýsuj 3 různoběžné přímky.